

准考证号：

姓名：

展鸿 2020 年浙江省公务员录用考试试卷
《行政职业能力测验》 《申论》

重要提示：

为维护您的个人权益，确保考试的公平公正，请您协助我们监督考试实施工作。

本场考试规定：监考老师要向本考场全体考生展示题本密封情况，并邀请 2 名考生代表签字后，方能开启试卷袋

条形码黏贴处

请将此条形码揭下，
贴在答题卡指定位置

展鸿 2020 年浙江省公务员录用考试试卷
《行政职业能力测验》模拟卷（一）

注意事项

1. 这项测验共有五个部分，100 道题，总时限为 90 分钟。各部分不分别计时，但都给出了参考时限，供答题时参考。
2. 请将姓名与准考证号在指定位置上用黑色字迹的钢笔、签字笔或圆珠笔填写，并用 2B 铅笔在准考证号对应的数字上填涂。
3. 请将题本上的条形码揭下，贴在答题卡指定位置。没有贴条形码的答题卡将按作废卡处理，成绩记为零分。
4. 题目应在答题卡上作答，在题本上作答一律无效。
5. 待监考老师宣布考试开始后，你才可以开始答题。
6. 监考老师宣布考试结束时，你应立即停止作答，将题本、答题卡和草稿纸都翻过来放在桌上，待监考老师确认数量无误、发出离开指令后，方可离开考场。
7. 试题答错不倒扣分。
8. 严禁折叠答题卡！

第一部分 常识判断

（共 15 题，参考时限 10 分钟）

根据题目要求，在四个选项中选出一个最恰当的答案。

请开始答题：

1. 2020 年 6 月 16 日，《求是》杂志发表国家主席习近平的重要文章《充分认识颁布实施民法典重大意义，依法更好保障人民合法权益》。关于民法典的论述，下列说法错误的是（ ）。
 - A. 是一部固根本、稳预期、利长远的基础性法律
 - B. 是一部体现对生命健康、财产安全、公共安全、国家安全等各方面权利平等保护的民法典
 - C. 是新中国成立以来第一部以“法典”命名的法律
 - D. 是一部体现我国社会主义性质、符合人民利益和愿望、顺应时代发展要求的民法典
2. 关于光污染的危害，下列理解错误的是（ ）。
 - A. 我国高中生近视率达 60% 以上的主要原因是不良的用眼习惯所致，光污染影响很小
 - B. 夜间，各种霓虹灯、广告灯形成了“人工白昼”，扰乱人体正常生物钟
 - C. 光污染是继水污染、大气污染、噪声污染、固体废弃物污染之后的第五大污染
 - D. 彻夜亮灯睡觉，夜间使用的小夜灯，都形成了光污染
3. 在铁饼比赛中，运动员会首先手握铁饼高速旋转几圈后再将其掷出。这样做，主要是为了让铁饼（ ）。

- A. 获得更大的角加速度
- B. 获得更大的角速度
- C. 获得更大的加速度
- D. 受到更大的力

4. 当今世界不稳定不确定因素明显增加，我们要坚持底线思维，居安思危、未雨绸缪，做好应付最坏局面的思想准备。下列表述体现了坚持底线思维的是（ ）。

- A. 政治建设方面绝不能犯颠覆性错误
- B. 经济建设方面努力实现高质量发展
- C. 文化建设方面要繁荣社会主义文艺
- D. 外交战略方面构建人类命运共同体

5. 下列关于我国金融常识的说法正确的是（ ）。

- A. 国债、股票、公司债券的投资风险依次递增
- B. 理财产品合同中的预期收益率是理财产品实际到期收益率
- C. 公众兑换票面残缺的人民币，要到中国人民银行指定的商业银行网点
- D. 自然人之间借贷如未约定利息，出借人欲主张支付利息，法院不予支持

6. 北极气候恶劣，冰雪无边，室外最低气温能达到零下 59 摄氏度，但冰屋却给那里的居民提供了温暖的住所。下列关于冰屋的说法，不正确的是（ ）。

- A. 冰屋能够保留其内部空间的热量，因为冰墙是热的不良导体
- B. 为了避免冷空气的进入，冰屋顶部应该被设计成密封圆拱形
- C. 冰屋一半陷入地下，通过冷暖空气对流来保证冰屋内部气温
- D. 冰屋的内壁较为光亮，可以通过辐射防止内部热量向外扩散

7. 关于生物净化，下列说法错误的是（ ）。

- A. 植物净化大气主要是通过叶片的作用实现的
- B. 海洋中降解石油烃的微生物主要是酵母
- C. 淡水生态系统中的生物净化，细菌起主导作用
- D. 生物净化能力都有一定的限度

8. 贾某经相亲与李某确立恋爱关系，贾某按照习俗给李某家送了彩礼。办理结婚登记手续后，开始准备婚礼。之后因贾某与李某感情破裂，办理了离婚登记手续，贾某要求李某返还彩礼，以下哪个理由可以得到法律支持？（ ）

- A. 彩礼金额远远超过当地平均水平
- B. 两人还未开始共同生活
- C. 贾某家当前因发生变故生活困难
- D. 两人还未举行婚礼

9. 下列关于日期的表述中，不正确的是（ ）。

- A. 4 月 22 日是“世界环境日”
- B. 3 月 12 日是我国的植树节
- C. 5 月 12 日是“世界护士节”
- D. 7 月 1 日是中国共产党的生日

10. 某些基因突变有可能给生物体带来繁殖优势，保证基因携带者的后代能够更好地适应某种环境，因而这类突变得以广泛传播。某科学研究团队发现，某个哺乳动物族群与这类动物的其它族群相比，存在一个基因突变，该突变具有调节血液中血红蛋白增长的作用。血红蛋白过低会导致缺氧，过高会导致血液粘稠度升高，进而引发血栓等血液循环问题。那么这一哺乳动物族群的祖先很可能是生活在（ ）地区。

- A. 高海拔 B. 海边 C. 寒带 D. 热带

11. 法国启蒙思想家伏尔泰在《论孔子》一书中写道：“没有任何立法者比孔夫子曾对世界宣布了更有用的真理。”在伏尔泰等一大批思想家的推动下，“己所不欲，勿施于人”被写进了《法兰西共和国宪法》。这从本质上说明了（ ）。

- A. 伏尔泰的思想和孔子思想一脉相承
B. 中国传统儒家思想对法国大革命产生了根本性影响
C. 启蒙思想家借用孔子思想宣传资产阶级思想
D. 法国大革命时期中法之间文化交流频繁

12. “鞋子合不合脚，自己穿着才知道，一个国家的发展道路合不合适，只有这个国家的人民才最有发言权。”下列古诗词蕴含的哲理与“鞋子合脚论”最相近的是（ ）。

- A. 沉舟侧畔千帆过，病树前头万木春 B. 古歌旧曲君休听，听取新翻杨柳枝
C. 问渠那得清如许，为有源头活水来 D. 纸上得来终觉浅，绝知此事要躬行

13. 湿地、海洋、森林并称为全球三大生态系统。其中，湿地拥有“地球之肾”的美誉，这是因为湿地（ ）。

- A. 具有维系二氧化碳和氧气的平衡，净化空气和环境的作用
B. 具有降解污染物、净化水质、维持自然生态健康平衡的作用
C. 对调节全球的热量分布有重要意义
D. 是水生动物、两栖动物、鸟类和其他野生生物的重要栖息地

14. 有清代学者在讨论唐诗时写道：“唐人作诗，惟适己意，不索人知其意。”在讨论宋诗时写道：“宋人作诗，欲人人知其意，故多直达。”下列诗句为唐朝人所作的是（ ）。

- A. 独怜幽草涧边生，上有黄鹂深树鸣。春潮带雨晚来急，野渡无人舟自横
B. 莫言下岭便无难，赚得行人空喜欢。正入万山圈子里，一山放过一山拦
C. 半亩方塘一鉴开，天光云影共徘徊。问渠那得清如许，为有源头活水来
D. 飞来山上千寻塔，闻说鸡鸣见日升。不畏浮云遮望眼，自缘身在最高层

15. 下列选项中，导热性最好的是（ ），它比大多数气体的导热系数高出 10 倍，在能源工业中是极好的传热导体。

- A. 氢气 B. 氧气 C. 氮气 D. 氦气

第二部分 言语理解与表达

（共 25 题，参考时限 25 分钟）

本部分包括表达与理解两方面的内容。请根据题目要求，在四个选项中选出一个最恰当的答案。

请开始答题：

16. 伴随新型智能终端的加速普及，以 5G 为代表的移动通信技术有力地推动着人工智能、物联网、大数据、云计算等技术蓬勃发展，连接服务的内涵正在从人与人通信延伸到人与物、物与物的智能连接，

万物互联的 5G 时代_____。

填入划横线部分最恰当的一项是（ ）。

- A. 初露头角 B. 迫在眉睫 C. 粉墨登场 D. 指日可待

17. 在网络书店的强有力竞争下，不少实体书店_____，而书店的租金、人工等费用却在猛增。这时候通过装修店面，给读者带来全新的感受，不失为一个好办法。实际上，与网络书店相比，实体书店能给人带来独特的体验，那就是逛书店。

填入划横线部分最恰当的一项是（ ）。

- A. 入不敷出 B. 进退维谷 C. 门可罗雀 D. 万人空巷

18. 对文艺精品的判断，时间验证较之空间效应更为重要。遗憾的是，当下某些人的创作_____是：急功近利，注重眼前的实惠，难耐寂寞，对空间效应的追求远大于对时间验证的关注，因而作品中从生活到艺术都_____“将来时态”和“未来意识”。

填入划横线部分最恰当的一项是（ ）。

- A. 现象 需要 B. 事实 欠缺 C. 趋势 寻求 D. 倾向 缺乏

19. 经过一年多的探索，我国自然资源统一_____登记试点取得积极进展。_____2018 年 10 月，12 个省份、32 个试点区域共划定自然资源登记单元 1191 个，此项登记总面积 186727 平方公里，并对国家公园、湿地、水流、矿产等资源进行了进一步登记试点。

依次填入划横线部分最恰当的一项是（ ）。

- A. 物权 截止 B. 确权 截至 C. 保护 至此 D. 确认 截至

20. 经典不产自_____的冥想，而源于_____的共鸣。作者自身树立经典意识、在艺术上精益求精；网站编辑把好品质关，及时发掘推荐有潜力的作品；网站、读者、评论家和监管部门也可齐心协力，营造有利环境。

依次填入划横线部分最恰当的一项是（ ）。

- A. 隔绝 协作 B. 隔空 合作 C. 虚空 现实 D. 浅层 深度

21. 在万灵古镇的濑溪河畔，烟雨朦胧，气息_____，宁静且有着避世的烟火，深厚的历史文化在这里交融，古寨、古桥和灵动的河水融汇成一幅水墨画卷，能够让人徘徊在桥水之间，_____于烟雨小道。

依次填入划横线部分最恰当的一项是（ ）。

- A. 氤氲 徜徉 B. 旖旎 踌躇 C. 绮丽 盘桓 D. 潋滟 留连

22. 国学内容浩如烟海、博大精深，即使皓首穷经、焚膏继晷也无法_____。同时，国学本身毕竟是古代社会留下来的历史文化遗产，精华与糟粕并存。因此，国学研究应有一个_____的过程。

依次填入划横线部分最恰当的一项是（ ）。

- A. 曲尽其妙 去伪存真 B. 一应俱全 披沙拣金
C. 兼容并包 大浪淘沙 D. 博古通今 千锤百炼

23. 宋代真是大发宏愿的时代，绘画写实技巧_____，无论花鸟还是山水，与自然物象_____。恰恰宋代又是我国古代科技发展的高峰，双峰对峙，正是“图像证史”一展身手的大舞台。

依次填入划横线部分最恰当的一项是（ ）。

- A. 炉火纯青 不分轩轻 B. 目无全牛 不分畛域
C. 登堂入室 不谋而同 D. 登峰造极 不爽毫厘

24. 新，还往往伴随着快。新业态的成长有时快到_____、机会宝贵到稍纵即逝，好像逼着经营者不得不“多干快上”。但从另一个角度看，新业态往往又更敏感、更脆弱、不确定性更大，更加容不得_____、“蒙眼狂奔”。

依次填入下列横线处的词语，最恰当的一组是（ ）。

- A. 一日千里 急功近利 B. 突飞猛进 好大喜功
C. 日新月异 浮光掠影 D. 应接不暇 好高骛远

25. 即便是比较严肃的史学著作，在习惯了一种写作和思维路径后，也很难有别的考察和分析视角。这样一来，人们读到的史书就难免_____，这在一定程度上使读者_____。

依次填入划横线部分最恰当的一项是（ ）。

- A. 如出一辙 心不在焉 B. 人云亦云 不求甚解
C. 众口一词 味同嚼蜡 D. 大同小异 兴味索然

26. 一个人走在森林里，膨胀的暖流扑面而来，仿佛热气从暖炉中_____而出。随着森林的浓密稀疏，温热的空气或膨胀、或减弱。湿润的凉意令人感到河道的存在，它们虽早已_____，但泥土中仍_____着湿气。

依次填入划横线处最恰当的一项是（ ）。

- A. 流泻 干涸 残存 B. 汹涌 断流 留存
C. 肆意 枯竭 保存 D. 奔腾 湮灭 残留

27. 林黛玉的破碎，在于她_____的爱情；三毛的破碎，源于她经历_____后一刹那的超脱和明彻；梵高的破碎，是太阳用黄金的刀子让他在光明中不断剧痛；贝多芬的破碎，则是灵性至极的黑白键撞击生命的_____乐章。

依次填入划横线部分最恰当的一项是（ ）。

- A. 轰轰烈烈 痛苦 悲伤 B. 刻骨铭心 沧桑 悲壮
C. 平平常常 磨炼 凄美 D. 惊天动地 磨难 壮美

28. 不必回避世界遗产的经济价值，但世界遗产首先是世界上独一无二的珍贵资源，不能视同普通经济资源来开发利用；同时世界遗产是必须妥善保护的资源，脆弱、易损，具有不可再生性，一旦破坏就会造成不可逆转的损失，在保护与开发利用间，无疑应以保护为主。再者，世界遗产是全人类共有的资源，绝不仅仅属于遗产所在地，更不能作为利益集团的独有经济资源而被随意当成摇钱树。世界遗产还属于代际资源，在利用上要体现代际公平，我们负有将其完整地传给子孙后代的重大责任，要可持续利用。

对这段文字的主旨概括最准确的是（ ）。

- A. 世界遗产重在保护而非开发 B. 世界遗产的保护意识有待加强
C. 世界遗产是全人类共有的财富 D. 世界遗产是不可再生的珍贵资源

29. 某科技杂志刊文, 介绍了一种可“自愈”橡胶。普通橡胶里的分子由高强度的共价键相连, 断裂后无法恢复。于是科研人员将其改由氢键连接, 在此基础上开发了一种“分子绳”, 将原本很难共处的氢键和共价键结合在一起, 允许它们在分子尺度上均匀混合, 从而制造出一种透明坚韧的可“自愈”橡胶。这种新型橡胶受到拉力时会出现网状纹路, 形似裂纹但不会完全裂开, 并形成一些纤维状的连接物。拉力消失后, 橡胶恢复原状。这项技术可用于制造军用装备的轮胎, 受损后无须立即更换, 可提高其战场生存能力。

这段文字没有提及“自愈”橡胶的()。

- A. 特殊性能 B. 科学原理 C. 功能缺陷 D. 应用前景

30. 所谓信息加工的观点就是将人脑与计算机进行类比, 将人脑看作类似于计算机的信息加工系统。但是这种类比只是机能性质的, 也就是在行为水平上的类比, 而不管作为其物质构成的生物细胞和电子元件的区别。换句话说, 这种类比只涉及软件而不涉及硬件。

这段话中“硬件”指代的是()。

- A. 机能性质 B. 行为水平 C. 物质构成 D. 生物细胞和电子元件

31. ①进行良好的时间管理, 同时需要这些品质

②把握好间隔和规律正是时间管理的内容

③当鸡蛋越来越多, 情况越来越糟的时候, 你要有能力控制局面

④进行时间管理, 就好像抛鸡蛋

⑤要做好抛鸡蛋的动作, 需要耐心、毅力、练习和计划

⑥你要不停地把手中的一只鸡蛋换成另一只, 还要保持所有的鸡蛋都不落到地上

将以上 6 个句子重新排序, 语序正确的是()。

- A. ②④③⑥⑤① B. ⑤①⑥④③② C. ②④⑤⑥①③ D. ④⑥⑤①③②

32. ①用人的关键并不在于用这个人而不用那个人, 而在于怎样使组织中的每个成员都能得到最适当的位置, 发挥最大的潜能

②在不同的情境和条件下, 长与短都会向自己的对立面转化, 长的可以变短, 短的可以变长

③扬长避短是用人的基本策略

④这种长与短互换的规律, 是长短辩证关系中最容易被忽视的一部分

⑤管理者的高明之处, 就在于短中见长, 善用其短

⑥然而, 在现实生活中, 人的长处和短处并不是绝对的, 没有静止不变的长, 也没有一成不变的短

将以上 6 个句子重新排列, 语序最恰当的是()。

- A. ③⑥②④①⑤ B. ⑤④⑥②①③ C. ②⑤④①③⑥ D. ①⑤⑥③②④

33. 在知情同意方面, 由于绝大部分没有专业知识的受试者对基因治疗的原理无法准确理解, 因而很难真正完全知晓其所承担的风险。另一个风险是由于很多基因治疗所针对的是严重的遗传疾病, 因而通常需要在病人婴儿或儿童时期治疗, 但此时是否做基因治疗的知情同意和选择将取决于其父母或监护人。父母或监护人是否有权为病人选择可能改变其体内部分细胞的基因目前也没有明确的共识。

这段文字意在强调()。

- A. 知情同意在基因治疗中的实现难度
- B. 基因治疗中医患关系的特殊性
- C. 基因治疗中医疗风险的特殊性
- D. 知情同意在基因治疗中的观念分歧

34. 创新源泉的另一个重要方向，就是面向历史的发掘。每一次回顾历史都可能是一次观念的清理和创新。研究和发掘新的史料，也是一次价值观的梳理。_____。重新发现历史，建立当下社会观念与历史价值的承继关系，这是奠定创新思维的一个重要因素。我们要在前人的肩膀上瞭望未来，不是简单地忽略或者漠视历史积累，不断重复曾经创新过程。

填入划横线部分最恰当的一句是（ ）。

- A. 历史无法重来
- B. 与其重读历史，不如创造历史
- C. 一切历史都是当代史
- D. 历史是胜利者的历史

35. 大数据是科学决策的重要工具，是高精度对未来进行预测的手段。数据是记录人类行为的工具。靠大数据技术对未来做一个预测和参考是人类发展的成果。但是，人际的沟通和交流不该因为大数据技术而遭弃，而过于依赖大数据的预测和推理，放弃人际沟通过程，必然产生人际沟通的弱化，进而影响到人的自由意志。

这段文字旨在强调（ ）。

- A. 大数据是科学决策的重要工具
- B. 大数据将发挥越来越重要作用
- C. 大数据不应弱化人际沟通
- D. 大数据影响人的自由意志

36. 美国政府再度把中国最大电商平台列入其“恶名市场”黑名单，这类市场以兜售假货而闻名。阿里巴巴辩称，美国政府这一决定背后或许存在政治动机。四年前，阿里巴巴旗下在线集市淘宝网在对假货展开打击后，被撤下了该黑名单。但现在，淘宝再度被列入了该黑名单。“尽管近来的措施令人对未来产生积极的期待，但目前报告的造假和盗版水平高得难以接受”，美国贸易代表办公室称。该机构负责编制《恶名市场审查报告》。阿里巴巴表示，它对这一决定感到“非常失望”。

最适合做这段文字标题的是（ ）。

- A. 淘宝再度被美国列入“恶名市场”黑名单
- B. 阿里巴巴与美国政府贸易摩擦
- C. 不公正的“恶名市场”黑名单
- D. 政治动机与跨国贸易

37. “物必先腐也，而后虫生之”，意味着事物的毁灭往往酿生于自身，物自败，尔后生机失，物不腐，虫何生？事物兴衰存亡，内因是决定性因素。由此推及人事，古代哲人尤其强调求仁在己，祸福在我。孟子曰：夫人必自侮，然后人侮之；家必自毁，然后人毁之；国必自伐，而后人伐之。《太甲》曰：天作孽，犹可违；自作孽，不可活。

上文作者意在强调（ ）。

- A. 人都是自己命运的主宰
- B. 事物的发展自有其渐进的过程和内在的必然逻辑
- C. 人不能自暴自弃
- D. 人要不断自我省视、自我激励与自我进取

38. 西方语言的书写形式是字母文字，这种文字既不表形，也不表意，而仅仅表音。这种纯粹记录语言的字母文字频繁地刺激人们的大脑，逐渐形成了西方人长于语言思维的特点。而汉语书写符号是方

块汉字，它不仅表音、还能表形、表意。这种音、形、意互相联系的文字，使中国人长于形象思维。

对这段文字的主旨概括最准确的是（ ）。

- A. 中西方文字的书写形式各有优势
B. 语言和思维有着密不可分的关系
C. 中西方的思维模式有着本质的不同
D. 不同书写形式的文字对思维有不同影响

39. 孔子的许多教诲，寓意都很深刻，诸如“己所不欲，勿施于人；发愤忘食，乐以忘忧，不知老之将至；见贤思齐焉，见不贤而内自省也；生而知之者，上也；学而知之者，次也；困而学之，又其次也；困而不学，民斯为下矣”等等，都不失为人之道。然而孔子这些优秀的思想历来都是统治者规范国家的政治制度、法律规范和伦理道德的强有力工具。

这段文字意在说明（ ）。

- A. 孔子优秀思想为统治者所利用
B. 孔子优秀思想为统治者所倡导
C. 统治者对孔子优秀思想的继承
D. 统治者对孔子优秀思想的赞美

40. 许多领导者不会和下属成为朋友，只追求合作伙伴的关系，其原因是担心掺杂了太多的情感因素会导致管理效率降低。事实上，职场最终是一个拼实力的地方，即使你的个性不受人欢迎、没什么资历和背景，只要有足够的能力，一样会赢得他人的尊敬和信任。职场中的信任，仅靠好感和情感认同是无法长期维系下去的，而是要靠实力去印证。

这段文字意在说明（ ）。

- A. 许多领导不会和下属成为朋友是怕掺杂太多的情感因素
B. 职场中下属对领导者信任是要靠领导者的实力去印证的
C. 职场中的信任仅靠下属对领导者的好感是维持不下去的
D. 下属对管理者的信任会对管理者的领导效能产生影响

第三部分 数量关系

(共 20 题，参考时限 20 分钟)

本部分包括两种类型的试题：

一、数字推理：共 10 题。给你一个数列，但其中缺少一项，要求你仔细观察数列的排列规律，然后从四个选项中选出你认为最合理的一项来填补空缺项。

请开始答题：

41. $\frac{1}{4}, \frac{1}{3}, \frac{1}{2}, \frac{8}{9}, \frac{8}{5}, ()$

- A. $\frac{8}{3}$ B. $\frac{7}{3}$ C. $\frac{9}{4}$ D. $\frac{9}{8}$

42. 10, 67, 221, 519, ()

- A. 991 B. 997 C. 1009 D. 1011

43. -1, 3, 0, 5, 2, ()

- A. 7 B. 9 C. 11 D. 13

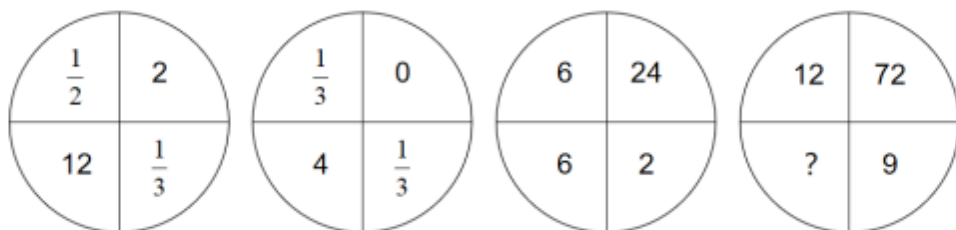
44. 2, 2, 8, $\frac{9}{2}$, ()

- A. $\frac{128}{3}$ B. $\frac{128}{9}$ C. 16 D. 32

45. 4, 5, 3, $\frac{8}{3}$, ()

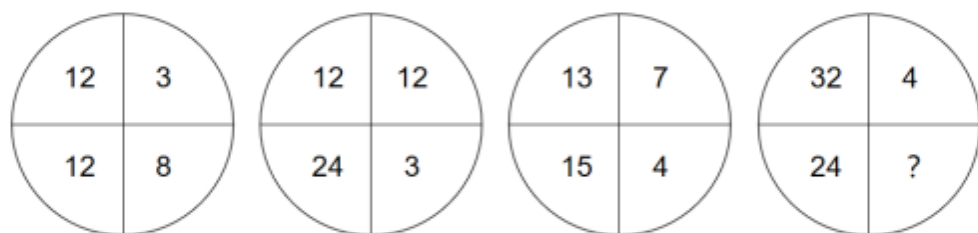
- A. 3 B. $\frac{17}{8}$ C. $\frac{17}{9}$ D. 4

46.



- A. 12 B. 16 C. 24 D. 36

47.



- A. 12 B. 14 C. 16 D. 18

48.



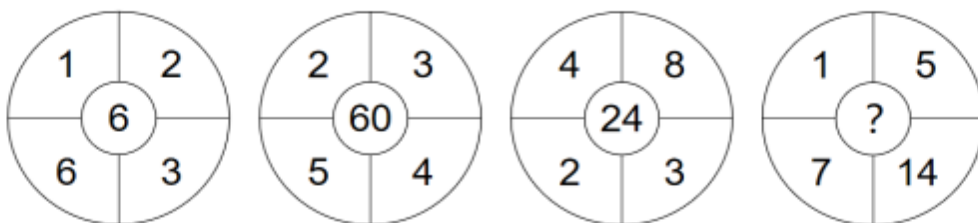
- A. 1 B. 2 C. 4 D. 8

49.



- A. 9 B. 12 C. 18 D. 24

50.



- A. 28 B. 56 C. 70 D. 140

二、数学运算：共 10 题。每道试题呈现一段表述数学关系的文字，要求你迅速、准确地计算出答案。

请开始答题：

51. 甲和乙走完 A、B 两地之间的距离分别需要 120 分钟和 x 分钟。某日甲从 A 地出发前往 B 地，1 小时后乙从 B 地出发前往 A 地，两人到达目的地后都立刻折返。如甲和乙前两次遇见都是迎面相遇，问 x 的取值范围为（ ）。

- A. $30 < x < 150$ B. $30 < x < 180$ C. $40 < x < 150$ D. $40 < x < 180$

52. 已知 $x+y+z=50$ ，那么满足该方程的正整数解有多少组？（ ）

- A. 588 B. 1136 C. 1176 D. 2352

53. 爸爸和小明在小区玩儿追人游戏。爸爸 5 步的距离相当于小明 9 步的距离，但是小明走 7 步的时间相当于爸爸走 4 步的时间。现在小明和爸爸相距 3 米，请问，小明的爸爸要走多远才可以追上小明？（ ）

- A. 105 米 B. 108 米 C. 111 米 D. 114 米

54. 一个盒子装有标号为 1-24 的 24 张卡片，要从盒子里任意抽取卡片，至少要抽出多少张卡片，才能保证抽出的卡片中一定有两张卡片标号之差为 4？（ ）

- A. 3 B. 12 C. 13 D. 14

55. 某游乐园在一个平地中央挖了一个球形下沉广场，广场直径为 200 米，最深处 50 米，那么这个球形的直径为（ ）米。

- A. 125 B. 200 C. 225 D. 250

56. 某商品成本为 200 元，售价为 292 元，公司根据市场情况调整了销售方案，将售价调整为 268 元，预计日销量将上涨 15%。现欲通过改进生产线降低成本，以保持降价前的单日利润，则单件产品的生产成本至少需要降低（ ）。

- A. 4% B. 5% C. 6% D. 8%

57. 八位议员参加圆桌会议，其中有一个会长和两个副会长，会议的桌子是一个正八边形。若八位议员随机坐到桌子的一边，问会长和副会长对面而坐的概率是多少？（ ）

- A. $\frac{1}{21}$ B. $\frac{1}{4}$ C. $\frac{2}{7}$ D. $\frac{3}{8}$

58. 一个 7 层楼的酒店，每层有 20 间客房。酒店的房间号为一个 3 位数字，其中第一位为楼层，第二、三位为从 01 到 20 的房间编号。相邻的房间房号也相邻。某个楼层三个相邻房间的房号之和为一个各位数字均不相同、且各位数字之和为 6 的四位数。则这三个相邻房间的房号组合有多少种不同的可能？（ ）

- A. 2 B. 1 C. 6 D. 4

59. 小明在家闲来无事，准备了 10 个盒子，并且将 10 个小球一一放置于每个盒子之中。他现在每次从两个盒子之中分别拿出一个小球，放到其他的盒子之中。按照如此操作，小明至少要操作多少次才能够将所有的小球都放置于某一个盒子之中？（ ）

- A. 4 B. 5 C. 6 D. 7

60. “斐波那契—卢卡斯数列”为 1、3、4、7、11、18…，该数列前两项相加可得到第三项。现在小明将此数列写到了第 2020 个，在这些数字中，3 的倍数有多少个？（ ）

A. 500

B. 501

C. 504

D. 505

第四部分 判断推理

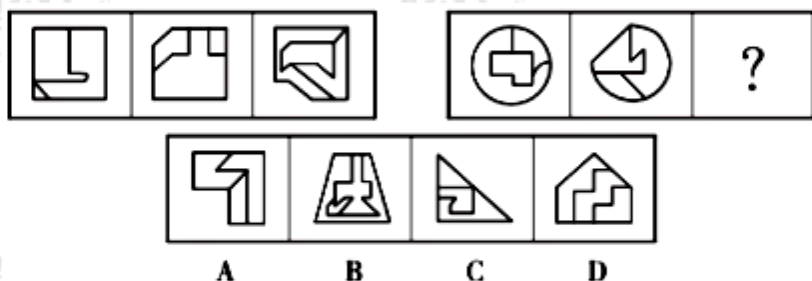
(共 25 题, 参考时限 20 分钟)

本部分包括四种类型的试题:

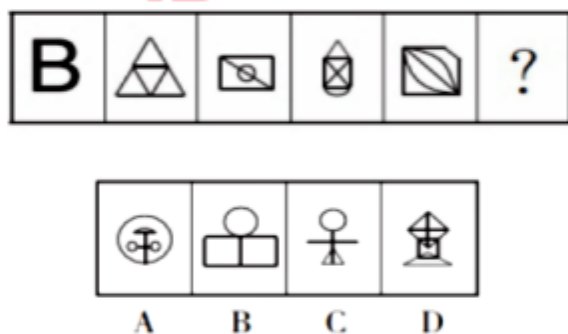
一、图形推理: 共 5 题。请按每道题的答题要求作答。

请开始答题:

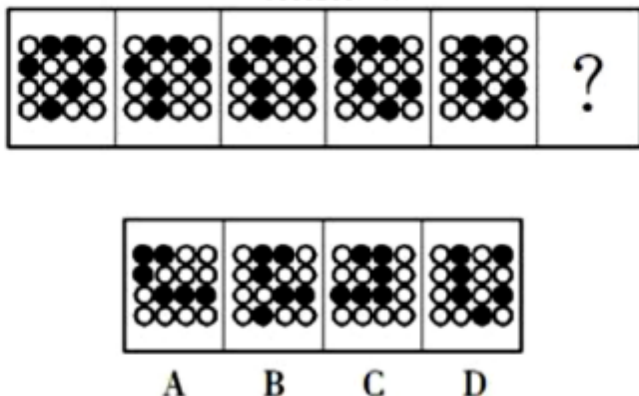
61. 从所给的四个选项中, 选择最合适的一个填入问号处, 使之呈现一定的规律性 ()。



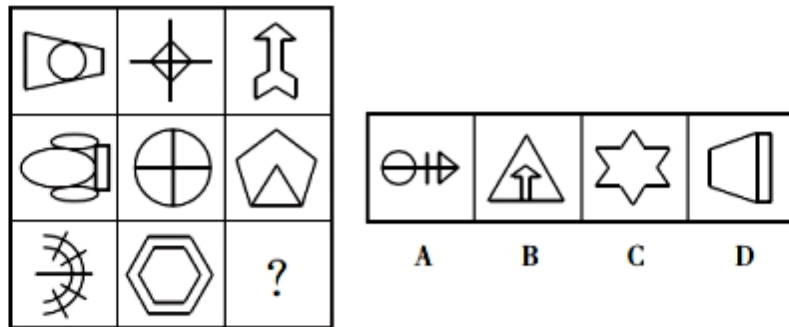
62. 从所给的四个选项中, 选择最合适的一个填入问号处, 使之呈现一定的规律性 ()。



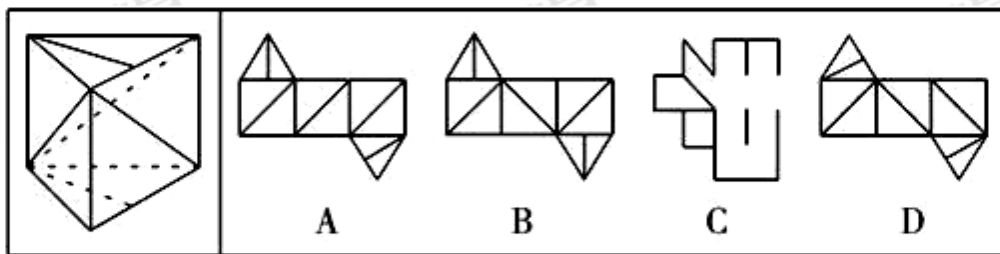
63. 从所给的四个选项中, 选择最合适的一个填入问号处, 使之呈现一定的规律性 ()。



64. 从所给的四个选项中, 选择最合适的一个填入问号处, 使之呈现一定的规律性 ()。



65. 左边给定的是一个纸盒的成型图，它可以由右边哪一项折叠而成？（ ）



二、定义判断。共 7 题。每道题先给出定义，然后列出四种情况。要求你严格依据定义，从中选出一个最符合或最不符合该定义的答案。注意：假设这个定义是正确的，不容置疑的。

请开始答题：

66. 同辈压力：指年龄相近的人因生活、工作、社会地位等方面存在差距，担心受到轻视排挤而产生的心理压力。

下列属于同辈压力的是（ ）。

A. 老王的朋友都为孩子买了婚房，他也想为儿子买一套，自己的经济实力却远远达不到，为此非常烦恼

B. 某学院近年引进的教师大多晋升了高级职称，有二十多年教龄的赵老师仍然还是讲师，他常常愁得睡不着觉

C. 销售员小丁看到别人都已完成公司的年度销售任务，自己才完成了六成。为防止明年被调离销售部，不分昼夜联系客户

D. 车间主任要求新员工小李一周内必须熟悉设备，能够独立操作。因担心不能顺利过关，他加班加点苦练技能

67. 愿望投射：是指把自己的主观愿望投射于他人，认为他人也如自己所期望的那样，把希望当成了现实。结果往往对他人的情感、意向作出错误评价，歪曲了他人，造成交往障碍。

根据上述定义，下列属于愿望投射的是（ ）。

A. 人无我有，人有我优

B. 世上本无事，庸人自扰之

C. 别人笑我太疯癫，我笑他人看不穿

D. 我之所虑，人之所想

68. 消费信贷，是指银行等金融机构向消费者为消费而发放的贷款。消费信贷往往需要采取综合的担保措施以及进行充分的市场信用调查，在法律上表现为买卖合同（往往是分期付款买卖）、借款合同、

担保合同的综合体。

根据上述定义，下列属于消费信贷的是（ ）。

- A. 某饭店允许某位客户的赊账行为
- B. 某农村信用合作社为农民购车发放小额贷款
- C. 某职工为购房与单位签合同预支 20 年的住房补贴
- D. 在资产清收、处置过程中，银行垫付债务人的诉讼费、经济纠纷款等

69. 良性冲突：指管理者设法把企业内部的小冲突转化为凝聚力，推动企业发展的管理策略。

下列属于良性冲突的是（ ）。

A. 公司召开员工代表大会修订奖惩条例，与会者的意见出现了巨大分歧，大家争得面红耳赤，最后少数服从多数，通过了该条例的修订

B. 某企业面临着一项急需解决的技术难题，总经理提议谁能提出解决方案就可以担任项目主管并获得 10 万元重奖。这一提议遭到部分与会者的反对，最终未能通过

C. 徐先生和景先生是某公司的一对老搭档，在一些重大决策问题上经常意见相左，互不相让，最终却总能达成一致。在他们的领导下，公司业绩稳步提高

D. 市场部蒋经理听到销售员反映产品质量问题后，向质检部反馈意见，与生产部经理产生了矛盾。公司组织三个部门多次开会协调，最终建立了良好沟通机制

70. 动物权利论认为：动物与人类有平等的权利地位，两者有相同的心理特质——需求、记忆、智力等等。因此，所有动物都与人类一样享有平等的内在价值，这些权利是不可剥夺并不可丧失的。

根据上述定义，下列各项中符合动物权利论的是（ ）。

- A. 马戏团里遭到毒打的动物，往往能够引起人们的同情
- B. 养狗的人一般都不食用狗肉，但他们并不是素食主义者
- C. 有人提出，动物实验与人体实验一样，应该被禁止
- D. 活熊取胆的现象见诸报端后，大多数人都反对以如此残忍的方式取得熊胆

71. 比德，是指将自然物的某些特征比附于人们的某种道德情操，使自然物的自然属性人格化，人的道德品性客观化，其实质是认为自然美在它所比附的道德伦理品格。

根据以上定义，下列没有包含“比德”自然审美观的是（ ）。

A. 人们总是把风儿比作叹息，那么秋天一定是最多愁善感、小性恼人的姑娘，她不可琢磨，难以讨好

B. 画家郑板桥以“咬定青山不放松，立根原在破岩中。千磨万击还坚劲，任尔东南西北风”赞美岩石的坚韧顽强，隐喻自己藐视俗见的刚劲风骨

C. 作者在某小说中称赞生性淡泊、安分守己的少妇“宛如冬梅，风知素韵，霜晓寒姿”

D. 知者达于事理而周流无碍，有似于水，故知者乐水；仁者安于义理而厚重不迁，有似于山，故仁者乐山

72. 法律的当然解释是指法律虽然没有明确规定某一事项，但依规范目的，该事项应当被解释为适用这一法律规定。其解释方法有举重以明轻和举轻以明重。前者是指对于某一应当被允许的行为，举一

个情节比其严重而被允许的规定，以说明其应当被允许。后者是指对于某一应当被禁止的行为，举一个情节比其轻微而被禁止的规定，以说明其应当被禁止。

根据上述定义，下列判断正确的是（ ）。

- A. 唐律规定主人打死夜无故入人家者无罪，依据举轻以明重，主人打伤夜无故入人家者无罪
- B. 法律规定禁止携带小型动物，依据举重以明轻，携带大型动物的行为应当被禁止
- C. 法律规定禁止在公园采摘树叶，依据举轻以明重，在公园攀折树枝的行为应当被禁止
- D. 法律规定 16 周岁以下的未成年人不承担刑事责任，依据举重以明轻，15 周岁的未成年人不承担刑事责任

三、类比推理。共 5 题。每道题先给出一组相关的词，要求你在备选答案中找出一组与之在逻辑关系上最为贴近、相似或匹配的词。

请开始答题：

73. 沙子：水泥：钢筋

- A. 衣柜：餐桌：家具
- B. 电暖气：风扇：电器
- C. 填空：选择：问答
- D. 蚂蚁：蜜蜂：金属

74. 堵车 对于 （ ） 相当于 （ ） 对于 寒流

- A. 迟到 降温
- B. 交通 对流
- C. 车流 寒潮
- D. 红灯 冬季

75. 法律法规：起草：颁布

- A. 新闻稿件：采访：选题
- B. 购销合同：签订：履行
- C. 自由恋爱：结婚：生子
- D. 学历学位：硕士：博士

76. 影视作品：电视剧

- A. 苹果：芒果
- B. 教师：职工
- C. 权力：金钱
- D. 树木：白杨

77. 文字：表达

- A. 康熙：乾隆
- B. 志向：领导
- C. 议论文：论证
- D. 机关：公务员

四、逻辑判断：共 8 题。每道题给出一段陈述，这段陈述被假设是正确的，不容置疑的。要求你根据这段陈述，选择一个答案。注意：正确的答案应与所给的陈述相符合，不需要任何附加说明即可以从陈述中直接推出。

请开始答题：

78. 一家汽车生产商推出标准型、豪华型两款车型，豪华型的安全性能比标准型好很多，两款车型同时上市后，豪华型的销量一直没有超过标准型。由此，该生产商认为安全性能并非顾客考虑的首要因素。

如果以下各项为真，最能削弱该生产商观点的是（ ）。

- A. 大部分顾客对标准型汽车的信赖度更高
- B. 豪华型汽车的价格与标准型相差不是很多
- C. 大部分顾客认为标准型汽车的安全性能足以满足日常生活需要
- D. 购买标准型汽车的大多是集体客户，所以标准汽车销售量一直很高

79. 一直以来，很多科学家认为全球海平面上升的主要原因是全球气候变暖，冰川和冰盖的融化加剧。近日，有研究人员通过统计数据发现，近百年来南极降雪量大幅增加，进而增加了南极等冰冻区域所“存储”的冻水量。据此，有专家乐观估计，全球海平面上升的趋势将被逆转。

以下哪项如果为真，最能削弱该专家的观点？（ ）

- A. 据相关数据统计，南极降雪量在近几年有微弱减少的趋势
- B. 降雪带来的冰增量仅为冰川融化导致的冰损失的三分之一
- C. 研究人员对影响全球气候变暖原因的分析可能有一些遗漏
- D. 据有关气象部门预计，今年的全球平均气温将略低于去年

80. 在亚洲某国山区，二月份和三月份出生的新生儿体质普遍不如其他月份的新生儿好。当地医务所的工作人员经过调查后认为，导致这一现象的主要原因是冬季的食物比较匮乏，孕妇不能很好地补充营养从而导致新生儿体质虚弱。

以下哪项如果为真，最能支持上述调查结论？（ ）

- A. 该山区中少数能为孕妇提供足够营养的富有家庭在冬天依然生下体质虚弱的婴儿
- B. 决定新生儿体质的时期是生产前半年的营养情况，而非当月的营养情况
- C. 该山区的孕妇普遍患有一种冬季发作的疾病，这会使得她们体质下降进而影响婴儿的健康
- D. 该山区为数不多的几种冬季食物中普遍缺乏某种微量元素，这恰是新生儿所急需的

81. 人因自然而生，人与自然是一种共生关系，对自然的伤害最终会伤及人类自身。因此，只有尊重自然规律，才能有效防止在开发利用自然上走弯路。

根据以上陈述，可以得出下列（ ）项。

- A. 如果不尊重自然规律，就不能有效防止在开发利用自然上走弯路
- B. 如果尊重自然规律，就能有效防止在开发利用自然上走弯路
- C. 因为人与自然是共生关系，所以必须尊重自然规律
- D. 人因自然而生，所以必须开发利用自然

82. 在所有成年非婚者中，大龄单身青年是最受人们关注的一个群体。目前，还没有确切的数字显示全国共有多少“剩男剩女”，不过，从个别城市的统计数据中，我们不难发现数量在迅速增长。有心理学家指出，长期独居的生活，会使人们的社交能力逐渐退化，性情变得孤僻。因此，心理学家认为，大龄青年应尽早结束单身状态，否则容易导致心理问题。

以下哪项如果为真，最能削弱上述心理专家的观点？（ ）

- A. 调查显示，性情孤僻是单身的主要原因
- B. 独立的经济能力让大部分女性不再依附于男人生活，因此女性在挑选伴侣时就会对外貌、性情等条件更为苛刻

C. 80 后独生子女一代从小缺乏人际交往能力，而且恐惧结婚后要承受太多东西

D. 主流文化变迁、婚姻观念更新和社会稳定性等影响是导致全球出现单身潮的共同原因

83. 公众人物需要担当更多的道德责任，因为权利和责任是相等的，既然拥有常人不具备的优势地位，那么就应该比一般人承担更高的道德要求。因此，承受更多的舆论批评甚至人身攻击，哪怕是一定程度的失真，也是不得不付出的必要代价。

最能质疑上述观点的一项是（ ）。

A. 普通人和公众人物应该具有同等的道德责任

B. 失真评价会影响公众人物对道德义务的履行

C. 更多的道德责任并不意味着一定要承受舆论批评

D. 公众人物正是因为没有尽到道德责任才会受到舆论批评

84. 科学家发现，儿童时期不接触细菌和病菌，是 5 岁以下人群糖尿病病例近年来急剧增加的主要原因之一。而那些生活在农村的孩子由于更早接触到带菌的物质，有更多机会与宠物相处，患过敏症、哮喘和湿疹等疾病的几率反而很低。所以，将细菌消灭得过于彻底的环境可能反而会给儿童的健康带来危害。

以下哪项如果为真，将有力地支持上述结论？（ ）

A. 刚出生的婴儿，其体表和体内是无菌的，但开始吃奶、喝水后，细菌便乘机进入体内

B. 人体皮肤上的细菌大多起保护作用，并为每个人制造出独特的体味

C. 大部分细菌是有益于身体健康的，人的健康长寿离不开正常的菌群

D. 很多有害细菌平时与人体相安无事，当人体免疫力下降时，细菌便开始侵害人体

85. 为了保护斑点猫头鹰，某国政府规定禁止砍伐西北太平洋沿岸的古森林。这一规定施行后，当地的状况出现了衰退。由此可见，采取保护斑点猫头鹰的措施导致了经济衰退。

为了使上述结论成立，必须补充以下哪项作为前提？（ ）

A. 采取保护斑点猫头鹰的措施是在经济衰退前发生的唯一与衰退关联的事情

B. 全世界在这一时期都出现了经济衰退的迹象

C. 当地经济状况在采取保护斑点猫头鹰的措施之前一直很好

D. 停止对西北太平洋沿岸古森林的砍伐是保护斑点猫头鹰的唯一方法

第五部分 资料分析

(共 15 题，参考时限 15 分钟)

所给出的图、表、文字或综合性资料均有若干个问题要你回答，你应根据资料提供的信息进行分析、比较、计算和判断处理。

请开始答题：

一、根据以下资料，回答 86~90 题。

2014 年 1~2 月，我国金融市场总体运行平稳。

(一) 债券市场发行情况

1 月份,债券市场发行债券 4041.7 亿元,同比减少 24.8%,环比减少 27.1%。其中,银行间债券市场发行债券 3927.9 亿元,环比减少 19.6%。2 月份,债券市场发行债券 5880.9 亿元,同比增加 15.7%。其中,银行间债券市场发行债券 5780.5 亿元,环比增加 47.2%。1-2 月,债券市场累计发行债券同比减少 5.1%,其中,银行间债券市场累计发行债券同比减少 4.7%。

(二) 货币市场运行情况

1 月份,货币市场成交总量共计 14.4 万亿元,同比减少 18.6%,环比减少 14.5%。其中,同业拆借市场成交 2.3 万亿元,同比减少 40.2%,环比增加 2.8%;质押式回购成交 11.6 万亿元,同比减少 14.1%,环比减少 16.7%;买断式回购成交 5650.3 亿元,同比增加 30.6%,环比减少 26.4%。1~2 月,货币市场成交量共计 26.2 万亿元,同比减少 14.4%。其中,同业拆借市场累计成交 4.0 万亿元,同比减少 39.4%;质押式回购累计成交 21.2 万亿元,同比减少 8.9%;买断式回购累计成交 1.0 万亿元,同比增加 35.1%。

(三) 债券市场运行情况

1 月份,银行间债券市场现券交易累计成交 1.9 万亿元,同比减少 76.1%,环比减少 1.6%。1 月末,银行间债券总指数为 145.35,环比上升 0.98%。交易所国债指数为 139.58,较去年 12 月末上升 0.04%。

1~2 月,银行间债券市场现券交易累计成交 4.0 万亿元,同比减少 69.6%。

86. 2013 年 12 月份银行间债券市场发行债券占债券市场发行总额的比重约为()。

- A. 97% B. 99% C. 62% D. 88%

87. 2013 年 1~2 月银行间债券市场累计发行债券约多少亿元?()

- A. 9187 B. 9830 C. 10187 D. 11230

88. 根据 2014 年 1 月各类型货币交易成交金额,从高到低排序正确的是()。

- A. 同业拆借、质押式回购、买断式回购 B. 质押式回购、同业拆借、买断式回购
C. 买断式回购、质押式回购、同业拆借 D. 买断式回购、同业拆借、质押式回购

89. 2014 年 2 月份,银行间债券市场现券交易累计成交额较上年同期减少了多少万亿元?()

- A. 3.1 B. 4.1 C. 6.9 D. 7.9

90. 下列关于 2014 年 1~2 月我国金融市场的描述,能够从上述资料中推出的是()。

- A. 2013 年 1 月,货币市场成交总量约为 12 万亿元
B. 2014 年 1 月,同业拆借市场成交额占货币市场成交总量比重低于上月水平
C. 2014 年 1~2 月,同业拆借市场累计成交额同比下降了 2 万亿元以上
D. 2013 年 12 月,交易所国债指数高于同期银行间债券总指数

二、根据以下资料,回答 91~95 题。

2018 年二季度, J 省各项社会服务事业总费用累计支出 933638.1 万元,同比增长 12.71%; 一季度累计支出 409206.2 万元,同比增长 5.87%。

2016年S市全年用于研究与试验发展（R&D）经费支出总额为1030.00亿元，占S市生产总值的比重为3.80%。

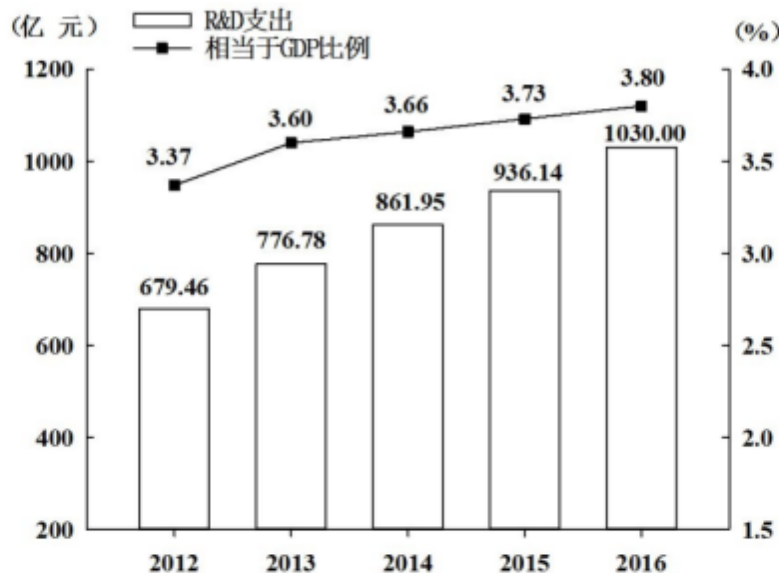


图 2012-2016年R&D经费支出及其相当于S市生产总值的比例

全年受理专利申请119937件，比上年增长19.9%，其中，受理发明专利申请54339件，增长15.7%。全年专利授权量为64230件，增长5.9%，其中，发明专利授权量为20086件，增长14.1%。全年PCT国际专利受理量为1560件，比上年增长47.2%。至年末，全市有效发明专利达85049件。年内全市新认定高新技术企业2306家。年内认定高新技术成果转化项目469项，其中，电子信息、生物医药、新材料等重点领域项目占87.4%。至年末，共认定高新技术成果转化项目10969项。全年经认定登记的各类技术交易合同2.12万件，比上年下降5.8%；合同金额822.86亿元，增长16.2%。

96. 2013~2016年间，S市研究与试验发展经费与上年比增速最快的年份是（ ）。
- A. 2013年 B. 2014年 C. 2015年 D. 2016年
97. 2015~2016年S市研究与试验发展经费总支出约占同期生产总值的（ ）。
- A. 3.67% B. 3.74% C. 3.77% D. 3.84%
98. S市下列各项指标中，2016年同比增长速度最慢的是（ ）。
- A. 受理发明专利申请量 B. 发明专利授权量
- C. PCT国际专利受理量 D. 经认定登记的各类技术交易合同金额
99. 2016年，S市全年受理专利申请比2015年约增加多少万件？（ ）
- A. 2.0 B. 1.8 C. 1.6 D. 1.4
100. 根据上述资料，下列说法不正确的是（ ）。
- A. 2016年研究与试验发展经费支出占生产总值的比重比2012年高0.43个百分点
- B. 2012~2016年，年均研究与试验发展经费支出超过800亿元
- C. 2016年，发明专利授权量占专利授权量的三分之一以上
- D. 2016年，平均每件经认定登记的各类技术交易合同金额不超过400万元

展鸿 2020 年浙江省公务员录用考试试卷

《申论》模拟卷（一）

注意事项

1. 本卷总分 100 分。限时 120 分钟，其中阅读给定资料参考时限为 30 分钟。
2. 用黑色字迹的钢笔（签字笔）将自己的姓名、准考证号填写在试卷和答题卡相应位置上；用 2B 铅笔填涂答题卡第一页准考证号的信息点。
3. 看清答题卡答题页面，每题都要在指定的页面位置作答，在其他位置上作答的一律无效。
4. 所有题目一律使用现代汉语作答，用其他语言作答不得分；作答时应使用黑色字迹的钢笔（签字笔），用铅笔作答不得分。
5. 请仔细阅读给定资料内容，然后按照后面提出的“作答要求”作答。
6. 答题结束后，将题本和答题卡一并交给监考人员，并务必请监考人员在你的准考证上签字。否则，若题本和答题卡遗失，将由你承担责任。

严禁折叠答题卡！

给定资料

资料一

中华民族是个有着 5000 多年历史的伟大民族，早在秦汉时期就进入了盛世。作为其载体，古代中国曾以世界上头号强国的地位，傲然于全球达 1500 多年之久。但自进入工业文明起，资本主义、帝国主义国家的入侵使得这个庞然大物轰然倒塌，迅速地沦落为一个积贫积弱的半殖民地半封建国家。

大国崛起之于中国就是中华民族的伟大复兴，也是“中国梦”的主要内容。

新中国刚成立时，以毛泽东同志为代表的第一代领导人带领党和全国各族人民，为把我国建成一个繁荣昌盛的社会主义现代化国家进行了艰苦的努力。十一届三中全会以来，以邓小平同志为核心的党的第二代领导集体坚持和发展毛泽东思想，一面应对新问题、一面解决新问题，开创了改革开放和中国特色社会主义事业的新篇章。极大地解放和发展了生产力，创造了举世瞩目的中国奇迹。

揆诸四十多年来的风云变迁，再没有其他任何事情能如中国的改革开放一样，深刻影响着中国和世界的历史进程。可以说，没有改革开放，就没有中国的今天，也就没有中国的明天。这是来自于中国上下下四十多年改革开放的实践和认识，也是中国过去、现在和未来强国复兴的方法论。

资料二

2020 年年初，特斯拉首席执行官马斯克宣布，上海临港超级工厂正式对外交付国产 Model 3 车型，并启动国产 Model Y 项目。难掩激动的他，在现场来了一段即兴热舞。

从 2016 年起，临港集团与原临港管委会就开始接触特斯拉公司，商谈在上海建设超级工厂的可能。特斯拉方面非常看重对公司的控制权，一直坚持“如果在上海设立工厂，希望以独资的形式，最少也要

控股”的想法。然而当时，国家相关政策规定，国内乘用车合资企业，外方股权比例不能超过 50%，在这个问题上，双方始终无法达成共识。

“但上海团队始终没有放弃这个项目，我们坚信，只要坚持下去，事情一定会有转机。”果不其然，2018 年初，中国政府实施进一步扩大开放的政策措施，出台了汽车行业“放宽外资股比限制”的时间表，同时，取消了专用车、新能源汽车外资股比限制，这为特斯拉项目随后正式签约落地，扫清了最大的障碍。

一年时间从动工到投产，华尔街金融机构不相信、美国媒体不相信，甚至马斯克本人一开始也不敢相信。特斯拉奇迹到底是如何诞生的？秘诀就是，制度创新加贴身服务。

特斯拉一期工厂占地 15.7 万平方米，包含 4 个联合厂房以及周边的生产设施，体量之大，建设之复杂，仅施工许可证就核发了 9 张。如果按照传统的行政审批思路，每核发一张证就意味着一次“等待”。“土建工程和机电工程的图都要审，按照过去做法，全部审核通过才能发证，企业才能开工建设。”临港管委会制度创新和风险防范处工作人员伏永明说。等待是最被动的做法。通过探索尝试“容缺后补”新机制，审批部门创新地允诺先发施工许可证，不让工程因审批受阻，随后再由建设方补齐机电工程图，保证所有审批环节合规、合法。所谓“容缺后补”，就是在重要的主体材料完整的情况下，允许一部分非主要的材料后期补上。这样的制度安排，是成就“特斯拉速度”的关键所在。

“一网通办”是上海优化营商环境的重要抓手之一。在特斯拉项目推进中，它充分发挥出效能。“我们与特斯拉方面通过微信群交流，能在网上说清楚的事就在网上说清楚，能用‘一网通办’解决的问题就远程解决。”伏永明说，通过把行政审批、验收的材料在“一网通办”上告知、递交，企业得以实现“最多跑一次”，也保证了项目全流程的合法合规。而今在临港，这已经成为招商团队手中的一张“王牌”。

从项目准入开始，临港会派遣专人全程跟进，这也成为了一种惯例。“在项目建设阶段，我们会主动上门，提前服务。”临港地区建设项目管理服务中心副主任廖玮说，很多企业，尤其是外企，在施工过程中不知道要注意哪些事项，不知道哪些需要验收、怎么验收。提前服务就显得尤为重要。而“容缺受理”和“附条件通过”则建立在对市场主体充分信任的基础上。“特斯拉项目一期验收时，工厂的绿地率尚未达到要求的 10%。这类不影响投产，也不违反强制性规范的情况，我们验收时允许其‘附条件通过’。也就是说，特斯拉方面要做出承诺，在工厂整体完工时，绿地率一定达到相关要求，在此前提下，一期工厂可以如期开工投产。”

然而，无论是“容缺后补”还是“容缺受理”，亦或是“附条件通过”，容缺的只是非关键要件，责任心与底线意识是绝不容缺的。“事实上，特斯拉项目并非‘一路绿灯’，我们也几次给特斯拉建设方发过暂缓单、停工单。”临港地区建设项目管理服务中心综合验收科科长唐轶群回忆，就在去年夏天的一次验收中，他拧开特斯拉工地上的消防龙头，却未见有水喷出。尽管特斯拉方面向他保证，该消防设备按规建造，只是未通水。但没有水压检测结果，就意味着存在风险，他最终坚持暂缓通过验收。

“我们有一份负面清单，只要涉及安全、环保等问题的验收，我们绝对守牢底线、寸步不让。”唐轶群说。特斯拉项目正是在边服务、边监管的过程中，创造了速度奇迹，也正因为如此，这一项目才更具有复制推广的意义。

有一种力量，能让马斯克翩翩起舞，也一定会在未来促使更多的全球投资人，来上海舞动梦想的翅

膀，来中国共享发展的机遇。

资料三

2018年4月13日，习近平总书记在出席庆祝海南建省办经济特区30周年大会时宣布，支持海南全岛建设自由贸易试验区，支持海南逐步探索、稳步推进中国特色自由贸易港建设，分步骤、分阶段建立自由贸易港政策和制度体系。2020年6月1日，《海南自由贸易港建设总体方案》（以下简称《总体方案》）公布，标志着中国特色自由贸易港建设进入全面实施阶段。

海南是中国最大的经济特区，具有实施全面深化改革和试验最高水平开放政策的独特优势。《总体方案》明确海南自由贸易港的实施范围为海南岛全岛，到2025年将初步建立以贸易自由便利和投资自由便利为重点的自由贸易港政策制度体系，到2035年成为中国开放型经济新高地，到本世纪中叶全面建成具有较强国际影响力的高水平自由贸易港。

“中国改革开放的决心和拥抱世界的姿态，为稳定全球经济锚定航向。”泰国中华总商会副主席苯永说，海南发展是中国40多年来改革开放的一个重要历史见证。“全面深化改革开放，不仅造福中国，也是用实际行动推动经济全球化。在海南建设自由贸易港，是中国推进高水平开放，建设开放型经济新体制的表现。”

结合今年以来的情况看，国内外知名企业加快投资海南自贸港，这一抢占先机的势头愈加火热。在今年4月13日举行的海南自由贸易港建设项目集中开工和签约仪式上，集中签约的100个项目企业中既有国内11家世界500强企业，也有许多知名海外龙头企业。

6月13日，国内外很多知名企业和机构代表，纷纷参与海南自由贸易港重点项目集中签约仪式。“海南迎来了重大历史机遇，站上了新的历史起点。我们非常荣幸成为《总体方案》发布后首批与海南签约的企业，共同参与海南自贸港建设。”前来参加签约仪式的中国东方航空集团有限公司董事长刘绍勇，向与会嘉宾描绘了东航与海南的合作蓝图，言语中充满期待。

一席话，道出了与会代表热切期待参与海南自贸港建设、共享发展机遇的心声。不少与会嘉宾表达了抢抓机遇、加快布局海南的愿望，并准备加快推动签约项目落地。

海南能有今天的成绩，源自于改革开放。1988年4月，海南岛被划定为经济特区，海南正式建省。30多年来，海南已从一个边陲海岛发展成为中国改革开放的重要窗口。正如习近平总书记所说，海南经济特区是我国经济特区的一个生动缩影，海南经济特区取得的成就是改革开放以来我国实现历史性变革、取得历史性成就的一个生动缩影。中国特色社会主义进入新时代，站在新的历史起点上，深化改革、扩大开放是海南经济特区的必然选择。

资料四

如果你走进非洲一家菜市场，刚好你又是中国女性，当地人会热情地招呼你“嗨，豆豆！”或“Mama, Doudou！”（“mama”是非洲对妇女的一种称谓，“豆豆”是《媳妇的美好时代》中的女主角毛豆豆）。中国电视剧《媳妇的美好时代》在非洲热播，使非洲观众了解到中国百姓生活的酸甜苦辣，也拉近了中非人民的感情。它让非洲观众觉得既新鲜又亲切，特别是其中体现的中国人关心孩子、重视教育、维护

家庭等价值观还引发了当地观众的强烈共鸣。

“一带一路”倡议下的文化交流，不是单向的文化输出，而是双向的文化沟通，为的是在相关国家和地区民众中形成一个相互欣赏、相互理解、相互尊重的人文格局。印度电影《摔跤吧！爸爸》在我国一上映，就引起观影热潮，最终取得了近 13 亿元的票房，同时还在社会上引发了关于亲情、教育、励志的话题讨论。

由丝绸之路国际剧院联盟出品的大型原创歌剧《马可·波罗》，是“一带一路”相关国家文化交流合作的一个具体成果。《马可·波罗》剧组的 320 多名演职人员分别来自 5 个国家。在 3 年多时间中，他们克服了语言障碍和文化差异，共同圆了一个艺术梦想。作品通过演绎 13 世纪意大利旅行家马可·波罗与父亲、叔父，自陆上丝绸之路和海上丝绸之路往返中国的传奇经历，彰显了丝绸之路的文化价值和人文风采，抒发了对人类和平、世界和谐的赞美和祈颂。

“一带一路”所体现的文化在历史上是有传承的。恩格斯在《自然辩证法》指出，“在罗曼语族各民族那里，从阿拉伯人那里吸收过来并重新发现的希腊哲学那里得到营养的一种开朗的自由思想，越来越深地扎下了根，为 18 世纪的唯物主义作了准备。”当时的阿拉伯人就是通过丝绸之路吸收了古代欧洲人的思想，然后不断发展。在“一带一路”建设过程中将会涉及不同的文明，而文明之间难免会发生冲突，但是外来文化在中国本土化过程中尽管有磕碰，总体上却是和平的，这是由于我们中华民族的思想具有包容性。因为这种包容性，千年后的今天，我国再次发起了“一带一路”倡议，不同民族、不同文明可以在这个平台上进行对话，取长补短、相互学习、相向而行。这是中华民族非常独特的一种文化魅力。

而在具体的交流中，中国要解决好水土不服的问题，需要坚守合作共赢的理念，秉持人类命运共同体的思想，把中国梦和世界各国梦融通的种子播种到“一带一路”沿线国家，才能让它生根发芽、开花结果。

资料五

2020 年 6 月，中国人民银行会同中国银行保险监督管理委员会审查通过“连通（杭州）技术服务有限公司”（以下简称连通公司）提交的银行卡清算机构开业申请，并向其核发银行卡清算业务许可证。

连通公司是美国运通在我国境内发起设立的合资公司，获得许可后，可在我国境内拓展成员机构、授权发行和受理“美国运通”品牌的银行卡。

“运通正式进入中国，实际上是中国金融行业对外开放进程的一个象征。”信用卡专家董铮表示，外资卡组织正式进入中国，可能在一定程度上会引来市场的竞争，让市场更加完善。但总体来说，对中国信用卡市场的影响并不大，而对于这些卡组织来说，却意义非凡。

美国运通董事长兼首席执行官施恺睿表示：“我们非常高兴能成为第一家获得银行卡清算业务许可证的外卡组织。这也意味着我们的长期发展战略向前迈出了重要一步。无论对我们美国运通，还是对中国支付行业的持续增长和发展来说，这都是历史性的时刻。”

与此同时，美国运通也宣布首批合作银行 16 家、支付机构 9 家，其中包括了工商银行、农业银行、中国银行、建设银行、招商银行、中信银行等主流银行，以及云闪付、腾讯金融科技、支付宝等移动钱

包运营商，拉卡拉、富友、快钱等 6 家第三方收单机构。

董铮表示，目前来看，外资卡组织进入中国将主要面临客户问题：存量客户如何盘活，如何吸引新用户使用。为了抢占市场，就很可能出台一些客观的策略将客户拉拢过来，短期内可能会让对市场起到刺激作用。“但外资可能并不指望在中国市场赚取可观利润，而是服务于这些客户境外消费或者境外客户在中国消费的利润。”

“让外资卡组织进入中国，实际上已经经历了 5 年时间。这次外资卡组织正式进入，相当于引入竞争者，对于未来中国市场的良性竞争来说是件好事。”董铮指出，美国运通能通过合资公司的方式进入中国清算支付市场，是中国金融市场对外开放的一个标志性事件。

实际上，庞大的中国市场早已成为外资卡组织觊觎之地。但直到 2015 年，中国卡组织银联体系发展较为完备后，中国才开始推动外资卡组织人民币清算许可事宜。

“卡组织涉及到安全问题，如果过早引入则可能导致中国自身的卡组织无法发展。即便是现在引入外资卡组织，也必须将服务器放置在中国。”董铮介绍，如今中国信用卡市场趋向成熟，此时引入外资卡组织，则可以增加市场良性竞争，对现有卡组织的产品、服务等都有促进作用。

外资卡组织的进入，也让中国的金融支付市场将迎来更加多元化的产品和市场竞争；中国现有成熟而先进的移动支付，将在走向世界的同时迎来传统支付巨头们的贴身肉搏。中国版的移动支付将升级为全球版，进一步发挥支付行业的领军和渗透作用，而全球版的支付行业将因为中国的开放而驱动内在的产业升级。这是金融支付行业新未来的开端。

此外，在引入外资卡组织的同时，中国的相关监管体系也日趋完善。实际上，从此前的双标卡变成单标卡，再开放人民币清算许可，中国经历了十余年时间。而在这一过程中，中国的体系建设也在不断完善。尤其是近年来在开放人民币清算许可，让监管的体系建设进程加快。

2019 年 6 月，央行下发首张银行卡清算业务许可。有业内人士分析认为，此前市场上只有银联一家清算机构，近年来网联成立、美国运通公司批准入华，都将让中国市场变得更加多元，无论是从监管、行业规范上都应该有统一的标准，而发放牌照则是第一步。

资料六

当前，新冠肺炎疫情肆虐，给全球公共卫生安全带来巨大挑战。习近平总书记时刻关注国内外疫情形势，从构建人类命运共同体高度，亲自推动疫情防控国际合作。二十国集团（G20）领导人应对新冠肺炎特别峰会上，习近平总书记发表题为《携手抗疫 共克时艰》的重要讲话，对会议达成共识和促进国际合作发挥了积极作用。在全球抗击疫情关键时刻，中国选择和 G20 成员乃至世界各国齐心协力、并肩战斗。而习近平的讲话，为世界注入强劲能量，鼓舞全球战疫信心。

中国的和平崛起不仅在公共卫生领域做出了巨大的贡献，也为国际政治争端的解决提供了自己的经验智慧和制度智慧，为国际问题的解决贡献了自己的政治力量。

全球化的时代，中国坚持和平崛起，不是通过传统的军事扩张、争霸或称霸，而是通过和平、渐进的方式，在与经济全球化紧密相连的进程中因势利导，趋利避害，既向整个国际社会实行全方位的开放，又坚持独立自主，依靠自己的力量，扩大内需，挖掘潜力。其持续快速、协调、健康的发展方式必将继

续给国际社会带来更多机遇和更大的合作空间，形成更多的利益共同体和利害共同体。具有五千年悠久历史的中国文明将持续焕发青春，与其他文明共存与交汇。

中国自古倡导“强不执弱，富不侮贫”“己所不欲，勿施于人”，深知“国虽大，好战必亡”。积极争取和平的国际环境发展自己，又以自身的发展更好地维护世界和平、促进共同发展，始终是中国坚定不移的国家意志。新加坡前总理李光耀如是评价：“中国的和平崛起不会给任何国家造成威胁，而是要用其富有活力的、高尚的民族文化，去点燃人类文明之光。”

作答要求

第一题：资料二介绍了特斯拉在上海落地到投产的过程，请就此分析“一定会在未来促使更多的全球投资人，来上海舞动梦想的翅膀”的主要原因。（20分）

- 要求：1.全面、准确，有条理；
2.字数不超过 250 字。

第二题：假定你是某经济日报的记者，请根据给定资料五，以“中国支付新格局”为主题写一篇短评。（30分）

- 要求：1.题目自拟，观点鲜明；
2.论述深刻，紧扣资料；
3.字数不超过 450 字。

第三题：给定资料六中画线句子写道：“中国的和平崛起不会给任何国家造成威胁，而是要用其富有活力的、高尚的民族文化，去点燃人类文明之光。”请你结合对这句话的理解，联系实际，自选角度，自拟题目，写一篇议论文。（50分）

- 要求：1.主旨明确，内容充实；
2.结构完整，论述深度；
3.思路清楚，语言流畅；
4.字数 1000 字左右。

再次提醒：所有题目必须在答题卡指定位置作答，不在指定位置作答的一律无效！

32 学院 APP 扫码对答案 (行测一)



32 学院 APP 扫码对答案 (申论一)

