

展 鸿 教 育

2018~2019 年浙江省事业单位统考 真题汇编



加傅老师微信领取真题解析

目 录

2019年2月23日浙江省事业单位统考试卷《职业能力倾向测验》	1
2019年2月23日浙江省事业单位统考试卷《综合应用能力》	18
2018年10月27日浙江省事业单位统考试卷《职业能力倾向测验》	22
2018年10月27日浙江省事业单位统考试卷《综合应用能力》	41
2018年5月12日浙江省事业单位统考试卷《职业能力倾向测验》	47
2018年5月12日浙江省事业单位统考试卷《综合应用能力》	65

2019年2月23日浙江省事业单位统考试卷

《职业能力倾向测验》

说 明

这项测验共有五个部分，100道题，总分100分。时限90分钟。各部分不分别计时，但都给出了参考时限，供你参考以分配时间。

第一部分 言语理解与表达

(共25题，参考时限20分钟)

本部分主要考查考生对语言文字的理解和驾驭能力。这种能力包括：对词、句子、短文一般意思和特定意义的理解；对比较复杂的概念和观点的准确理解；根据上下文，合理推断句子隐含的内容，准确地辨明句义，筛选信息等等。

请开始答题：

1. 在岁月的长河里，我们永远不过是其中一粒微弱的尘埃，原以为途经自己时光里的人都是过客，到最后才真正明白，其实自己才是那个误闯入别人生命的过客。那么多_____的赶路人，似乎每一个都是你，亦都是我。我们都曾千里迢迢地赶赴一场美丽的邀约，而后便是_____，各赴远方。

依次填入划横线部分最恰当的一项是（ ）。

- A. 行色匆匆 分道扬镳 B. 风尘仆仆 踌躇满志
C. 素昧平生 物是人非 D. 其貌不扬 不欢而散

2. 从远古时代的祖先直立行走、踏出东非大裂谷开始，人类就一直是一个勇于开拓、勇于前进的物种。我们在历史的长河中_____，在时代的阶梯上负重前行，在道阻且长的旅途上，征服了一座又一座成就的高峰，也跨过了一个又一个危机的_____。

依次填入划横线部分最恰当的一项是（ ）。

- A. 披荆斩棘 悬崖 B. 乘风破浪 深谷
C. 扬帆起航 门槛 D. 勇往直前 时刻

3. 草书是五体书中最具_____的书体，可以表达的品格、气质、审美类型丰富多样，其笔法较为灵活自由，又极具_____，篆隶楷行的用笔方法都可融入草书的创作。

依次填入划横线部分最恰当的一项是（ ）。

- A. 现实性 扩张性 B. 理想性 可塑性
C. 多变性 求变性 D. 抒情性 包容性

4. 电影是最适合表现现实社会问题的一种艺术形式，电视难以_____。电影艺术所具有的第一特征就是纪实特征，它完成了人类几千年来一个伟大抱负——复制一个神秘又客观的“现实”，_____地反映现实问题。

依次填入划横线部分最恰当的一项是（ ）。

- A. 取而代之 不经意 B. 望其项背 原生态
C. 比肩齐声 戏剧化 D. 后来居上 批判性

5. 当今世界全球化的进退和全球治理的滞后给世界带来新的不确定性。面对全球化的新态势，中国选择进而不是退，选择深化自身改革而不是_____，选择积极参与治理而不是_____。中国的快速成长和对全球化强有力的支持和参与，让世人更加重视。

依次填入划横线部分最恰当的一项是（ ）。

- A. 安于现状 不闻不问 B. 固步自封 独善其身
C. 抱残守缺 隔岸观火 D. 墨守成规 冷眼旁观

6. 在各种思潮的_____下，金钱主义、享乐主义泛滥，不断侵蚀着大学生的思想防线。各种世界观、人生观、价值观在信息大潮中_____，如果不能加以_____，久而久之形成“青蛙效应”，对尚处于三观塑型期的大学生将产生负面影响。

依次填入划横线部分最恰当的一项是（ ）。

- A. 裹挟 泥沙俱下 甄别 B. 推动 鱼龙混杂 筛选
C. 掣肘 大浪淘沙 鉴别 D. 助推 鱼目混珠 遴选

7. 流量时代，流量等于价值，吸粉能力就是_____。娱乐圈中，流量_____制片方，于是电视电影业“苦面瘫小鲜肉久矣”。

依次填入划横线部分最恰当的一项是（ ）。

- A. 首选 吸引 B. 钞票 诱惑 C. 利器 制约 D. 王道 绑架

8. 环境的变化和人们要求的变化共同作用，使得农村人居环境的整治变得_____。

填入划横线部分最恰当的一项是（ ）。

- A. 时不我待 B. 刻不容缓 C. 迫不及待 D. 迫在眉睫

9. 纵览近年来的全媒体发展，从具有社交链接属性的微博、微信_____，到以资讯聚合分发为特征的今日头条、一点资讯_____，从直播平台映客、斗鱼受到关注，到短视频平台快手、抖音快速崛起……媒体版图变化的一个结果是，主流媒体的“舆论主场”，现在变成了众多跨界者涌入的“舆论_____”。

依次填入划横线部分最恰当的一项是（ ）。

- A. 应运而生 风生水起 广场 B. 声名鹊起 盛况空前 客场
C. 方兴未艾 风靡一时 平台 D. 朝气蓬勃 如日中天 舞台

10. 由于许多动植物在远古时期都曾被作为实施巫术的手段广泛使用过，因而这些动植物在文学作品中便_____了一种巫术的内涵，并_____成为后世的物怪。

依次填入划横线部分最恰当的一项是（ ）。

- A. 复制 蜕变 B. 负荷 进化 C. 承载 演变 D. 担当 游走

11. 在互联网上“杀熟”，首先需要详细的数据分析，平台或者公司要对用户的消费习惯、消费能力、行为偏好等_____，这显然就是大数据的强项，做到这些犹如_____。

依次填入划横线部分最恰当的一项是（ ）。

- A. 心知肚明 火中取栗 B. 了然于胸 探囊取物
C. 了如指掌 瓮中捉鳖 D. 熟门熟路 杖策窥园

12. 对于模式创新的企业来说，其_____在于行业的进入成本较低。例如滴滴与美团在打车与外卖业务上的竞争，_____有充足资本的支持，技术壁垒不高的新模式容易被复制。类似企业的商业模式与盈利前景存在着不确定性，上市后可能面临较大波动风险。

依次填入划横线部分最恰当的一项是（ ）。

- A. 专长 一旦 B. 短板 只要 C. 优点 如果 D. 劣势 因为

13. ①在教化所及之内，它规定着不同阶层、不同身份的各色人等的服饰

②诚如美学大师许觉民先生所言，服饰是反映人类社会审美情趣变迁的重要基因图谱，是时代文化的体现和审美情趣的反映

③我国素有“华夷之辨”“衣冠之治”的传统

④回望民国时期的男女衣衫，“各行各业，各就各位，行止不失范，穿衣不越界，拿捏到位，特征了然”

⑤不同人各自不同的服饰也是区分其尊卑上下的等级身份的标志，并借此以规范社会秩序、强化礼教约束

将上述 5 个句子重新排列，语序正确的是（ ）。

- A. ②①④③⑤ B. ③①⑤④② C. ④⑤③①② D. ⑤③④②①

14. ①为了达到这个目的，利用“霍曼轨道”是个非常好的方法

②探测器要脱离地球的引力圈，到达目标天体，燃料肯定是越多越好

③但是，发射升空的探测器的大小和重量都是有限制的，因此不得不消耗尽可能少的燃料来飞行

④利用这个轨道的话，可以使探测器在从一个天体的公转轨道转移到另一个天体的公转轨道时，消耗的能量最少

⑤霍曼轨道最初是由德国太空工程师瓦尔特·霍曼在 1925 年提出的

将上述 5 个句子重新排列，语序正确的是（ ）。

- A. ②③①⑤④ B. ②①④③⑤ C. ⑤④③②① D. ⑤③④①②

15. 凯恩斯的思想是在经济衰退时政府可以干预经济，他害怕那种自由放任的经济会毁坏这个世界。凯恩斯成长于一个稳定和繁荣时期的英国，在一战结束后，他还参加了凡尔赛宫举行的和平会谈，他体会过这个世界最好的一面，也看到了这个世界坍塌的全貌。

这段文字想传达的主要意思是（ ）。

- A. 凯恩斯对世界经济了解比较全面 B. 凯恩斯的主张源于其独特的经历
C. 凯恩斯认为政府有必要干预经济 D. 凯恩斯的观点随着现实的变化而改变

16. 贸易流通、工作岗位与环境都是通过资本主义创造的；当与气候变化有关的黑死病击垮了欧洲农奴制——即旧秩序被打破之时，资本主义成为其最大的救赎。资本主义农业改变了地球；其对环境的毁灭、对文明的奴役，终会带来“后天”灾难；包括经济危机乃资本主义体系的伴生物，在每个体系周期中都会发生大大小小的危机，且不断积累，最终爆发总危机。

这段文字的意思可以用以下哪句话概括？（ ）

- A. 两害相权，取其轻
B. 成也萧何，败也萧何
C. 食之无味，弃之可惜
D. 前有虎豹，后有豺狼

17. 一般来说，责任越清晰，落实越容易到位。校园食品安全决不能陷入“_____”的怪圈，必须通过健全的长效机制确保各方的责任清晰明确。

填入划横线部分最恰当的一项是（ ）。

- A. 头痛医头，脚痛医脚
B. 公说公有理，婆说婆有理
C. 只许州官放火，不许百姓点灯
D. 一个和尚挑水喝、两个和尚抬水喝、三个和尚没水喝

18. 清华、北大等多所名校公布了 2018 年自主招生简章，都将高中阶段的奥赛成绩作为学生报考的基本条件。教育部取消了普适性的奥赛加分。同时，教育主管部门下放行政管理权，给予高校更多自主权。随着高校自主招生的崛起，奥赛的含金量反而提高。

这段文字的主要意思是（ ）。

- A. 下放高校行政权不利于公平竞争
B. 名校的择校通道变得越来越窄
C. 扩大高校自主招生权限强化了奥赛的升学功效
D. 基础教育领域存在着多元化选才的窘境

19. 法律不能只是起于纠纷终于诉讼，而是要成为一种社会思维。法律的声音被越来越多的人侧耳倾听，从治国安邦的宏图伟业，到市井乡村的庸常生活，都已经深深地打上了法治的烙印，只有沿着法治的道路，才能建成一个和谐、公正的社会。公众的思维与法律思维还存在一定的差距，但已经有越来越多的人习惯于像法律人那样思考和分析问题，也有越来越多的裁判在法律与民意中找契合点，公众思维与法律思维正在慢慢走向趋同，法律也正实现从顶层设计到底层反馈的统一。当然，法治不是听出来的、看出来的、说出来的，法的生命在于应用。法的应用不单是执法机关的权力和责任，也是全体公民的权利与义务，法律就是要人人都来用、都会用、都爱用，法治社会就是要实现人人都懂法、善用法、爱用法。

下列选项中，与作者观点不相符的是（ ）。

- A. 法治社会离不开每一位公众对法律法规的不断应用
B. 公众思考和分析问题的方式正在慢慢趋向法律思维
C. 法律和制度需要不断完善才能跟上人类思想的进步
D. 营造和谐安宁的社会氛围需要以法治作为立足之本

20. “影子服务”偷话费，严重侵犯了消费者的知情权和选择权，属于强买强卖暗地收费，违反了《消费者权益保护法》，造成了恶劣的社会影响。消费者如果去申诉，运营商都会推说经过消费者确认，但一般也会退钱。这说明，运营商并不是不清楚这些收费不合理。他们真正要赚的，大概就是那些长期为“影子服务”默默买单、却毫不知情的消费者的钱。

根据这段文字，以下说法正确的是（ ）。

- A. “影子服务”经过消费者确认后开通也可以退钱

- B. 运营商主要靠为不知情消费者开通“影子服务”赚钱
- C. “影子服务”比较隐蔽，消费者很难察觉得到
- D. 运营商“影子服务”偷话费既不合理也不合法

21. 后勤领域军民融合具有军地通用性、互补性，且涉密程度较低。近年来，随着电商的发展，中国民用物流爆发式增长，能对国内数以亿计的包裹实时掌控动态，一边是民营物流市场的生产力溢出，一边是军用物流需求仍存缺口。军队与其依赖自身建立物流系统，不如借助民企已有的庞大物流网络，实现节约成本、提升专业化水平的双赢。

这段文字意在说明（ ）。

- A. 后勤领域军民融合具有广阔的发展前景
- B. 军队供应链系统需借助新技术拓宽物流网络
- C. 电商的发展推动了军用、民用物流系统的变革
- D. 军用物流领域合理利用民用物流可加速自身发展

22. 行星科学家对冥王星表面是否存在崎岖地貌已争论数年，答案取决于其表面的氮冰有多厚。这种冰覆盖了冥王星表面的大部分区域。氮冰十分脆弱，极易在其自身重力作用下坍塌，即便是在冥王星这样引力较弱的行星上。因此，_____。然而，当“新视野”号抵达冥王星时，最初获取到的一些高清图像就表明，这颗行星表面的山脉高度可达 4500 多米，说明冥王星表面的氮或许只是一层薄薄的壳，盖在我们后来发现的水冰层上。

填入划横线部分最恰当的一项是（ ）。

- A. 冥王星复杂的地表特征甚至可以与地球、火星比肩
- B. 氮冰对冥王星地貌的影响在太阳系内是独一无二的
- C. 厚厚的一层氮冰会让冥王星表面无法形成任何高海拔地貌
- D. 这作为冥王星显著地理特征成为“新视野”号的重大发现

23. 在过去，中国本来拥有大量的自行车，以此为背景，中国的城市道路设计为自行车提供了足够的通行空间。但是，随着城市居民生活水平的急速提高，家用轿车数量呈现出突飞猛进的增长态势。最终造成的结果是，为了保证这部分车辆的通行，大量非机动车道被改造成为机动车道。有些原本规划了非机动车道的路段，也因各种原因，不得不在正式施工建设的过程中进行人为的修改。非机动车道变得越来越窄。

这段文字意在说明（ ）。

- A. 城市道路设计应当保障不同人群的交通出行需求
- B. 中国的城市道路规划与社会经济发展的阶段相关
- C. 日益严峻的非机动车道被挤占的情况并未得到重视
- D. 居民生活水平的提高改变了人们对出行工具的要求

24. Hcy 作为一个体内的基础生化底物，其作用是复杂多样的，将其作为脑卒中这类疾病的单一危险因素有机理与逻辑上的困惑。相比于胆固醇升高、高血压、糖尿病和烟草这些对动脉粥样硬化心血管病（ASCVD）已经明确的危险因素，高 Hcy 仅是一种多年研究尚不能确认的“新出现的因素”。按循证医学的原理，至少应有可复制的结果，有同类研究的一致结果，才可能有足够力度的证据给予建议。

这段文字意在强调（ ）。

- A. 应客观科学地看待 Hcy 对人体健康的正负面影响
- B. 确定心血管疾病的致病因子需要循证医学的支持
- C. 简单将 Hcy 作为脑卒中的危险影响因素依据不足
- D. 应当对 Hcy 对心血管疾病的影响进行进一步研究

25. 简单来讲，赵孟頫对中国绘画的贡献，就是改造了山水画的两大派，李郭和董巨。怎么改造的？两个字，“省减”。让文人可以操纵，可以执行，可以画。其实，在南宋，绘画已经出现省减，如禅画。但这种省减减少了笔墨趣味。赵孟頫虽然省减了，里面却还是有书法的笔墨韵味。_____。赵孟頫的《水村图》《鹊华秋色图》，改造的是董巨；他的《双松平远图》《重江叠嶂图》，改造的是李郭。改造之后呢，跟董巨、李郭是天壤之别。

填入划横线部分最恰当的一项是（ ）。

- A. 书法和绘画在笔墨上还是有着本质的区别
- B. 禅画在省减上的不到家是其最为遗憾的地方
- C. 这与南宋禅画的省减，是不一样的
- D. 赵孟頫的书法成功融入了绘画艺术的特点

第二部分 数量关系

(共 25 题，参考时限 25 分钟)

本部分包括两种类型的试题：

一、数字推理：共 10 题。

1. 给你一个数列，但其中缺少一项，要求你仔细观察数列的排列规律，然后从四个选项中选出你认为最合理的一项来填补空缺项。

请开始答题：

26. 2 4 11 13 20 22 ()

- A. 25
- B. 29
- C. 30
- D. 39

27. 1 $\frac{1}{4}$ 2 $\frac{3}{8}$ ()

- A. 2
- B. $\frac{5}{2}$
- C. $\frac{7}{3}$
- D. $\frac{8}{3}$

28. 7 8 9 15 17 24 () 41

- A. 29
- B. 31
- C. 32
- D. 37

29. 0 5 8 17 24 () 48

- A. 37
- B. 38
- C. 39
- D. 40

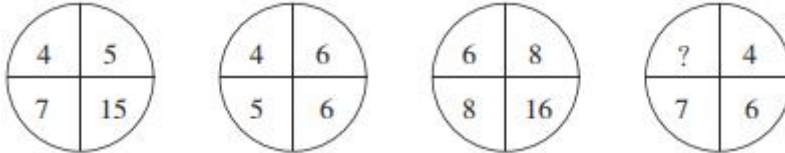
30. 1 6 5 10 11 16 19 24 ()

- A. 26
- B. 29
- C. 33
- D. 42

2. 每题图形中的数字都包含一定规律，请你总结前三个图形中数字的规律，从四个选项中选出你认为问号应该代表的数字。

请开始答题：

31.



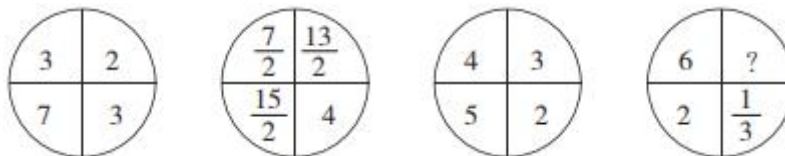
A. $\frac{5}{2}$

B. $\frac{7}{2}$

C. $\frac{9}{2}$

D. $\frac{11}{2}$

32.



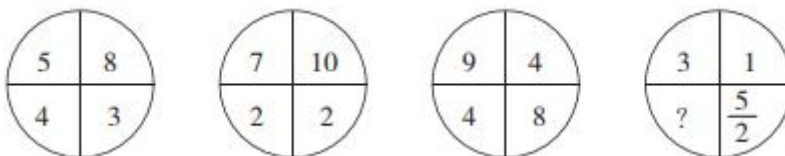
A. 0

B. 1

C. 2

D. 3

33.



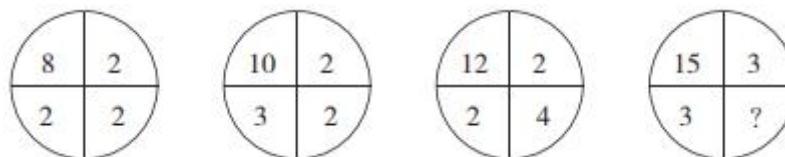
A. $\frac{1}{2}$

B. 1

C. $\frac{3}{2}$

D. 2

34.



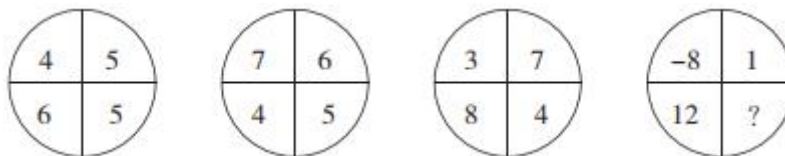
A. 1

B. 2

C. 3

D. 4

35.



A. 1

B. 2

C. 3

D. 4

二、数学运算：共 15 题。每道试题呈现一道算术式，或表述数字关系的一段文字，要求你迅速、准确地计算或论证出答案。

请开始答题：

36. 某校举办一场答题活动，总共 10 道题，每人基础分 10 分，答对得 3 分，答错扣 1 分，不答不得分也不扣分。问至少需要多少人参加答题，才能保证有三个人得分相同？（ ）
- A. 41 B. 75 C. 77 D. 83
37. 某校有 100 人去旅游，有 A、B、C、D 四条路线供选择，每人可以选任意几种，最终 A、B、C、D 路线分别有 60、55、70、65 个人选择，问至少有多少人选了 2 条及以上路线？（ ）
- A. 35 B. 40 C. 45 D. 50
38. 某小学派 10 人组队参加“大脑风暴”比赛。队中低年级 8 人，高年级 2 人，其中男女各 5 人，且高年级队员均为女生。已知比赛时每队派出 5 人参赛，其中女生不少于 3 人，高年级队员不超过 1 人，问一共有多少种上场方案？（ ）
- A. 80 B. 160 C. 170 D. 190
39. 为响应绿色出行号召，小李决定步行上班。如果每分钟走 75 米，则提早 8 分钟到单位；如果每分钟走 55 米，则会迟到 2 分钟。小李希望提前 10 分钟到单位，他大约应该以每分钟多少米的速度行走？（ ）
- A. 73 B. 77 C. 81 D. 85
40. 小王和小张用同样的速度，同时开始读数。小王：“1、3、5、7、9……” 小张：“1002、997、992、987、982……” 小王和小张同时读出的数是（ ）。
- A. 257 B. 287 C. 317 D. 357
41. 某社区新建一个养老中心，规划建设单人间、双人间、三人间三类房间共 100 间，因实际需要，单人间在 10 至 30 间之间（包括 10 和 30），双人间的房间数是单人间的 2 倍。问该养老中心建成后最多可提供床位多少个？（ ）
- A. 240 B. 245 C. 255 D. 260
42. 甲、乙、丙三人一起去超市买饮料，可乐 3 元/瓶，冰红茶 4 元/瓶，旺仔牛奶 6 元/瓶。已知甲的现金比乙的 2 倍少 12 元，乙的现金是丙的 1.5 倍，丙的现金比甲少 8 元。如果仅考虑以上 3 种饮料，且刚好用完三人所有的钱，则最多可以购买多少瓶饮料？（ ）
- A. 11 B. 12 C. 13 D. 14
43. 某公司组织员工春游，每辆车坐 25 人，剩下 6 人没有上车，每辆车坐 28 人，最后一辆车只坐了 13 人。问每辆车坐 26 人，最后一辆车少坐了几个人？（ ）
- A. 1 B. 2 C. 3 D. 4
44. 甲、乙、丙、丁四人共有 625 元，甲的钱数加上 4，等于乙的钱数减去 4，等于丙的钱数乘以 4，等于丁的钱数除以 4。问甲有多少元钱？（ ）
- A. 24 B. 96 C. 104 D. 125
45. 某初创企业第一轮引进投资 200 万元，投资者获得企业 20%的股份；第二轮引进投资 1 亿元，投资者获得企业 50%的股份；第三轮引进投资 15 亿元，此时第一轮投资者在企业中的股份占比下降到 4%。问从第二轮投资后到第三轮投资后，企业估值增长了多少亿元？（ ）
- A. 15 B. 19 C. 23 D. 27
46. 380 人投票从甲、乙、丙三个方案中选出一个。规定得票最多的方案当选。当投票人数达到 265

时，选择甲方案的人是丙方案的3倍，选择乙方案的人比丙方案的多10人。假设每人都要投票，问接下来的投票中，没有选择丙方案的不超过多少票，丙方案一定能胜出？（ ）

- A. 6 B. 7 C. 8 D. 9

47. 勘探院为6名地质工作者采购户外防护设备。现有两种不同的防护装备，单价分别为800元和2500元。已知购买防护设备的总成本不能超过1万元，且如果有人购买2500元的防护设备，则小张必须包含在内。问共有多少种不同的防护设备配备方式？（ ）

- A. 不超过10种 B. 11~20种之间 C. 21~35种之间 D. 超过35种

48. 将11车相同的扶贫物资发往甲、乙、丙、丁和戊五个乡。要求至少送往其中的4个乡，每个乡送整数车且不超过3车。问共有多少种不同的发放方式？（ ）

- A. 不到100种 B. 100~200种之间 C. 201~400种之间 D. 超过400种

49. 有甲、乙、丙三个煤仓，其中乙煤仓是空的。现从甲煤仓运输20%的煤到乙煤仓，从丙煤仓运输25%的煤到乙煤仓，乙煤仓再额外采购120吨煤，则3个煤仓的煤储量相同。问最初甲煤仓和丙煤仓共有多少吨煤？（ ）

- A. 744 B. 764 C. 784 D. 804

50. 从A地到B地，要先行120千米的下坡路，然后再行80千米的上坡路，最后行150千米的平路后到达。甲车从A地到B地，乙车从B地到A地。甲车在任何路上速度相同，乙车在平路上速度与甲车相同，上坡路和下坡路的速度分别是平路的0.8和1.2倍。则乙车用时比甲车（ ）。

- A. 少不到2% B. 少2%以上 C. 多不到2% D. 多2%以上

第三部分 判断推理

（共20题，参考时限20分钟）

本部分包括三种类型的试题：

一、类比推理：共8题。先给出一对相关的词，要求你在备选答案中找出一对与之在逻辑关系上最贴近或相似的词。

请开始答题：

51. 古董：收藏：收藏家

- A. 武器：军人：军事家 B. 实验：研究：科学家
C. 杂志：出版：教育家 D. 运营：公司：企业家

52. 华南虎：猫科动物：哺乳动物

- A. 聚丙烯：不锈钢：建筑材料 B. 小提琴：弦乐器：交响乐团
C. 初中生：毕业生：青少年 D. 战斗机：军用飞机：航空器

53. 飞鸟：翅膀：飞机

- A. 斑马：线条：斑马线 B. 大象：象牙：象牙白
C. 蝙蝠：声波：雷达 D. 绵羊：羊毛：毛衣

54. 民意 对于 （ ） 相当于 （ ） 对于 军队

- | | | | |
|----------|----------|----------|----------|
| A. 百姓 士兵 | B. 国家 士气 | C. 民心 军心 | D. 民生 军纪 |
|----------|----------|----------|----------|
55. () 对于 犹豫 相当于 笑里藏刀 对于 ()
- | | |
|------------|------------|
| A. 瞻前顾后 阴险 | B. 居心叵测 情绪 |
| C. 举棋不定 恐惧 | D. 侧目而视 恶毒 |
56. 水滴：石穿
- | | |
|----------|----------|
| A. 千军：万马 | B. 掩耳：盗铃 |
| C. 买椟：还珠 | D. 唇亡：齿寒 |
57. 仰慕：结交：断交
- | | |
|-------------|-------------|
| A. 复习：合格：补考 | B. 逛街：购物：退货 |
| C. 没电：充电：放电 | D. 讨论：支持：反对 |
58. 电影：艺术：剧本
- | | |
|---------------|--------------|
| A. 考古学：历史：史料 | B. 知识：财富：书籍 |
| C. 云计算：技术：大数据 | D. 进化论：理论：实践 |

二、逻辑判断：共7题。每题给出一段陈述，这段陈述被假设是正确的，不容置疑的。要求你根据这段陈述，选择一个答案。注意，正确的答案应与所给的陈述相符合，不需要任何附加说明即可以从陈述中直接推出。

请开始答题：

59. 某办公室有若干名员工，现已知：有6名员工是近视眼，所有近视眼员工都戴眼镜，有4名员工是远视眼，该办公室有13名员工戴眼镜，同一名员工没有同时患有近视眼和远视眼。

由此可以推出 ()。

- 有一部分员工是远视眼且戴眼镜
- 有一部分员工是远视眼但不戴眼镜
- 有一部分员工不是近视眼也不是远视眼且不戴眼镜
- 有一部分员工不是近视眼也不是远视眼但戴眼镜

60. 某大学的研究人员发现女性喝醉所需的酒精含量通常要比男性少30毫升。研究发现，在比自己平时的量多喝一杯（含10毫升酒精）之后，女性喝醉的可能性比男性高13%。研究人员认为，女性的体重一般比男性低，体脂率也更高，这也意味着她们体内含水量更少，不容易将饮用的酒精稀释，所以她们的血液酒精含量也上升得很快。

如果以下各项为真，最能反驳研究人员观点的是 ()。

- 有些女性喝醉所需的酒精含量比男性多
- 女性并不都比男性的体重低
- 人体解酒并不是依靠体内的水，而是酶
- 女性喝酒机会少，缺乏饮酒经验

61. 如果你是长时间从事耐力运动的职业运动员，需要运动饮料补充糖分和电解质。但是，如果你是普通人，只是为了强身健体或者想要减肥控制体重，运动量一般不大，就没必要喝运动饮料了，普通

饮用水即可。

如果以下各项为真，最能支持上述结论的是（ ）。

- A. 运动员运动后还需要补充钾、钠等微量元素
- B. 普通饮用水更能满足人体对水分的需求
- C. 过多无法消耗的糖和电解质不利于人体健康
- D. 很多身体健康的普通人运动后不爱喝运动饮料

62. 在棉花糖实验中，研究人员将 1 颗棉花糖放在受试儿童面前，并且告诉他们如果能够在研究人员回来之前忍住不吃这颗棉花糖的话（研究人员会离开 15 分钟），就能得到第 2 颗棉花糖。如果他们吃了这颗棉花糖，就只能得到这 1 颗棉花糖了。大约 10 年后，研究者发现，小时候越能忍住不吃棉花糖的孩子，他们的学术能力评估测试成绩越高，问题行为越少。研究者因此得出结论：儿童的延迟满足能力与其之后的认知发展、社会性发展有关。

如果以下各项为真，最能反驳上述研究结论的是（ ）。

- A. 能忍住不吃棉花糖的孩子本来就不喜欢吃糖
- B. 能忍住不吃棉花糖的孩子家庭条件较好
- C. 10 年后能忍住不吃棉花糖的孩子动手能力相对较弱
- D. 10 年后那些吃了棉花糖的孩子经济水平更差

63. 对于茎叶茂密的谷物，化学药物喷施效率低，实际利用率不超过 30%，并且越来越多的农务不仅“锻炼出”害虫的耐药性，还容易导致农作物药残超标。某农科院最新研究成果显示，赤眼蜂可以在钻心虫的虫卵上寄生并繁殖，可建立并扩大种群，始终保持对害虫的源头压制。同时，生物防治后农作物害虫数量可比农药防治少一半。因此，研究人员认为，生物防治全面代替农药防治指日可待。

如果以下各项为真，最能支持研究人员结论的是（ ）。

- A. 生物防治技术已相对成熟，但面临成本高、门槛高等难题
- B. 已有地方开始对农民进行生物防治原理的系统培训
- C. 采用生物防治的玉米面积已有几十万亩之多，且效果突出
- D. 生物防治代替农药防治可以维护农作物物种多样性

64. 痛风是一种常见病，轻则关节肿痛，重则肢体坏死，严重影响患者日常生活。痛风是嘌呤代谢紊乱使尿酸浓度升高所致的疾病，尿酸钠晶体沉积于关节、动脉、骨间隙组织而引起的关节畸形及功能障碍。很多患者都知道痛风要忌口海鲜、啤酒和动物内脏等。但不少人认为，白酒能通经活络，喝白酒对治愈痛风有好处。

如果以下各项为真，最能质疑“不少人”现点的是（ ）。

- A. 临床诊断证明啤酒抑制尿酸排泄，过量饮用容易引起痛风
- B. 干红葡萄酒可减少尿酸产生，所以患者可以少量饮用红酒
- C. 研究证明，白酒会导致尿酸升高，进而引起尿酸排泄减少
- D. 临床诊断证明无论是红酒和白酒，过量饮用都会引起痛风

65. 某研究小组利用小鼠开展了一项大规模实验。他们设计了 30 种不同的食物，其中脂肪、碳水化合物（糖）和蛋白质含量各不相同。研究人员分别用这些食物饲喂 5 种不同品系的小鼠 3 个月。实验总

共采集了超过 10 万例小鼠体重变化和体脂数据。实验结果显示，饮食中的脂肪含量是导致小鼠肥胖的唯一因素。因此，研究人员认为，人类只有严格控制膳食中的脂肪含量，才能避免肥胖。

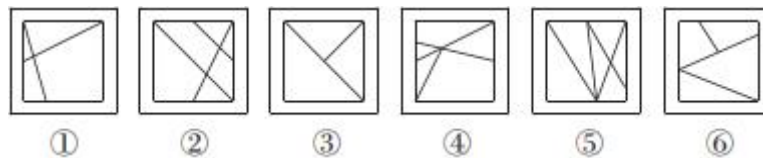
如果以下各项为真，最能支持研究人员观点的是（ ）。

- A. 很多肥胖者严格控制吃甜食后体重没有下降
- B. 类似的研究在其他动物实验中也得到过验证
- C. 糖和脂肪的共同作用比脂肪单独作用更易增肥
- D. 小鼠和人类在生理和代谢方面有很多共通之处

三、图形推理：共 5 题。请按每道题的答题要求作答。

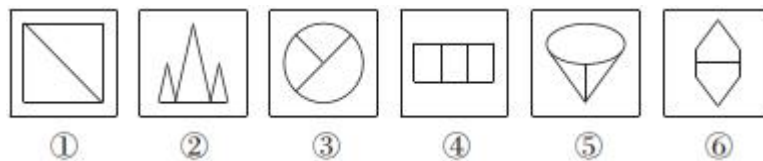
请开始答题：

66. 把下面的六个图形分为两类，使每一类都有各自的共同特征或规律，分类正确的一项是（ ）。



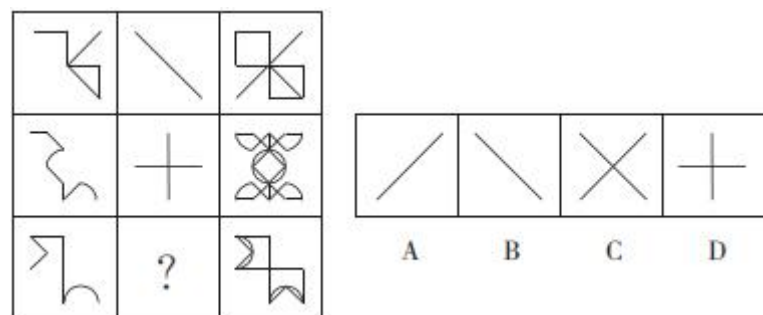
- A. ①②③，④⑤⑥
- B. ①②⑤，③④⑥
- C. ①②④，③⑤⑥
- D. ①③⑥，②④⑤

67. 把下面的六个图形分为两类，使每一类都有各自的共同特征或规律，分类正确的一项是（ ）。

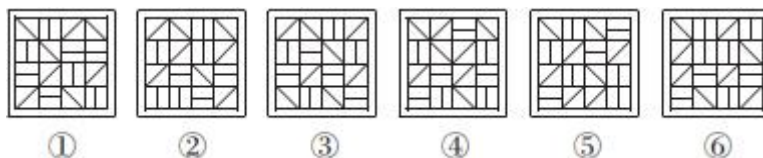


- A. ①②③，④⑤⑥
- B. ①④⑥，②③⑤
- C. ①③④，②⑤⑥
- D. ①③⑥，②④⑤

68. 从所给的四个选项中，选择最合适的一个填入问号处，使之呈现一定的规律性。

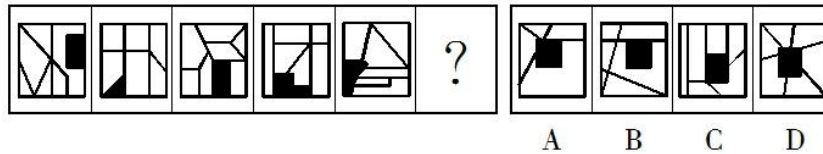


69. 把下面的六个图形分为两类，使每一类都有各自的共同特征或规律，分类正确的一项是（ ）。



- A. ①③④，②⑤⑥
- B. ①③⑤，②④⑥
- C. ①②⑥，③④⑤
- D. ①④⑥，②③⑤

70. 从所给的四个选项中，选择最合适的一个填入问号处，使之呈现一定的规律性。



第四部分 常识判断

(共 15 题，参考时限 10 分钟)

根据题目要求，在四个选项中选出一个最恰当的答案。

请开始答题：

71. 下列与建国以来我国经济发展有关的说法错误的是（ ）。

- A. 国民经济发展第一个五年计划始于上世纪 60 年代
- B. 中共十一届三中全会开启了我国改革开放历史新时期
- C. “西部大开发”中西部地区特指陕西、云南、重庆等 12 个省区市
- D. 目前我国已建成包括上海、天津、辽宁、湖北等多个自由贸易试验区

72. 下列科学家及其重大发现，对应正确的是（ ）。

- A. 奥斯特——电磁感应
- B. 安培——电流磁效应
- C. 托里拆利——大气压强
- D. 伽利略——惯性定律

73. 下列文学流派及其代表作品，对应正确的是（ ）。

- A. 黑色幽默——《第二十二条军规》《太阳照常升起》
- B. 批判现实主义——《人间喜剧》《丰乳肥臀》
- C. 浪漫主义——《西风颂》《唐璜》
- D. 魔幻现实主义——《百年孤独》《复活》

74. 越王勾践剑有“天下第一剑”的美称，剑身历经 2000 余年而不朽，下列关于越王勾践剑千年不朽的解释错误的是（ ）。

- A. 铸剑材料含铅量少
- B. 墓葬环境适合金属保存
- C. 工匠对剑身进行了硫化处理
- D. 剑鞘在一定程度隔绝了空气

75. 某社团欲征集代表性标语宣传儒家文化，下列合适的是（ ）。

- A. 柔静处下，随遇而安
- B. 人文化成，止于至善
- C. 真心无始，自性清净
- D. 无为自然，万物齐同

76. 下列文集不是按地名命名的是（ ）。

- A. 《柳河东集》
- B. 《孟襄阳集》
- C. 《临川先生文集》
- D. 《东坡先生全集》

77. “以民为本”是我国优良的政治思想传统和重要的思想资源。下列表述未体现“民本”思想的是（ ）。

- A. 民惟邦本，本固邦宁
B. 君命顺，则民有顺命
C. 凡治国之道，必先富民
D. 为政之道，以顺民心为本

78. 宋人严羽曾这样评价两位唐代诗人的诗风：“【甲】不能为【乙】之飘逸，【乙】不能为【甲】之沉郁。”其中的甲、乙分别是（ ）。

- A. 杜甫、李白
B. 李白、杜甫
C. 李商隐、杜牧
D. 杜牧、李商隐

79. 下列展览主题与展览文物，对应正确的是（ ）。

- A. 红山文化展——玉猪龙
B. 大汶口文化展——莲鹤青铜方壶
C. 仰韶文化展——绿松石耳坠
D. 三星堆文化展——骨耜

80. 下列现象及其成因，对应错误的是（ ）。

- A. 南方地区会有梅雨季节——受副热带高气压带控制
B. 南北寒带有极昼极夜现象——地球公转
C. 小明从中国坐飞机去美国后需要倒时差——地球自转
D. 秘鲁渔场水产资源非常丰富——上升补偿流

81. 人有耳垂是一种显性性状，若一对夫妇都是有耳垂的，那么该夫妇生育的一对龙凤胎（ ）。

- A. 都是有耳垂的
B. 都是没有耳垂的
C. 一个是有耳垂的，一个是没有耳垂的
D. 以上都有可能

82. 下列说法符合我国保密法相关规定的是（ ）。

- A. 国家秘密在解密后可以对社会完全公开
B. 无法控制知悉范围的情形不得确定为国家秘密
C. 除另有规定外，绝密级国家秘密的保密期限不超过二十年
D. 国家保密行政管理部门负责规定国家秘密及其密级的具体范围

83. 下列著名人物与其历史贡献，对应错误的是（ ）。

- A. 罗斯福——推行新政，克服经济大萧条
B. 戴高乐——二战时领导自由法国政府抗击德国侵略
C. 曼德拉——促进终结种族隔离制度
D. 丘吉尔——一战时领导英国并协调美、苏等国作战

84. 下列与地理有关的说法错误的是（ ）。

- A. 星云是由星际空间的气体和尘埃结合成的云雾状天体
B. 地球的回归线与极点之间的区域是太阳无法直射到的
C. 上弦月出现在上半月的上半夜，位置在东半边的天空
D. 陨星是从星际空间降落到地球表面的大流星体

85. 关于滑轮，下列说法正确的是（ ）。

- A. 使用动滑轮时，滑轮轴的位置会随着被拉物体一起运动
B. 使用定滑轮可以实现省力效果，用很小的力就可拉起很重的物体
C. 升国旗时拉绳子利用的是动滑轮的原理
D. 拉格朗日的《分析力学》首次分析了滑轮的力学原理

第五部分 资料分析

(共 15 题, 参考时限 15 分钟)

所给出的图、表或一段文字均有 5 个问题要你回答, 你应根据资料提供的信息进行分析、比较、计算和判断处理。

请开始答题:

一、根据下列资料, 回答 86~90 题。

2016 年我国课本类图书出版情况

课 本	种数 (种)	同比 (%)	初版种 数(种)	同比 (%)	印数 (万册)	同比 (%)	印张 (千印张)	同比 (%)	定价总额 (万元)	同比 (%)
大专及以上	63258	1.5	21846	-4	31208	-2.6	5487193	-2.2	1113687	0.6
中专、技校	6580	-13.9	1836	-34.7	6698	-10.4	852523	-8.8	159364	-8.8
中学	6442	-6.3	806	-35.5	153076	-0.4	11921868	1.6	1243245	1
小学	5712	-8.6	958	-37	131365	-0.9	7240824	1.2	857361	-0.2
业余教育	3043	-15.9	1283	-19.1	2576	-26.2	409669	-20.9	100070	-23.2
扫盲	3	-	-	-	0.35	-	17	-	3.0	-
教学用书	3963	-0.7	608	-21.4	2768	5.8	338692	-2.1	76637	-1.7

86. 2016 年, 中小学课本出版种数占课本总数的比约为 ()。

- A. 5% B. 14% C. 28% D. 44%

87. 2016 年, 哪类课本初版种数占该类课本出版种数的比重最大? ()

- A. 大专及以上 B. 中专、技校 C. 小学 D. 业余教育

88. 2016 年, 每册课本平均定价超过 30 元的课本类别有几个? ()

- A. 1 B. 2 C. 3 D. 4

89. 2016 年, 印张数同比减少最多的课本类别是 ()。

- A. 大专及以上 B. 中专、技校 C. 业余教育 D. 教学用书

90. 关于 2016 年我国课本类图书出版情况, 下列说法与资料相符的是 ()。

- A. 初版种数同比减少最多的是小学课本
 B. 业余教育课本平均每册定价低于 2015 年
 C. 扫盲课本平均每册使用印张数超过 5 个印张
 D. 种数同比降幅最大的课本类别印数同比降幅也最大

二、根据下列资料, 回答 91~95 题。

2017 年全国 18 个产茶省(区)茶园总面积 4588.7 万亩, 比上年增加近 135 万亩。贵州、云南、四川、湖北、福建依次是茶园面积最大的五个省份。无性系良种茶园面积比例达 60.9%, 有机茶园面积比例 7.5%。

2017 年全国茶产量为 260.9 万吨, 比上年增加 16.9 万吨。产量超过 20 万吨的省份依次是福建、云南、贵州、四川、湖北, 增产逾万吨的前四个省份分别是贵州、四川、湖北、浙江。总产值达到 1907.6

亿元，比上年增加 225.6 亿元。产值逾百亿元的前四个省份分别是贵州、福建、四川、浙江。

其中，名优茶产量 127.4 万吨，同比增长 6.8%；大宗茶产量 133.5 万吨，增长 7.0%。名优茶产值 1427.8 亿元，增长 10.42%；大宗茶产值 479.8 亿元，增长 23.3%。

2017 年，乌龙茶每公斤茶价在 100 元左右。红茶价格每公斤 60 元及以下、每公斤 60~200 元和每公斤 200 元以上销量比为 10:5:3，上年这一比值为 5:2:1。黑茶（不含普洱）毛茶、普洱成品茶每公斤均价分别约为 28 元和 89 元。

茶类结构方面，绿茶产量约 162.21 万吨，同比增长 7.49%；红茶、黑茶（不含普洱）、白茶产量分别达到 32.35 万吨、22.44 万吨、2.77 万吨，分别增长约 8.60%、9.55%和 36.93%；乌龙茶产量约为 27.84 万吨，增长 2.66%。普洱茶产量约为 13.33 万吨，增长 2.54%。

2017 年，国内茶叶年消费量达到 190 万吨，增幅为 4.40%；市场销售额达到 2353 亿元，增幅 9.54%。茶叶出口总量达 35.5 万吨，增幅 8.1%；出口额达 16.1 亿美元，增幅 8.7%。

91. 2017 年，无性系良种茶园面积约比有机茶园多多少万亩？（ ）
- A. 1450 B. 1780 C. 2450 D. 3010
92. 2016 年，全国茶园平均每公斤茶叶价格约为多少元？（ ）
- A. 60 B. 70 C. 80 D. 90
93. 2017 年，名优茶平均每公斤价格约比大宗茶高多少元？（ ）
- A. 40 B. 60 C. 80 D. 100
94. 下列各类茶叶中，2017 年产量同比增量最少的是（ ）。
- A. 黑茶（不含普洱） B. 白茶 C. 乌龙茶 D. 普洱茶
95. 下列说法与资料相符的是（ ）。
- A. 2017 年，贵州省的茶叶产量和产值均为产茶省中最高
- B. 2017 年，全国名优茶的产量、产值的同比增幅均小于大宗茶
- C. 2017 年，200 元/公斤以上的红茶销量占红茶总销量的比例小于上年
- D. 2017 年，全国茶叶出口平均每公斤价格超过 5 美元

三、根据下列资料，回答 96~100 题。

截至 2017 年年末，J 市城市商业综合体为 3 家，经营商户数为 889 户，全年可出租面积 123124 平方米，车位数 481 个，全年总客流量 1457 万人次，实现营业收入 14.1 亿元。城市商业综合体零售、餐饮业、服务业商户从业人员期末人数分别为 3143 人、499 人和 251 人，全年分别实现营业收入 12.7 亿元、0.7 亿元和 0.5 亿元。

2015~2017 年 J 市城市商业综合体自营、联营商户经营情况

		商户数（个）	期末从业人数（人）	营业额（万元）	营业面积（万平方米）
2015	全部	790	2588	86264	94384
	自营、联营	688	1947	82618	66828
2016	全部	869	3573	97585	120043
	自营、联营	621	2030	70133	54931
2017	全部	889	3893	141079	117317
	自营、联营	621	2180	99885	53202

2017 年 J 市城市商业综合体商户分布

	自营、联营（个）	租赁（个）
合 计	621	268
其中：零售业	588	149
其中：百货店	0	1
超市	2	1
专卖店	586	147
餐饮业	32	90
服务业	1	29
其中：电影院	0	2
游乐游艺	1	8
KTV	0	1
健身休闲	0	9
生活服务	0	9

96. 2017 年，J 市城市商业综合体平均每人次客流带来多少元营业额？（ ）
- A. 不到 50 元 B. 50～100 元之间
- C. 100～500 元之间 D. 超过 500 元
97. 2017 年末，J 市城市商业综合体平均每个租赁商户的营业面积约是自营、联营商户的多少倍？（ ）
- A. 1.5 B. 2.8 C. 5.1 D. 9.4
98. 2017 年，租赁商户营业额占 J 市城市商业综合体总营业额的比重比 2015 年（ ）。
- A. 高 15 个百分点以内 B. 高 15 个百分点以上
- C. 低 15 个百分点以内 D. 低 15 个百分点以上
99. 将 J 市城市商业综合体内 3 类商户按照 2017 年末平均每家商户的从业人数从高到低排序，正确的是（ ）。
- A. 服务业、零售业、餐饮业 B. 服务业、餐饮业、零售业
- C. 零售业、餐饮业、服务业 D. 餐饮业、零售业、服务业
100. 关于 J 市城市商业综合体内商户经营情况，能够从上述资料中推出的是（ ）。
- A. 2017 年底营业面积占可出租面积的 98% 以上
- B. 2017 年底平均每家自营、联营商户的从业人数少于 2015 年底
- C. 2017 年底专卖店中自营、联营商户占比高于零售业商户中自营、联营商户占比
- D. 2016 年底自营、联营商户营业面积占总营业面积的比重高于 2015 年

2019年2月23日浙江省事业单位统考试卷

《综合应用能力》

注意：

1. 本卷为全主观题，请用黑色字迹的钢笔或签字笔在答题纸上作答，直接在试卷上作答无效；
2. 请在试卷、答题纸上严格按照要求填写姓名、填涂准考证号；
3. 本卷总分100分，考试时间为150分钟；
4. 特别提醒：请在答题纸规定的区域内作答，超出答题区域作答无效。

一、案例分析题（根据所给案例，回答后面的问题。50分）

案例一

资料1

“眼看别人家的孩子都有娃啦，可我儿子今年都33岁了，至今仍是单身，把我和他妈头发都急白了，但无论我们怎么劝说，他就是不听。”一提起儿子的婚事，老李就满脸愁云。老李和妻子从不干涉儿子谈对象，但无法接受的是，儿子只谈对象却迟迟不结婚。面对父母的担忧和劝说，儿子总是以“没做好结婚的心理准备”为由，被逼急了就直接说“以后我的事你们就不要乱掺和了”。说得老李和妻子哑口无言，倍感伤心。“男大当婚，女大当嫁”原本是人之常情，但是在现实生活中，一些80后90后的年轻人迟迟不愿谈婚论嫁步入婚姻殿堂，成为“懒婚”、“不婚”一族。

2018年8月，民政部发布的《2017年社会服务发展统计公报》显示，2017年全国各级民政部门和婚姻登记机构共依法办理结婚登记1063.13对，比上年下降7.0%，2017年依法办理离婚手续的共有437.4万对，比上年增长5.2%。民政部公布的2018年第一季度全国的结婚人数301.7万对，同比下降5.7%。有专家分析指出，如果与5年前同期结婚人数的高位428.2万对相比，2018年第一季度已经下降29.54%。根据某国家权威报刊统计，从1987~2017年，离婚率由0.55%上涨至3.2%。

资料2

相关数字显示，1996年人口出生率为16.98%，相比1987年23.33%，已经下降约6个点。如果按照22岁年龄看，相当于1996年出生的人已进入到可以结婚的阶段。但当时人口出生率在快速下降，这意味着后续几年达到适婚年龄的人会迅速减少。从这个角度来说，如今结婚人数不断下降也在情理之中。同时，随着高等教育普及，年轻人受教育的年限增加，结婚年龄延后现象普遍，值得注意，代际间婚姻观发生了很大改变，对于很多80、90后而言，晚婚等现象越来越常见。

随着社会的不断发展，人们基本不用再为温饱问题而担忧，更多的是追求美好的生活。结婚的代价也随之更上一层楼，父母这代人的婚姻是父母之命，媒妁之言，几斤大米就可以娶到自己心爱的人。而现在结婚不仅要承担高额的彩礼钱，还要有房子跟车子。只有有了物质基础，未来的生活才能有保障。试想一个刚从大学毕业的学生，已经到了适婚的年龄，可谁又愿意跟一个一无所有的人结婚呢？尤其是

现在的孩子教育成本居高不下，从孩子出生到上大学，一线城市如北上广深，甚至高达 200 万元以上，这还没有算上孩子的奶粉和尿不湿钱。

近些年，离婚率居高不下，高离婚率意味着越来越多的婚姻不幸福，那还结婚干嘛？很多年轻人因此对婚姻充满恐慌，总是担心自己未来婚姻不幸福，与其在不幸福的婚姻里挣扎，还不如不结婚，可能这样更幸福。

“如果我结婚了，我的罪名就多了去了：比如，不生孩子，不孝敬公婆，不够勤快，浪费败家。而自己一个人吃吃喝喝没有家庭的牵绊，想一个人去遍世界各地，流浪千山万水，有趣的单身胜过将就的爱情。”这是一名女网友所引起广泛共鸣的微博。现在婚姻对于女性同胞来说，确实少了很多安全感，一个女人结婚后，家里就会催生，生完孩子一般情况下需要 3 年左右才会回到工作岗位，而这个时候基本与社会脱节，一切从头再来！另一方面正因为婚姻给不了女性安全感，很多女性选择努力地工作。有了较强的经济能力，靠自己的能力去获得一切，久了发现自己单身一样可以过得很精彩！懒婚不婚的人就越来越多了。

资料 3

以下是几名懒婚、不婚者在接受记者采访时的发言。

A: 婚姻应该是让双方变得更好，而不是变成双方的负担。越来越多的人觉得婚姻不再是必需品了。现在，我也有同感，不结婚我也能接受。二十几岁的时候，我也觉得人得结婚啊！可是现在，对于婚姻思考得多了，恐惧感却也多了。最怕的是家庭生活、孩子教育的责任和压力。我自己在家就是一个独生子，全部生活都是由父母照顾我的，我自己还是一个小孩子，自己都没活明白，怎么教育下一代？还有，如果嫁给一个人，可能会把自己的生活水平拉低好几个层次。经济上面的压力会有，结婚以后就是两个人的了，所有事情都得从家庭的角度考虑安排，我身边的朋友结婚后都不像婚前那样随心所欲了。真的不划算。不结婚，那就自由多啦！不用考虑别人。我觉得婚姻应该让双方变得更好，而不是成为双方的负担……不结婚就自由多了。

B: 在我心中恋爱，就是在懵懂的时候遇到一个人，产生好感，然后有连结，在彼此生命里留下一些印记，这是对另外一个生命的探索。让另一个人融入到自己的生活轨迹中，充满了青春的灿烂。生命的美好。不过大概是受媒体和网络影响，我一直觉得婚姻是爱情的坟墓，结婚之后或许会更像是朋友之间相处，之后发现彼此也就那样，所以我对婚恋没有特别的冲动。其实我上大学的时候有很多关系不错的异性朋友，但从来没有谈过一场恋爱。经常有人把我和某些女生说成是一对，其实我们只是比较“铁”。不过等到工作了就基本没时间考虑谈恋爱了。我到现在还没遇到合适的人。生活不易，能有个人一起分担一下，彼此聊聊还是很好的。但你知道，男生在婚姻中要承担更多物质方面的责任，我还没做好准备。

C: 我跟我女朋友相识七年了，不过我们还没有计划结婚。很多人都把婚姻看成是爱情修成了正果。但我觉得婚姻不仅不能为爱情提供保障，还会让爱情变得物质、不再单纯，还有可能加重爱情的负担。所以我宁愿给爱情减负，也不想结婚。我不是排斥结婚，只是不太看重，懒得结婚。我不太看重一纸婚书，更重视爱情的质量和感受。我对亲密关系的期待是彼此在爱情里不断学习、分享新东西，让爱情不断生长，保持活力。用结婚证把两个人绑起来，我只能说挺没劲的。

问题：根据资料，分析我国“懒婚”“不婚”一族存在的原因。（20分）

要求：简洁、全面、有条理。不超 200 字。

案例二

资料 1

德国城市公共交通与自来水，电力，燃气等一样，同属社会公益性事业，发展城市公共交通是地方政府的基本职责。城市公共交通经营主体的选择都必须严格按照市场化的招标流程。中标的公共交通企业按照合同为本市和其他城市提供相应的数量和品质的公共交通服务。政府通过有效的制度安排，保证城市公共交通市场的适度竞争，不断提高城市交通服务质量水平。

在城市公共交通运营管理方面，德国公共交通行业协会发挥着重要作用。各级政府之间、政府与公共交通企业之间、公共交通企业之间诸多事宜都须通过协会予以沟通和协调，绝大部分协会受政府委托承担着城市公共交通标准制定、规划咨询、决策支持、生产营销、财务核算、票制票价协调统一等方面的职能。甚至部分协会直接负责管理本地城市公共交通日常性事务。目前德国各类交通运输协会超过 1200 家，各州及诸多城镇都拥有自己的公共交通协会。

德国城市公共交通规划与发展，坚持需求主导，因地制宜的基本原则，将运输需求作为城市公共交通基础设施规划布局的基本出发点。对运输需求特别是客流的结构特征、流量流向等予以全面、系统、科学、准确地分析与预测，通过扎实的前期基础性工作，为城市公共交通规划与发展提供有力支撑。在城市公共交通规划、交通资源配置、交通方式选择等方面并不盲目地追求高标准、大规模，而是以舒适、高效、便捷为核心，将以人为本的零距离换乘理念体现在各个细微之处。

为使多种交通方式之间有便捷的换乘空间，德国综合交通枢纽多为开放式，不设检票口，通过清晰、简明的指示牌，帮助乘客实现便捷的立体换乘。在规划站址选择上，枢纽多处于城市中心的繁华地段，如柏林火车总站靠近市政大厅和勃兰登堡门，科隆火车站紧邻科隆大教堂等。不少城市的商业设施布局均以综合交通枢纽为中心，其商业区的规划设计，功能布局与综合交通枢纽衔接，极大地便利了旅客与城市的交流与联系。除立体式综合交通枢纽外，德国普通换乘式枢纽遍布城市各个角落，功能完善，高效安全，指示清晰，换乘便捷。普通换乘式枢纽不仅实现了公共交通层面轨道交通与公共汽车等一站式换乘，而且还可以实现公共交通与自行车、公共交通与私家车的便捷换乘，特别是与自行车的充分衔接，有效解决了城市公共交通最后一公里的问题。

德国轨道交通一般使用宽体车辆，乘客可以携带自行车乘车，极大方便了乘客的出行；公交站点配有手推行李车供乘客使用；使用低底盘有轨电车、低底盘公共汽车等运输装备，方便乘客上下车，各种公共交通工具都安装了为残疾人服务的专用设施设备等等。同时，通过加大公共交通基础设施供给力度，扩大城市公共交通服务覆盖面、加强一体化衔接配套设立公交专用线，给予公交车辆优先通行信号、提高私家车停车收费标准、对私家车征收高额汽车汽油税等手段，大力扶持公共交通发展。通过提升公共交通服务品质，吸引社会大众主动选择公共交通方式出行，提高公共交通的市场份额。

资料 2

美国长期来实行低密度扩散的土地使用政策，市民的出行在很大程度上依靠私人汽车，导致道路越修越堵，因此必须改变土地使用与交通规划的思路，提倡以公共交通为导向的城市发展模式（简称 TOD）。TOD 的规划原则是在中心城外围，沿快速公交或轨道交通线的站点发展新的社区或次中心城。人们可以利用公共交通到达中心城及其他社区。次中心城或 TOD 社区具有居住、工作、商业、娱乐、公共空间等多种功能，居民通过步行或公共交通便能解决出行的需求。TOD 模式重视土地使用与公共交通的协调发

展，以充分发挥资源节约的效益，保持良好的生活环境和生态环境。为了鼓励 TOD 计划的推广，美国政府对申请联邦政府资助的交通项目，如果结合 TOD 计划的话，在评估时优先考虑。美国联邦公共运输管理局对全美国 37 个最大的公共交通系统进行全面的安全评价，以便实施各种安全防范措施。联邦政府对公共交通安全的防范拨款 6500 万美元，主要用于区域监指系统，包括摄像监控、红外线图像检测、化学和放射性物质的检测等，建立综合通讯系统，开展安全防范的计划、培训和演习。美国联邦公共运输管理局得到美国公共交通协会等机构的配合，建立信息共享和分析中心，一周 7 天，1 天 24 小时连续工作，制定各种公共交通（包括公共汽车、轨道交通、通勤交通等）的系统安全计划标准，组织安全防范研讨会等。美国的一些机构专门开设课程，举办培训班，使公共交通的一线人员和管理人员对现场管理和安全事故处理能有效地负起责任，以对付恐怖活动和各种犯罪活动。主要内容包括如何识别异常情况；面对各种情况，如何运用熟练的技能尽量使公交运行保持正常秩序；如何正确报告等。

问题：假如你是市政府相关职能部门的工作人员，根据资料，谈谈其对我国城市公共交通发展的启示。（30 分）

要求：表述全面，条理清晰。不超过 400 字。

二、作文题（阅读以下材料，然后按后面的要求作答。50 分）

一位成功登上珠峰的运动员在分享经验时强调了两个字“下山”，上山容易下山难，因沉浸于登顶的喜悦而麻痹大意，在下山时迷路，失足的登山者并不鲜见。这启示人们，要想避免功败垂成，重在慎终如始，靡不有初，鲜克有终，慎初而未能慎终，容易酿成人生之憾。

结合材料，联系实际，自选角度，自拟题目，写一篇议论文。要求：中心明确，内容充实，论述深刻，语言流畅。字数 1000 字左右。

2018年10月27日浙江省事业单位统考试卷

《职业能力倾向测验》

第一部分 言语理解与表达

(共25题, 参考时限20分钟)

本部分主要考查考生对语言文字的理解和驾驭能力。这种能力包括:对词、句子、短文一般意思和特定意义的理解;对比较复杂的概念和观点的准确理解;根据上下文,合理推断句子隐含的内容,准确地辨明句义,筛选信息等等。

请开始答题:

1.六十年前,人们初识计算机的时候就在想:能否有一天可以创造出一种人工智能,达到甚至超越人类的智能水平。如今,科幻电影中的场景已经出现在现实生活中,我们似乎看到了人类科学正在加速冲向那个_____的时刻。

填入划横线部分最恰当的一项是()。

- A.前所未有 B.梦寐以求 C.精彩纷呈 D.众望所归

2.当前,互联网模式迭代迅速,甚至当新模式生成时,大部分人还_____。比如,“区块链”,尽管各大媒体热炒这个概念,不少人还是对此一头雾水,但它在专业技术层次上的实践,已有多年的历史了。这种专业性和普适性之间的_____,恰恰是互联网世界未来可能的趋向。

填入划横线部分最恰当的一项是()。

- A.浑然不觉 落差 B.固执己见 联系
C.不以为然 差异 D.充耳不闻 结合

3.适度的、健康的个人负债是经济成功转型的一个_____。它提振消费,改善生活,利于经济长期增长。但不好的、过度的负债则_____。它会挤压家庭部门的现金,削弱国民对未来实体经济的乐观预期。

填入划横线部分最恰当的一项是()。

- A.表征 适得其反 B.关键 得不偿失
C.基础 危机重重 D.目标 事与愿违

4.北极气候变暖的节奏已经远远超出了目前最_____的预测。海冰的消亡、高空气流的巨幅摆动等因素,都让原本安静的北极变得燥热,甚至在很多方面不断打破历史记录。北极的气候剧变不只是一个_____的问题,它可能在全球范围内引发不可逆的极端气候。

填入划横线部分最恰当的一项是()。

- A.悲观 时间性 B.谨慎 偶然性 C.激进 地区性 D.准确 局部性

5.预言家们爱拿古代进行_____,说什么好景不再的凄凉话。其实这有很大的局限性,更像是

_____。他们忽略了一个最重要的维度：古代中国是农业社会，当今中国却已经基本实现了工业化。

填入划横线部分最恰当的一项是（ ）。

- A. 比喻 缘木求鱼
- B. 类比 刻舟求剑
- C. 对比 朝三暮四
- D. 比较 井底之蛙

6. 表面上_____的楼市背后却暗流汹涌，此次开盘引来“抢购”的背后是一系列“怪象”：二手房价格远超新房价格，价格倒挂现象严重；地价高过房价呈现“面粉贵于面包”的情况；刚需购房者在买房路上_____，中签率过低使有的刚需购房者参加数十次甚至上百次摇号仍“一房难求”；仍有部分开发商在新房二手房价格倒挂的情况下捂盘惜售。

填入划横线部分最恰当的一项是（ ）。

- A. 波澜不惊 不知所措
- B. 高歌猛进 步履维艰
- C. 一帆风顺 筭路蓝缕
- D. 风平浪静 疲于奔命

7. 传统文化应当弘扬，然而，时代不同了，社会进步了，对儒家理学等“历史遗产”，不能_____，而要“取其精华，去其糟粕”，在批判的基础上继承和_____。可是，近年来，偏偏有人打着弘扬传统文化旗号，干着为封建思想招魂的事情。

填入划横线部分最恰当的一项是（ ）。

- A. 故步自封 摄取
- B. 全盘照搬 撷取
- C. 囫囵吞枣 包容
- D. 置若罔闻 吸纳

8. 在互联网上，由于制造围观就能赚钱，因而_____的人很多，骗子也不少，不负责任的起哄更是_____。

填入划横线部分最恰当的一项是（ ）。

- A. 夸夸其谈 司空见惯
- B. 大言不惭 无独有偶
- C. 哗众取宠 屡见不鲜
- D. 口若悬河 不足为奇

9. 作为地球生态圈的组成部分，南极_____地会受到人类活动和全球气候变化的影响。臭氧层空洞和冰架崩解这样的影响因为视觉冲击力而广受关注，而全球气候变化对物种生存_____的影响则常常会被人们忽视。

填入划横线部分最恰当的一项是（ ）。

- A. 首当其冲 微乎其微
- B. 自然而然 愈演愈烈
- C. 不出意料 日积月累
- D. 不可避免 潜移默化

10. 虽然每座城市的主导产业都是单一的，但形成城市群后，多样化、综合性的整体功能，远远大于单个城市功能的简单_____。区域内产业布局调整合理，增大了城市间的_____，整个城市群的经济稳定性也会因此增强。

填入划横线部分最恰当的一项是（ ）。

- A. 叠加 互补性
- B. 累积 融合性
- C. 拼接 交叉性
- D. 重复 合作性

11. 近几十年来，多个职能部门和研究机构发布过的促进和保障青少年健康的调查报告和各种建议、要求已经数不胜数。关于青少年的健康状况，具体数字_____，但是，我国青少年健康状况_____，

一些重要指标趋向负面，则是共识。

填入划横线部分最恰当的一项是（ ）。

- A. 不尽相同 不容乐观 B. 大同小异 每况愈下
C. 一言难尽 显而易见 D. 迥然不同 差强人意

12. 下列划横线词语古今意义没有变化的一项是（ ）。

- A. 师者，所以传道授业解惑也
B. 吾尝终日而思矣，不如须臾之所学也
C. 蚓无爪牙之利，筋骨之强，上食埃土，下饮黄泉
D. 且燕赵处秦革灭殆尽之际，可谓智力孤危，战败而亡

13. ①这当中，病毒或细菌是最大的麻烦制造者，它们的入侵几乎不可容忍

②当然，这个论断并不是要否认现代医学，而是希望从另一个侧面，再想一想：在我们会生病的这种机制背后，可能另有隐情

③从演化的角度讲，生病可能是我们的身体为了达到另一种目的而产生的一种妥协

④但是，很少有人从一个系统的角度去思考，人们为什么会生病

⑤很多人认为，生病就应该用最直接有效的药物控制症状，迅速把问题扼杀在摇篮里，因为一旦产生并发症，身体可能就要遭受更严重的折腾

⑥深入研究，科学家总会发现，这好像不是一次简单的“攻击和防御”过程

将以上 6 个句子重新排列，语序正确的是（ ）。

- A. ③①②④⑤⑥ B. ③⑥④⑤②①
C. ⑤①④⑥③② D. ⑤④③①②⑥

14. ①比如，我们常常将现实中的人工智能和科幻电影中的人工智能混为一谈

②当前，科学技术的巨大进步推动了人工智能的迅猛发展，人工智能成了全球产业界、学界的高频词

③事实上，这两者完全是两种不同阶段的人工智能

④虽然人工智能的确存在某种不确定性的风险，但对于类似问题的讨论，需要建立在清晰的定义或限定的范围内才有意义

⑤当然，其中的问题源于人工智能缺乏统一的定义，甚至于何为人工智能，当前在学界、业界、产界都没有任何定论。这样的结果之一，就是引发人们对人工智能不必要的恐惧或是认知上的混乱，甚至在传播的过程中造成了不必要的扭曲和误解

⑥然而，当在谈论人工智能可能对人类带来的负面影响或效应时，很多讨论都陷入了某种怪圈，即并不能很好地在限定的范围内讨论相应的问题和对应的责任，最终使得所提建议的价值打了折扣

将以上 6 个句子重新排列，语序正确的是（ ）。

- A. ②⑥⑤③①④ B. ④⑥②③⑤①
C. ②④⑤①③⑥ D. ④②⑥⑤①③

15. 在汉朝以前，史书上关于蹴鞠的记载只有零星碎片，但是从中不难看出，蹴鞠至少起源于春秋战国时代，而且兼具娱乐和锻炼的性质，并且在此后的数千年中，蹴鞠一直兼具这两种性质。到了汉代，蹴鞠得到快速发展。最先对蹴鞠的发展起到关键作用的人物，是刘邦的父亲刘太公。刘邦称帝后，刘太

公定居长安，对家乡的蹴鞠十分怀念。于是刘邦在长安城找了一块空地，仿造了老家沛县丰邑，并把丰邑老乡也迁了过来，同时迁来的还有蹴鞠，从此蹴鞠就在长安生根发芽，深受汉室皇帝以及高官贵族的喜爱。

这段文字主要说明（ ）。

- A. 蹴鞠在汉朝得到了快速发展
- B. 蹴鞠的起源时期及其发展历程
- C. 蹴鞠受到古代皇帝和高官贵族喜爱的原因
- D. 蹴鞠的性质随历史发展而不断变化

16. 互联网平台的使用要求个人做出信息的让渡。也许有些让渡是必要的，但互联网公司对用户个人信息在技术上和商业上的全方位捕捉则侵蚀到了这个社会运作的基础——对个人权利的保护。我们本来需要靠对个人信息的隐匿，来形成一个自我保护的心理机制和社会机制，由此获得安全感，但现在这两个机制都被破坏了。个人在心理上的安全感，以及一个社会的信息安全，由此变得脆弱。

这段文字意在说明（ ）。

- A. 用户面对互联网做出信息让渡时应持谨慎态度
- B. 技术和商业的驱动带来了侵犯个人隐私的网络安全隐患
- C. 个人信息泄露对个人和社会安全的影响超出了人们的预期
- D. 互联网公司对个人隐私的过度侵犯潜藏着巨大的安全风险

17. 城建档案作为城市建设发展中直接形成的历史记录，是城市的发展建设资料，为城市的发展变化描绘了清晰的轨迹。而城建档案的编研工作，其本身就是一项文化选择。有人形容城建档案是一座城市的宝矿，能否挖掘出来，编研工作显得尤其重要。编研做得好，就能发挥蕴藏在档案中的文化引领作用，再用其指导城市建设，从而满足公众对一座城市的精神文化需求，实现城市文化的延续与发展。因而，_____。

填入划横线部分最恰当的一项是（ ）。

- A. 编研工作需要集思广益，离不开广大人民群众参与
- B. 城建档案编研工作是城市文化建设不可或缺的一部分
- C. 城建档案编研不仅是一个技术概念，更是一个文化概念
- D. 这些档案背后蕴藏的人文情怀与历史文化影响不可小觑

18. 尽管起步较晚，_____。巴西大部分领土位于热带地区，日照时间长，太阳能发电潜力巨大。作为重要光伏原材料的硅，巴西储量也十分丰富。此外，巴西非常重视环境保护，相关法规十分严格。光伏发电作为清洁能源，对环境影响较小，易于推广。另一方面，伴随着近年来全球光伏发电的快速发展，更多的新技术、新材料得以运用，成本逐步降低，也为巴西发展光伏发电创造了条件。

填入划横线部分最恰当的一项是（ ）。

- A. 巴西在光伏领域仍具有独特的优势
- B. 但巴西在光伏领域已经开始奋起直追
- C. 却无法阻挡巴西在光伏领域后发制人的脚步
- D. 但巴西已然成为全球光伏领域的领头羊

19. 近年来，金融消费纠纷频发，然而对簿公堂时，对于营销过程中究竟发生了什么，买卖双方各执一词，给监管者和执法者裁断造成不少困惑。常言道，“口说无凭，立字为证”。“双录”就是通过影音手段，使销售行为可回放、重要信息可查询，厘清双方责任、避免推诿扯皮，在保护消费者合法权益的同时，也令合规经营者免受“冤屈”。为遏制违规营销，以往监管部门和行业协会做过很多尝试。比如出台行业示范条款、进行合同表述通俗化改革、明确免责条款印刷字号等。然而，利益驱动之下，一些营销人员总能想办法绕过规矩坑蒙消费者。因此，监管部门让买卖双方“出镜留声”，也是为了更有效地保护消费者想出的一个招数。

这段文字主要介绍了（ ）。

- A. 监管部门和行业协会为避免金融纠纷所做的种种尝试
- B. “出镜留声”在金融纠纷责任厘清过程中发挥的作用
- C. “双录”制度的具体解释和标准的操作步骤
- D. 监管部门出台“双录”制度的原因及其意义

20. 爱情之美在于没有固定法则，多姿多彩。青年在坚守“愿等待不愿将就”的同时，也不妨放弃一些偏见，多给自己一些机会，积极走出去。结识更多的人，才有可能遇到有趣的灵魂。不将就，是选择上的不凑合，不代表行动上的不作为、不主动。

通过这段文字，作者想表达的观点是（ ）。

- A. 爱情要坚守宁缺毋滥
- B. 爱情之美仁者见仁智者见智
- C. 青年人追求爱情应更加主动
- D. 青年人的爱情观需要摒弃偏见

21. 《琵琶记》的剧本在乡村、宗族、市场等不同场域演出时，细节上常有微妙变动：市场演出本体现老百姓的道德观，在社会风气更开放的江浙演出的吴本倾向脱离礼教，而宗族势力强大的福建上演的闽本则重视尊卑关系。

这段文字说明（ ）。

- A. 戏曲有较强的广泛性以及和观众的互动性
- B. 戏曲折射出传统时代中国人的文化政治观念
- C. 戏曲在演出过程中不断完善演进
- D. 戏曲是古代政权教化民众的一个渠道

22. 如果简单地把平台调动的劳务都认定为企业的员工，就是否认了企业的市场属性。这种安排看似是保护了劳动力的权益，但从长远来看则未必是一种有效的安排。试想，如果使用 Uber 的司机都会被认定为是 Uber 的员工，那么 Uber 公司恐怕要掂量一下雇佣这么多人是不是值得。这就逼着它按照传统出租车公司的经营模式，严格挑选一小部分员工。

下列哪项最可能是上述文字的作者所持的立场？（ ）

- A. 保障劳动者的权益是首当其冲的
- B. 平台具有企业和市场的“二重性”
- C. 企业和市场之间的关系是比较模糊的
- D. 平台有权利设定进入平台的前提条件

23. 在这个传播方式日新月异而娱乐节目大行其道的时代，那些紧守着严肃内容的节目创作者固然

令人肃然起敬，但是有限的传播渠道却让人心急。我们国家拥有着最强大的文化宝库，但是这些精神和物质宝藏一度被大众所忽视，如果能将其打造成品牌范式，将这些严谨、专业的文化知识进行大范围的传播，那么整个文娱市场的生态也许会变得丰厚饱满得多。

这段文字意在说明（ ）。

- A. 严肃文化因传播渠道有限在文娱市场不受重视
- B. 整个文娱市场综艺节目质量参差、同质化严重
- C. 应着力打造文化类节目品牌，扩大传播
- D. 文化类节目应当融入综艺元素，以满足大众口味

24. 西藏平均海拔 4500 米，因高寒缺氧，这里一度被认为是“世界上最不适合人类居住”的区域。交通、气候所带来的自然屏障，也使西藏在过去和内地的连接上，存在较多困难。也因此，其一度被外界认为是封闭而保守的。然而事实上，_____：在南边，它向印度、尼泊尔等国家学习；在东北面，它向汉族地区学习；在西北，它向中亚地区民族的文化学习。

填入划横线部分最恰当的一项是（ ）。

- A. 现代和传统在西藏相得益彰
- B. 开放和包容一直是藏文化的特点
- C. 在西藏可以找到源自内心的平和与安逸
- D. 一到西藏就能感受到不一样的文化氛围

25. 随着现代科技飞速发展，留住兵马俑令人惊叹的绚丽色彩已经实现。随着研究深入，专家发现，秦人对色彩的使用颇有章法，但仍有谜团未解。据《史记·秦始皇本纪》记载，秦始皇统一六国后，把黑色作为最尊贵的颜色，“衣服旄旌节旗皆上黑”。然而，兵马俑的服装却是多彩的。据统计，兵马俑的服饰上有粉绿、朱红、枣红、粉红、天蓝、白色、赭石等十几种颜色，尤以粉绿、朱红、粉紫、天蓝等四色数量最多。

这段文字接下来最有可能讲的内容是（ ）。

- A. 秦人尚黑的传统
- B. 秦代染色技术原理
- C. 粉绿等颜色为什么占比最多
- D. 兵马俑色彩丰富的原因

第二部分 数量关系

(共 25 题，参考时限 25 分钟)

本部分包括两种类型的试题：

一、数字推理：共 10 题。

1. 给你一个数列，但其中缺少一项，要求你仔细观察数列的排列规律，然后从四个选项中选出你认为最合理的一项来填补空缺项。

请开始答题：

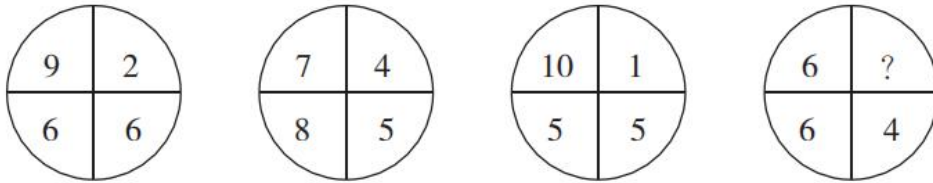
26. 2 3 9 18 45 ()

- A. 63 B. 81 C. 99 D. 125
27. 4 6 12 14 20 ()
- A. 22 B. 24 C. 28 D. 30
28. 90 30 12 6 4 ()
- A. 1 B. 2 C. 3 D. 4
29. 6 13 18 37 68 123 ()
- A. 218 B. 228 C. 246 D. 259
30. 1 2 7 20 61 ()
- A. 101 B. 142 C. 156 D. 182

2. 每题图形中的数字都包含一定的规律，请你总结前三个图形中数字的规律，从四个选项中选出你认为问号应该代表的数字。

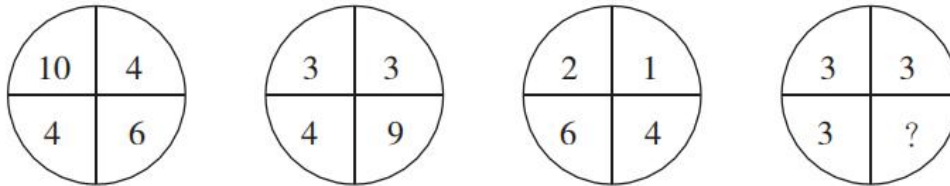
请开始答题：

31.



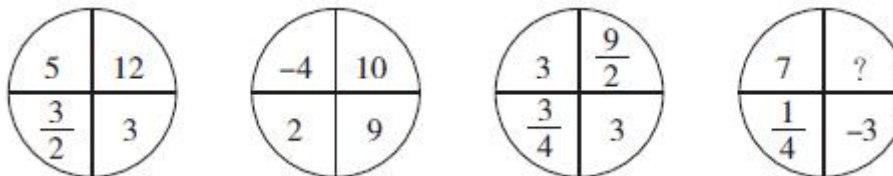
- A. 1 B. 2 C. 3 D. 4

32.



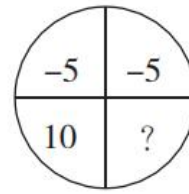
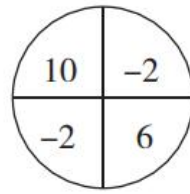
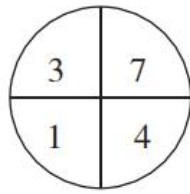
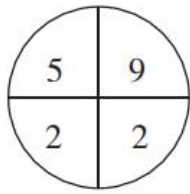
- A. 3 B. 6 C. 9 D. 12

33.



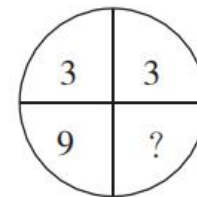
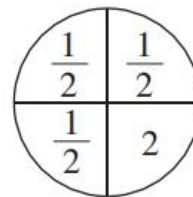
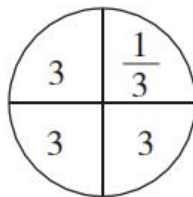
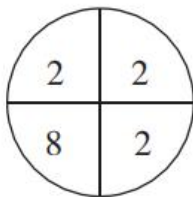
- A. 1 B. 2 C. 3 D. 4

34.



- A. -6 B. -4 C. -2 D. 0

35.



- A. 1 B. 2 C. 3 D. 4

二、数学运算：共 15 题。每道试题呈现一道算术式，或表述数字关系的一段文字，要求你迅速、准确地计算或论证出答案。

请开始答题：

36. 工程队修一条路，如果第一天修 15 米，以后每天都比前一天多修 3 米，最后一天只需要修 9 米就可以完工；后改变工期计划，第一天修 24 米，以后每天都比前一天同样多修 3 米，结果最后一天修 21 米后完工。问这条路共有多少米？（ ）

- A. 231 B. 252 C. 273 D. 261

37. 有五根仅长度和颜色不同的木棍，长度分别为 19 厘米、49 厘米、26 厘米、55 厘米和 22 厘米，现将其中若干木棍拼接起来，在地面竖一根高度大于 0.9 米且不到 1 米的旗杆。假设木棍间连接没有缝隙，问可组成多少根不同的旗杆？（ ）

- A. 12 B. 18 C. 24 D. 30

38. 有一水池，如果打开甲水龙头注水，需要 5 个小时装满水，如果打开乙水龙头注水，需要 8 个小时装满水，如果打开丙水龙头放水，需要 6 小时放空水池。现打开甲水龙头一小时，然后打开乙水龙头，过一小时后再打开丙水龙头，问再过多少小时可以注满水池？（ ）

- A. 3 B. 4 C. 5 D. 6

39. 小敏沿公路以不变的速度走路去学校，该路上 62 路公共汽车也以不变的速度行驶。在小敏走路过程中，每隔 11 分钟就会有辆 62 路公共汽车从后面超过她，每隔 7 分钟就遇到迎面开来的一辆 62 路公共汽车。问公共汽车的速度是小敏走路的多少倍？（ ）

- A. 3 B. 3.5 C. 4 D. 4.5

40. 甲、乙两只装盐水的桶，甲桶有盐水 90 千克，浓度为 40%；乙桶有盐水 60 千克，浓度为 20%。要使两桶盐水的浓度相等，需把两桶盐水相互交换多少千克？（ ）

- A. 24 B. 28 C. 32 D. 36

41. 某办公用品举办促销活动，打八五折出售某款耗材，活动第一天销量是未打折时的 3 倍，利润是未打折时的 1.2 倍。活动第二天打九折出售，问销量要是未打折时的多少倍，两天活动的平均利润才能与平时相当？（ ）

- A. $\frac{4}{3}$ B. 1.5 C. $\frac{5}{3}$ D. 2

42. 工厂生产某种商品，每天的产量和销量均相同，库存维持在库房容量的 50%，现用 20 天时间改造生产线，每天的产量减半，改造完成时库存只有库房容量的 10%。改造完成后生产线效率是改造前的 2 倍，问销量至少要是之前的多少倍，才能保证在 30 天内库存不会超过库房容量？（ ）

- A. 1.25 B. 1.5 C. 1.75 D. 2

43. 专卖店销售两种不同配置的电脑，低配版每台售价 5500 元；高配版每台售价 9500 元。教师节举办促销活动，规定教师购买电脑打八折。当天销售这两种电脑共 10 台，其中有 3 台是教师购买的，总销售额为 66900 元。问当天销售的低配版电脑中，有多少台不是教师购买的？（ ）

- A. 1 B. 2 C. 3 D. 4

44. 一列客车完全经过路边的一根电线杆用时 15 秒，完全超过一列速度为其一半的货车用时 75 秒。已知货车的长度为 900 米，问客车的速度为多少米/秒？（ ）

- A. 20 B. 30 C. 40 D. 50

45. 某单位 45 名职工利用假期重读马克思主义著作。其中 60% 的人阅读《资本论》，阅读《共产党宣言》的人比阅读《政治经济学批判》的多 5 人，但少于阅读《资本论》的人。已知所有人都阅读这三本著作中的至少一本，问最多有多少人这三本著作都阅读？（ ）

- A. 12 B. 13 C. 14 D. 15

46. 投资者 2018 年以同样的价格卖出甲、乙两件艺术品，其中甲艺术品的卖出价比买入价低 20%，乙艺术品的卖出价比买入价高 60%，总卖出价比总买入价高 6 万元。问甲艺术品的买入价比乙艺术品高多少万元？（ ）

- A. 30 B. 36 C. 42 D. 48

47. 4 名职工向单位图书馆捐赠了一批书籍，捐赠后图书馆的书籍总数增加了 25%。已知小张捐赠了 4 人捐赠总数的 30% 且比小陈多捐 300 本，小王捐赠的数量正好等于小刘和小陈捐赠数量之和，小刘捐赠的数量是小陈的 2.5 倍。问捐赠后图书馆有多少本书？（ ）

- A. 4500 B. 6000 C. 7500 D. 9000

48. 小张骑自行车上坡、下坡、平路的速度分别为 10 千米/小时、20 千米/小时和 15 千米/小时。他骑自行车从甲地出发前往乙地，先上坡一段距离再骑一段距离的平路到两地中点然后直接下坡，全程平均速度为 15 千米/小时。如小张 10:00 出发，12:00 到达乙地，则他在平路上骑行多少千米？（ ）

- A. 6.0 B. 7.5 C. 9.0 D. 12.0

49. 10 人参加知识竞赛，竞赛内容为 100 道选择题，每人答对的题数都不相同。将所有人按答对题数从高到低排列，前五名依次是小王、小张、小刘、小陈和小周。小王答对的题数比小张多 2 道，比小刘多 5 道，小张和小周答对的题数之和与小刘和小陈的和相同，第 6~10 名总共答对 286 道题。问小王和小张均答对的题最少有多少道？（ ）

- A. 32 B. 34 C. 36 D. 38

50. 某市实验小学在全校开展“最美少先队员”民主推选活动，全校师生在 10 名候选人中选择 2 名进行投票。投票结束后发现，没有任何一种候选人的组合得到了超过 12 票，问该校参与投票的师生最多有多少人？（ ）

- A. 495 B. 496 C. 540 D. 541

第三部分 判断推理

(共 20 题，参考时限 20 分钟)

本部分包括三种类型的试题：

一、类比推理：共 8 题。先给出一对相关的词，要求你在备选答案中选出一对与之在逻辑关系上最贴近或相似的词。

请开始答题：

51. 合同：盖章

- A. 电脑：关机 B. 公交车：售票
C. 发票：打印 D. 信用卡：激活

52. 自卑：鼓励：自信

- A. 麻木：提醒：敏感 B. 平静：安抚：激动
C. 担心：开导：放心 D. 糊涂：思考：明白

53. 影响：轩然大波

- A. 判断：似是而非 B. 毛病：吹毛求疵
C. 价值：不值一提 D. 成就：丰功伟绩

54. 桎梏：刑具：束缚

- A. 月光：月亮：皎洁 B. 曙光：阳光：希望
C. 兄弟：手足：友谊 D. 危机：风险：突发

55. 字：词：句

- A. 点：线：面 B. 时：分：秒
C. 根：茎：叶 D. 河：湖：海

56. 动员：部署

- A. 生存：生活 B. 重建：反思
C. 消化：吸收 D. 印刷：校对

57. () 对于 盥洗室 相当于 制冷 对于 ()

- A. 洗手间 电风扇 B. 饮用水 休息室
C. 洗漱 冰箱 D. 水池 空调

58. () 对于 计时器 相当于 质量 对于 ()

- A. 钟表 重量 B. 时间 天平

C. 秒针 商品

D. 比赛 砝码

二、逻辑判断：共 7 题。每题给出一段陈述，这段陈述被假设是正确的，不容置疑的。要求你根据这段陈述，选择一个答案。注意，正确的答案应与所给的陈述相符合，不需要任何附加说明即可从陈述中直接推出。

请开始答题：

59. 一位小学教师声称其发现了“第十名”现象，即在一个班级中，日后最有出息的学生往往不是学习成绩最好的前几名，而是班上处于中游的第十名左右的学生。该教师称，这种现象出现的原因是这类成绩中等的学生拥有性格优势，他们既没有优秀生“想赢怕输”的负担，也没有差生的自卑心理，他们敢闯敢拼，因此在后面的人生中比前两者更容易取得成功。

以下哪项如果为真，最能质疑该教师的观点？（ ）

- A. 最能影响小学生性格发展的因素是老师以及家长的教导，而非成绩的高低
- B. 当年成绩中等的学生现在的平均工资远高于当年成绩靠后的学生
- C. 判断一个人成功与否取决于他是否感到幸福
- D. 一些小学时成绩处在中游的学生进入大学后成绩大幅下降

60. 英国曾经流传这样一个关于战争的小故事：“少了一颗铁钉，丢了一只马掌；少了一只马掌，摔了一匹战马；摔了一匹战马，死了一位将军；死了一位将军，败了一场战役；败了一场战役，丢了一个国家。所以，少了一颗铁钉导致了一个国家的灭亡。”

以下哪项论述与这个故事使用了相同的逻辑推理方法？（ ）

- A. 前天我看这部电影时被感动哭了，昨天李帆和张鹏看这部电影时也哭了，所以你看这部电影时也会哭的
- B. 足球比赛中冯欣由于不冷静与对方发生了冲突，被红牌罚下，致使球队士气下滑，输掉了比赛，所以这场比赛的败因是冯欣
- C. 水不在深，有龙则灵。因此，无论水深与否，只要有龙就有灵气
- D. 这次数学竞赛的冠军如果不是王明，那一定就是刘丽，赛后结果显示王明不是冠军，所以冠军肯定是刘丽

61. 近年来，人工智能行业迅猛发展，很多人对未来人类的工作将会被人工智能所取代的论断感到担忧。对此，一位专家发表了他的看法：人工智能永远只能肤浅地模仿人类的精神，无论人工智能显得多么“聪明”，只证明了它的创造者——人类——的智慧在更高的层次上，所以人类的工作是不可能被人工智能取代的。

如果上述专家论述为真，则必须以下列哪项为前提？（ ）

- A. 人类与人工智能合作的工作效率比人工智能单独工作时高
- B. 人类的智慧可能会被人工智能完全模仿，但人类的精神不可能被完全模仿
- C. 只有在人工智能拥有比人类更高的智慧时人类的工作才会被取代
- D. 人工智能行业的发展速度会被控制在正常的范围内

62. 某大学组织学术研讨会，邀请该校教师和学生共 10 人参加。10 位参会人员的学历为 4 位本科、

4 位硕士和 2 位博士。已知参会人员有 7 位男性，3 位女性；博士不都是学生，也不都是女性；所有的硕士学生都是男性，所有的博士学生都不是男性；只有一位男教师学历是本科，只有一位女教师学历是硕士；本科学生人数等于硕士学生与博士学生的人数之和，硕士教师人数等于本科教师人数与博士教师人数之和，硕士教师人数等于硕士学生人数。

下列关于此次参会人员情况的说法不正确的是（ ）。

- A. 一定有一位学生是女博士
- B. 本科教师、硕士学生和博士教师性别相同
- C. 本科学生人数等于本科教师人数
- D. 硕士学生人数小于女性参会人数

63. “没有真正的苏格兰人”谬误，也称“诉诸纯洁”谬误，是指当一个人主张“所有的 A 皆为 B”时，发生了“A 不为 B”的反例，而后此人改口主张“B 这种 A 并不是‘真正的 A’，而”‘真正的 A’都是 B”。

下列论述中存在“没有真正的苏格兰人”谬误的一项是（ ）。

- A. 甲：所有的小饭馆都不是卫生的。
乙：有的小饭馆还是很干净的，你不要以偏概全。
甲：我去过好几家小饭馆，都很不卫生，其他的一定也是这样！
- B. 甲：我们必须驱逐校园中的所有流浪狗，预防水痘。
乙：医学已经证明了流浪狗不会携带水痘病毒。
甲：最近身边得水痘的同学越来越多，一定是学校里流浪狗越来越多的关系！
- C. 甲：明天所有人都应该去人民英雄纪念碑纪念革命先烈。
乙：我临时有事不能去。
甲：真正的好同志都会去，如果你不去，就是在侮辱革命先烈！
- D. 甲：所有的球迷都喜欢去现场看球，咱们一起去吗？
乙：我也是球迷，但我不喜欢去现场看球，现场太嘈杂了。
甲：真正的球迷都喜欢去现场看球，你是个不懂球的伪球迷！

64. 人人都喜欢丰衣足食、酒足饭饱，然而，英国伦敦大学健康老化研究所称通过统计发现：食量减少 40%，可能让寿命延长 20 年。所以，如果你想长寿，请减少食量、保持饥饿。

以下哪项如果为真，最能支持上述结论？（ ）

- A. 有一些团体严格遵守只吃素食的饮食原则，他们的寿命比全球平均寿命长
- B. 食物摄入量较低时，人体可产生一种酮基分子来减缓血管系统的细胞老化
- C. 统计发现，粮食缺乏使全球每年有 300 万以上的人因为饥饿而死亡
- D. 有关专家表示，影响人体寿命长短的决定性因素是遗传基因

65. A 市规定：在室内公共场所吸烟属于违规吸烟，将对吸烟者进行罚款。该规定出台后，A 市的违规吸烟现象仍然屡禁不止。对此，有关专家表示，如果不对违规吸烟者罚款，而是将违规吸烟记录纳入其诚信档案，就会有效消除大部分违规吸烟现象。

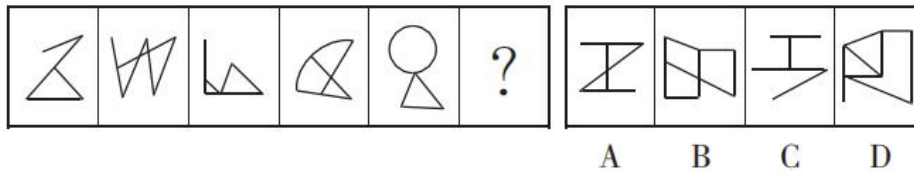
下列最不可能是上述论证前提假设的是（ ）。

- A. 仅凭现有的罚款制度无法遏制违规吸烟现象的发生
- B. A 市很多吸烟者认为只要交了罚款就可以违规吸烟
- C. 违规吸烟者认为诚信档案的违规记录比罚款更重要
- D. A 市的公共场所都装有摄像头可有效监控违规吸烟

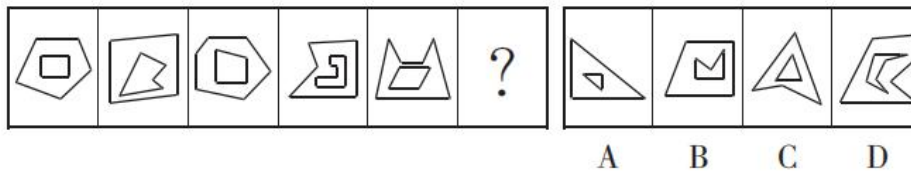
三、图形推理：共 5 题。请按每道题的答题要求作答。

请开始答题：

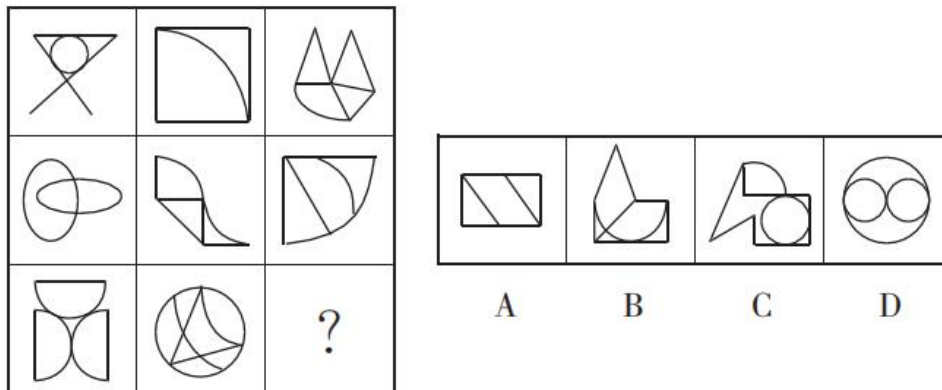
66. 从所给的四个选项中，选择最合适的一个填入问号处，使之呈现一定的规律性。




67. 从所给的四个选项中，选择最合适的一个填入问号处，使之呈现一定的规律性。



68. 从所给的四个选项中，选择最合适的一个填入问号处，使之呈现一定的规律性。



69. 从所给的四个选项中，选择最合适的一个填入问号处，使之呈现一定的规律性。



70. 把下面的六个图形分为两类，使每一类图形都有各自的共同特征或规律，分类正确的一项是 ()。

属于“红船精神”的内涵？（ ）

- A. 立党为公、忠诚为民的奉献精神
- B. 开天辟地、敢为人先的首创精神
- C. 坚定理想信念、百折不挠的奋斗精神
- D. 坚忍不拔、诚信守法的创业精神

78. 下列关于世界著名山脉的说法不正确的是（ ）。

- A. 安第斯山脉从北到南纵贯南美大陆西部
- B. 阿尔卑斯山脉地处温带和亚热带之间
- C. 高加索山脉位于亚洲和非洲的地理分界线上
- D. 喜马拉雅山脉穿过我国和巴基斯坦、印度、尼泊尔等国

79. 下列关于动物的说法不正确的是（ ）。

- A. 鸵鸟是当今世界上体型最大的鸟类
- B. 麋鹿因其独特的外形而被称为“四不像”
- C. 袋鼠和松鼠、老鼠一样都属于啮齿类动物
- D. 扬子鳄因其具有恐龙类爬行动物的许多特征故被称为“活化石”

80. 秋天是一个适合出行、旅游的季节，下列关于秋天的说法不正确的是（ ）。

- A. 秋天气温逐渐下降主要因为太阳与地球的距离逐渐变远
- B. 秋高气爽主要是因为受到高气压增加的影响
- C. 秋天落叶主要是因为要减少水分和养分的消耗
- D. 红叶、黄叶的出现主要是因为叶片内叶绿素减少、叶黄素等增多

81. 根据《中华人民共和国刑法》规定，诽谤罪，是指故意捏造并散布虚构的事实，足以贬损他人人格，破坏他人名誉，情节严重的行为。下列行为构成诽谤罪的是（ ）。

- A. 小王发现其部门经理收受贿赂的确凿证据后，在网上公开发布相关证物，导致该部门经理精神失常后自杀
- B. 小李为掩盖其挪用公款的行为，在全单位的例会上指责与此事毫无关系的同事小杨挪用公款，严重破坏了小杨的名誉
- C. 小张通过技术手段合成了一张显示小刘患有艾滋病的病历照片，并通过微信将病历照片发给小刘，扬言不给钱就公开发到网上去
- D. 小赵为阻止化工厂建设在其居住小区附近，在小区内张贴了数十张含有该化工厂污染超标、违法建设等不实信息的海报

82. 下列情形中，表明力能改变物体运动状态的是（ ）。

- A. 用力将橡皮筋拉长
- B. 足球被守门员踢飞
- C. 一锤下去把易拉罐锤扁
- D. 刀刃被磨得锋利

83. 为了防止风把办公室的门带上，小刘把一张纸折了几下，塞在门缝下面，这样增加门与地面之间摩擦力的原理是（ ）。

- A. 增大压力
- B. 增大牵引力
- C. 减少空气
- D. 增加接触面积

84. 在我国古代历史上，有一些人因在其所擅长的领域取得了极大的成就而被世人尊称为“圣”。下列历史人物与其尊称对应全部正确的一项是（ ）。

- A. 亚圣——孟子 酒圣——杜康 词圣——辛弃疾
 B. 文圣——周公 元圣——孔子 史圣——司马迁
 C. 诗圣——杜甫 医圣——华佗 画圣——顾恺之
 D. 兵圣——孙武 茶圣——陆羽 书圣——王羲之

85. 下列不同朝代的官名与其在当时的职能对应不正确的一项是（ ）。

- A. 清朝按察使——主管一省巡查、吏治、刑法
 B. 唐朝户部尚书——主管国家经济、赋役、户口
 C. 汉朝执金吾——主管起草诏书、发文、备皇帝询
 D. 明朝鸿胪寺卿——主管朝会、筵席、祭祀

第五部分 资料分析

(共 15 题, 参考时限 15 分钟)

所给出的图、表或一段文字均有 5 个问题要你回答。你应根据资料提供的信息进行分析、比较、计算和判断处理。

请开始答题:

一、根据下列资料, 回答 86~90 题。

2017 年, B 省共有农业产业化龙头经营组织 2575 个, 比上年增加 46 个。其中, 龙头企业 2303 个, 增加 91 个。

2017 年, 全省农业产业化龙头企业实现销售收入 3858.0 亿元, 比上年增长 6.2%。从产业类型看, 销售收入前三位是粮食类、奶类和饲料类龙头企业, 销售收入分别为 602.7 亿元、323.9 亿元和 287.2 亿元。中草药生产(加工)龙头企业发展较快, 销售收入达到 67.1 亿元, 增长 53.7%。

2017 年, 全省农业产业化龙头经营组织固定资产净值达到 1502.0 亿元, 比上年增长 13.8%; 共实现销售收入 4299.4 亿元, 增长 7.0%; 共实现利润 489.0 亿元, 比上年增长 5.0%; 上交税金 98.1 亿元, 增长 8.5%; 从业人员 53.5 万人, 增长 0.3%; 带动农户 1821.9 万户, 增长 10.1%。

2017 年, 全省农业产业化龙头企业固定资产净值达到 1422.0 亿元, 比上年增长 16.5%; 从业人员 42.1 万人, 增长 1.2%; 带动农户 1560.5 万户, 增长 12.2%。

2017 年 B 省农业产业化生产(加工)基地经营状况

	数量 (个)	数量同比增加 (个)	销售产值 (亿元)	产值同比增长 (%)
种植业生产基地	413	16	1772.7	1.8
养殖业生产基地	296	2	1155.0	2.4
农产品加工基地	33	0	688.8	5.1

86. 2016 年 B 省农业产业化龙头经营组织中, 非企业组织有多少个? ()

- A. 135 B. 227 C. 272 D. 317

87. 以下饼图中，能准确反映 2017 年 B 省粮食类（黑色）、奶类（斜线）、饲料类（棋盘）和其他（白色）龙头企业销售收入占该省农业产业化龙头企业总收入的比重关系的是（ ）。



88. 2017 年，B 省农业产业化龙头企业经营组织平均每名从业人员创造的利润约比上年同期增长了（ ）。

- A. 4.7% B. 9.2% C. 13.5% D. 15.1%

89. 2017 年，B 省平均每个农业产业化生产（加工）基地创造的销售产值约为多少亿元？（ ）

- A. 3.9 B. 4.9 C. 8.9 D. 20.9

90. 能够从上述资料中推出的是（ ）。

A. 2017 年，B 省中草药生产（加工）龙头企业销售收入占农业产业化龙头企业的比重比上年提高了 2 个百分点以上

B. 2017 年，B 省农业产业化龙头企业平均每万元固定资产净值实现的销售收入高于上年水平

C. 2017 年，B 省农业产业化龙头企业经营组织从业人员中，在非企业组织就业的比重高于两成

D. 2017 年，B 省平均每家种植业生产基地创造的销售产值高于上年水平

二、根据下列资料，回答 91~95 题。

2016 年，某市总供水量 199342.27 万立方米，同比增加 300.61 万立方米，其中境外引水量 149613.15 万立方米，同比减少 14819.83 万立方米。在全市供水量中，地表水源供水量 187628.67 万立方米，地下水水源供水量 592.00 万立方米，其他水源供水量 11121.60 万立方米（污水处理回用 9236.40 万立方米，雨水利用 1885.20 万立方米）。2016 年该市海水利用量 118.16 亿立方米。

2016 年，全市用水量 199342.27 万立方米。其中：农业用水 8030.20 万立方米，同比减少 153.71 万立方米；城市工业用水 50081.12 万立方米，同比减少 577.61 万立方米；城市居民生活用水 71974.30 万立方米，同比增加 525.86 万立方米；城市公共用水 58065.34 万立方米（建筑业用水 6449.05 万立方米，服务业用水 51616.29 万立方米），同比增加 710.10 万立方米；城市环境用水 11191.31 万立方米，同比减少 204.03 万立方米。

2016 年，全市用水消耗量 49220.15 万立方米，同比增加 320.33 万立方米，综合耗水率 25.34%。其中：农业用水 6279.88 万立方米，城市工业用水 10135.51 万立方米，城市居民生活用水 13976.78 万立方米，城市公共用水 14351.91 万立方米，城市环境用水 4476.07 万立方米。

2016 年，全市废污水排放量 136559.83 万立方米。其中：居民生活污水占 40.94%，第二产业废污水占 29.76%，第三产业废污水占 29.30%。

91. 2016 年，该市境外引水量占总供水量的比重比上年约（ ）。

- A. 增长了 8 个百分点 B. 下降了 8 个百分点
C. 增长了 0.8 个百分点 D. 下降了 0.8 个百分点

92. 2016 年，该市地表水源供水量约是地下水水源供水量的多少倍？（ ）

- A. 317 B. 334 C. 378 D. 393

93. 以下饼图中，能够准确反映 2016 年该市用水量总体结构的是（ ）。



94. 2016 年，以下各项用水中，该市综合耗水率最高的是（ ）。

- A. 城市居民生活用水 B. 城市工业用水
C. 农业用水 D. 城市环境用水

95. 能够从上述资料中推出的是（ ）。

- A. 2016 年，该市城市公共用水量和城市工业用水量之和超过该市总用水量的 60%
B. 2016 年，该市第二产业和第三产业的废水排放量均不超过 4 亿立方米
C. 2016 年，该市各项用水中，城市居民生活用水量同比增速最快
D. 2016 年，城市海水利用量是总供水量的 5 倍多

三、根据下列资料，回答 96~100 题。

2018 年二季度，J 省各项社会服务事业总费用累计支出 933638.1 万元，同比增长 12.71%；一季度累计支出 409206.2 万元，同比增长 5.87%。

J 省 2018 年一、二季度部分社会服务事业费累计支出情况

指标名称	二季度 (万元)	同比 (%)	一季度 (万元)	同比 (%)
1. 抚恤支出	69200.1	-2.41	35077.0	-0.13%
2. 退役安置	381552.3		188093.5	
3. 社会福利	96187.9	423.35	43663.6	444.88
4. 社会救治	229591.9	154.27	81101.4	99.17
(1) 最低生活保障	68264.6		33324.8	
A 城市低保累计支出	45964.6	1.72	22950.8	1.34
I 城市低保金	45214.1	2.48	22533.9	3.83
II 城市低保临时补助	750.5	-29.58	416.9	-55.92
B 农村低保累计支出	22300.0	-3.87	10374.0	0.72
I 农村低保金	22123.7	-3.58	10294.1	1.77
II 农村低保临时补助	176.3	-24.2	79.9	-56.62
(2) 特困人员救助供养支出	6550.6		2807	
A 城市特困人员救助供养支出	1295.8	74.57	508.1	87.49
B 农村特困人员救助供养	5254.8	51.52	2298.9	50.41
(3) 直接医疗救助支出	9965.5	14.06	5313.0	33.9
(4) 临时救助支出	3294.2	285.74	2369.8	1,249.54

96. 下列四类社会服务事业中，2018 年二季度支出小于一季度的是（ ）。

- A. 抚恤支出 B. 退役安置

- C. 社会福利
D. 社会救治
97. 2018 年上半年，农村特困人员救助供养支出约是城市特困人员救助供养支出的（ ）。
- A. 2.9 倍
B. 3.5 倍
C. 4.1 倍
D. 4.9 倍
98. 下列四项中，累计支出同比减少量最多的是（ ）。
- A. 2018 年二季度城市低保临时补助
B. 2018 年一季度城市低保临时补助
C. 2018 年二季度农村低保临时补助
D. 2018 年一季度农村低保临时补助
99. 2018 年一季度，直接医疗救助支出占社会救治支出的比重同比约（ ）。
- A. 下降了 3 个百分点
B. 上升了 3 个百分点
C. 下降了 11 个百分点
D. 上升了 11 个百分点
100. 下列说法与资料相符的是（ ）。
- A. 2018 年二季度，表中四类社会服务事业费用之和占总费用的比重不到 $\frac{2}{3}$
B. 2018 年二季度，农村低保金占农村低保累计支出的比重低于上年同期
C. 2017 年上半年，城市特困人员救助供养支出月均超过 150 万元
D. 2018 年上半年，城市低保累计支出是农村低保累计支出的 2 倍多

2018 年 10 月 27 日浙江省事业单位统考试卷

《综合应用能力》

注意：

1. 本卷为全主观题，请用黑色字迹的钢笔或签字笔在答题纸上作答，直接在试卷上作答无效；
2. 请在试卷、答题纸上严格按照要求填写姓名、填涂准考证号；
3. 本卷总分 100 分，考试时间为 150 分钟；
4. 特别提醒：请在答题纸规定的区域内作答，超出答题区域作答无效。

一、案例分析题（根据所给案例，回答后面的问题。50 分）

案例一

资料 1

李奶奶家住上海市长宁路 1600 弄 24 号 5 楼。这是一幢建于上世纪 90 年代的多层公房，没有电梯。2015 年，李奶奶中风导致半身不遂后，就不再能够独自下楼了。2018 年 5 月，盼望多时的楼栋加装电梯工程竣工，李奶奶心情激动：“又可以常到小区的绿地透气了。”

在上海，像李奶奶家原先这样的无电梯多层住宅约有 22 万栋，其中高层住户超过 100 万户，许多腿脚不便的老人长期处于“悬空”状态，难以下楼。尽管上海市早在 2011 年就出台了鼓励加装电梯的指导意见，并给予部分财政补贴，但由于牵涉居民利益协调、房屋街区规划和立项审批手续等问题，成功的案例相较巨大的需求显得微乎其微。

根据《物权法》的相关规定，小区改建、重建建筑物及其附属设施需征得小区内专有部分占建筑物总面积 2/3 以上的业主且占总人数 2/3 以上的业主同意后方可进行。根据调研情况，虽然国家相关法律法规已做出 2/3 以上的业主同意就可以实施的规定，但在实际操作中，仍然面临部分业主反对就无法实施加装的困境。

目前，市场上安装一部外挂电梯综合费用在数十万元，即使政府为鼓励此项举措提供一定的经费补贴，但相对于不菲的改造费用来说杯水车薪。初装费用、后续的维护费用难以在业主层面达成统一意见。老旧小区多为房改房、售后公房，已缴纳的维修基金或维修资金多用于共用设施设备的维修，加装电梯费用支出大，剩余维修基金或维修资金远远不够支付。

资料 2

在杭州庆春路和浣纱路交叉口交通银行五楼老干部活动室里，定安苑小区的吕大伯已经一个人早早坐定了。当天下午 2 点半，有几个小区的业主代表将跟杭州市危改办探讨老小区加装电梯的问题，主要想讨论一下征集意见过程中，碰到个别业主反对怎么办。吕大伯很认真地在准备会议发言材料，桌上是厚厚一叠关于老小区加装电梯的文件。

吕大伯 74 岁，住在 3 楼，从省里出台相关文件后，就开始想装电梯了，他掰着手指头说着住宅楼的情况。“7 楼一对老夫妻也 70 多岁了，两人身体不太好，下楼实在费劲，有时候我看到了还去帮忙扶一把；6 楼的业主他妈妈身体也不好；5 楼有位老奶奶，91 岁，这么高的楼层也难得上下一趟；4 楼有位 70 多岁的老教授，走楼梯肯定也不方便……”

吕大伯这个单元一共 10 位老人，去年他就牵头找了两户人家，一共三个人为单元楼里加装电梯“跑腿”。联系上电梯公司，对方给他们出了一份初步的图纸，资金分配方案也商量出来了，但在签字公示时遇到了问题，2 楼一户人家在国外没法签字，1 楼的一户人家则一口气提出了 6 点反对意见：1. 在商量方案时没有通知他，不够民主；2. 通风受影响；3. 采光受影响；4. 电梯运行的噪音污染；5. 透明电梯在乘坐中可以看到他家内部的情况，不利于保护隐私；6. 电梯连廊造成了安全隐患，小偷可能顺着连廊钻进家中。“我们反复跟他沟通，但没有用，到现在都不同意，这个事情就推行不下去了。”

吕大伯正说着，中北花园的陈师傅和赵奶奶也来到了会场，陈师傅和赵奶奶是中北花园两个不同单元的业主代表，他们所在的单元也都想装电梯。陈师傅 62 岁，赵奶奶 72 岁，说到原因，两个人异口同声：“走不动啦！”赵奶奶说，早几年，他们单元就有想法装电梯了，只不过一直没有相关文件出台和支持，去年省里的文件出台后，他们也开始行动起来，征求意见、签字……

“光是签字就签了好多次，有人卖房前签了一次，新房东买下房子又签了一次，结果，1 楼和 3 楼就是不同意。1 楼说是影响采光，3 楼是租出去的，没有理由，房东就是不同意。”

陈师傅在边上点点头，他们单元的情况跟赵奶奶所在单元类似。“我们公示是贴出来了，6 月 7 号到 17 号，不过上面 1 楼和 3 楼也是没签字同意，所以也进行不下去了。我们去沟通过，1 楼说要再等等政策，看有没有补助；3 楼说什么也不同意，我们甚至拎着水果、恳求信上门，他最后都不接受，说是不想改变现状。另外，我们边上一个单元 1 楼也不同意，说装了电梯会影响绿化，现在也就只能僵在那里。”

资料 3

早上 8 点，诸暨市暨阳街道大桥社区大桥路 56 号 3 单元门口就热闹起来了。几位工程人员在刚刚启动的土建工程前，探讨着施工方案，楼上的居民则乐呵呵地张望着楼底的动静，憧憬不已。

这是诸暨老小区居民楼正在加装的第 4 部电梯。去年以来，诸暨市建设局已审核通过 5 部电梯的加装申请，其中 2 部电梯已建成投运。预计年底，诸暨将有 40 余户老小区居民能够乘上电梯。不过，也有不顺利的，滨江南路 12 号的一台电梯安装一半后停工数月，差点“烂尾”。滨江南路 12 号楼坐落在浦阳江东面，位于诸暨老城区，一台透明的观光式电梯就安装在路边，十分显眼，来往行人经过，总会忍不住抬头看看老小区里这道别致景观。不过，附近商家透露，这部电梯没有安装好，只是个漂亮的“空壳子”。

这究竟是怎么回事？走近细看，发现电梯果然只安装了一半。居住在这里的杨奶奶介绍，这个单元共 12 户住户，不少住户家中有超过 70 岁的老人。2 年前，诸暨市出台相关政策让他们看到了便利生活的曙光。去年 8 月，得知大家都有同样意愿，住在 5 楼、70 多岁的老钱做起了加装电梯的牵头人。考虑到外包工程难以令人安心，老钱等人商量后决定自购自装，预算费用为 52 万元，每户住户按楼层逐级递增分摊。

就是这个“自购自装”方案，刚开始大家表示认可，后来却出了问题。今年初，老钱身体不适，便

由4楼的周先生负责采购等事宜。火表、横梁等费用都比预算高出许多，工程也因质量问题返工，最终，住户们在52万元基础上还需再补交15万元的费用。

“我们去打听才发现别的小区外包安装只要40万元，我们却要67万元。”杨奶奶说，大家纷纷去找周先生要说法，他只出示了一个账单总额，并表示自己只负责采购，不对电梯工程负责。工程没人统筹，住户对不够阳光透明的账目也表示质疑，电梯加装工程便停滞下来。“去年我们常说，我们要乘上诸暨老小区里的第一台电梯了。可现在，只能看着别人高高兴兴用上电梯。”杨奶奶不无遗憾地说，她住在顶层，2个月前，她的老伴中风瘫痪了，出院那天，是花了200元请人将老伴抬上楼的。看着楼道外半途而废的工程，杨奶奶咬了咬牙，把她家该补的4万元交上了。“事已至此，就当多花点钱少生点气。”杨奶奶说。滨江南路12号的住户郭先生，则苦笑称家门前的“烂尾梯”是个“反面教材”。“如果重来一次，我们不会同意自购自装的方式，不会没有章程规矩地开始加装。现在，既没享受到电梯的好处，还把邻里关系搞僵了。”郭先生说。

资料4

位于福建泉州市区的群星广场小区正在落实加装电梯工程，但原来准备加装电梯的3号楼3梯的工地却冷冷清清，已经停工两三个星期。群星广场小区3号楼共有7层，每层有两户，底层是车库。据该小区业委会张主任介绍，3号楼3梯住着多名老人，3楼还有一位阿姨长期坐轮椅，行动不便。该楼梯的业主通过商议，决定出资加装电梯，目前52万元工程款已经全部到位。张主任说，该项目经过包括公示、三分之二以上业主签名等程序，由主管部门审批通过，并取得许可证后才开建。但是因为一楼准电梯基础两侧的车库业主反对，项目暂停了。车库的业主许女士说，该楼栋其他业主决定加装电梯之前，没有和她沟通，她并不知情。工程开工了，她才知道。她认为，加装电梯会影响到她的车辆进出车库。此外，一旦电梯建起来，她的车库会贬值。因此，许女士等人向市政府申请行政复议。

张主任说，规划部门要求他们暂停施工，等待行政复议结果。某律师事务所律师张律师介绍，老旧小区加装电梯，大部分是要占用楼栋外的公用产地，这就涉及到其他业主的权益。加装电梯，不能影响其他业主的通行、采光、通风等权益。要加装电梯，相关业主应事先协商，无异议后再向主管部门申请报批。

资料5

深圳市福田区共有七栋楼梯房，每栋都是八层，加装电梯的事说了很多年，但目前没有一栋加装了电梯。“前两年就有第四栋的业主说要加装电梯，三楼以上楼层的业主还是比较赞成，一、二楼的业主就普遍不同意。”居住了二十余年的住户王女士告诉记者，今年上半年，小区第一栋的业主也在协商加装电梯事宜，同样因为高低层业主谈不拢，加装电梯的事情就暂时搁置了。

“深圳老旧住宅小区一般建造年代较早，即便三十岁买房，二十多年过去了，现在也都五十多岁了，所以老旧住宅小区住户的年龄普遍偏大。更何况，现在这些老住户都抱上孙子、孙女了，要帮助儿女带小孩。爬楼对于老人、小孩而言，都十分不方便。”王女士表示，“楼梯房高楼层的业主肯定是十分愿意加装电梯的，一是方便老人、小孩上下楼；二是加装了电梯可以给房屋自身带来升值空间。但无奈的是，低楼层业主不同意啊！”

“除了高低层业主谈不拢，很多楼梯房是租客在住也是福田花园无法推进加装电梯事宜的原因之一。”福田花园小区的物业管理公司相关负责人说。对于把房屋用于出租用途的楼梯房高楼层业主而言，

反对加装电梯主要原因是担心增加了加装电梯的费用和维护电梯的费用不能“回本”。楼梯房高楼层业主都知道，加装电梯后，对于高楼层楼梯房而言，无论是出售或是出租都会增值。但具体增值部分不能抵消加装电梯的费用和维护电梯的费用，这些楼梯房高楼层业主并不能确定。

问题：结合资料，分析老小区加装电梯工作存在的困难。（20分。字数不超过300字）

案例二

资料1

2017年4月初，某市计划招聘中小学教师3039名，其中九成为乡村教师。然而报名结束后发现，有523个岗位717人无人报考。8月，该市再次发布招聘公告，复征补充计划招聘458个岗位679人，仅某山区贫困县就需复征补充451人。但截至招聘结束，仅招到188人，其中乡村教师113名。同时，该市乡村教师中，英语、音乐、美术、体育、信息技术等学科教师共1300名，仅占乡村教师总数的7.89%。部分乡村学校由于缺乏相应的学科教师，规定的课程无法开齐开足，影响了乡村学校的教学质量，制约了学生德、智、体、美全面发展，导致城乡教育发展不平衡。由于教师资源匮乏，某乡村小学只能采取压缩班级的形式确保正常开课。“比如本来应该三个班级，现在只能分为两个班，‘大班额’就出来了，这也是无奈之举。”某乡村小学韦校长坦言，“音乐、美术、体育这些课程缺乏相应的专业老师，只能由其他科目的老师代上，对于有音乐、美术天赋的学生来说是不利的。”

据统计，某省目前有乡村教师约14.91万人，乡村教师规模最大，缺口也最大。“基础设施再好，没有老师，教学质量从何谈起？”该省某市教育局一位负责人说，“几年前，一名外省籍大学毕业生考上我市一个少数民族自治县乡村教师岗位，但报到时，该毕业生乘车走到半路，嫌路途遥远，直接就下车折回不去报到了。”这并非个案。近几年来，乡村教师“招而不来”的情况屡见不鲜。“我们每年流出去的老师比较多，优秀的乡村老师通过努力考到县城去，县城优秀教师努力到市里去，有条件的则改行或辞职；特岗教师服务期满后纷纷考取公务员或事业单位。”

资料2

2018年7月，孙同学从某师范学院英语教育专业毕业后，和同学结伴到省城求职，目前在一家服装店做销售员。和孙同学一样，全班48人中，大部分同学选择留在城里，或创业，或打工，不少人至今仍处于待业状态。对于自己的专业“学无所用”，孙同学说：“在城里好歹有个奔头，去乡村后，我不知道自己的未来在哪里。”一位大学生坦言，“很多从农村考出去的大学生，就是奔着城里的生活去的。再回到村里当乡村老师，自己内心过不去，父老乡亲也会有看法。”

某师范学院统计数据显示，2015届师范类毕业生2000人，到县以下基层就业的有374人；2016届师范类毕业生2200人，到基层就业的269人；2017届师范类毕业生1700人，到基层就业的252人。普通师范类专业从事教育行业的比率为56.35%，职教师资类专业从事教育行业的比率为25%，而从事乡村教育工作的不足10%。调查发现，师范类大学生毕业后一部分自主择业或创业，一部分考取公务员或事业单位，而考研深造正成为越来越多师范生的首选。

资料3

“收入待遇，跟打工的都比不了。”谈起乡村教师的待遇，某县教育局黄科长说，“现在无论是外出打工还是在农村搞种养，每年收入几万元到十几万元的都不难。这样一来，乡村教师的心理落差大，

很多人就把工作岗位看淡了，特别是不少年轻教师，说辞职就辞职。”

“一个月两千块钱左右的工资太少！”不少教师表示，相比过去工资虽然涨了，但远远落后于其他行业的工资涨幅及物价上涨水平。某乡村老师说：“同在同县县城教书的教师能拿到 3000 多元，差不多是我工资的一倍。”该老师补充道：“我校部分老师是从县师范毕业后回乡任教，有的同学则留在县城教书。相近的条件，工资差距这么大，心里有些不平衡。”

与收入不高相对的，是繁重的工作压力。乡村教师文老师说，教师不只是上课，还要备课、批改作业、出题……除了教学工作，还有大量的非教学检查，节假日都是在整理资料中度过的。

“一线教师应该全心专注教学，而不宜让他们过多地为教学之外的工作所累。”某民族自治县教育局资助办黄主任认为，除了待遇不高，不少乡村教师也承担了过多的行政工作。“我们有一位新聘老师，入职当天就要去乡政府领三本精准扶贫手册，看到这个阵仗，第二天就离开了。”

据调查，很多地方的乡村教师工资是绩效工资的结构，即由 70% 的基础性绩效工资和 30% 的奖励性绩效工资构成。而 30% 的奖励性绩效工资是从全体教师原先的工资中先行截留，再奖励给有突出贡献的教师，那些没有领足奖励性绩效工资的教师心理不平衡，感觉绩效就是克扣自己应得的收入。同时，不少地方职称评聘不挂钩，造成部分教师职称与工资不能兑现，个别教师工作有负面情绪。特别是一些年龄大的教师，到退休时仍然聘用在低级岗位，致使他们心理不平衡，认为自己辛辛苦苦一辈子，工作勤勤恳恳，却得不到公正的待遇。

资料 4

“农村留守儿童多，家长常年外出务工难以兼顾孩子，乡村教师工作责任重、压力大；加上乡村学校条件艰苦，个别年轻教师难以安心教学。”某乡中心小学徐校长说，在价值观多样化的社会背景下，让年轻人过着清苦生活“潜下心来教书，静下心来育人”已不太现实。

有的乡村教师辛辛苦苦登门家访，却被家长讽刺：“孩子出去打工收入都比你们高，读书有啥用？”“优秀的老师都往外面走了，能力不行的老师才留在小地方。”有的老师对孩子严厉一些，个别家长便不依不饶，甚至到学校大吵大闹。很多家长对乡村学校教学质量不认可，有条件的都尽可能把孩子送到城镇就读，乡村优秀生源流失严重，造成乡村教育恶性循环。

西北某省一乡村小学，2014 年时在校学生 320 多人，那是它在校学生最多的时候，2016 年时也还有 140 人，但 2017 年开始学生人数逐年下降，现在只剩下 22 个了。学生少了，但老师 2016 年至今一直都是 8 人。杨老师一个人带六年级，总共就 5 个学生。因为人少，学生上课时怕说话，交流变少了，不像以前学生多的时候胆子大，一提问就争先恐后地回答。这样一来，老师很难再从教学中获得成就感，学生们读书也没了精神，反正怎么考都是前几名。

“乡村教师评审职称难如登天，因此要着力解决教师的职称问题。”某乡村小学陈校长呼吁，应切实提高教师待遇，提升教师地位，减轻教师的非教学负担，真正让乡村教师安心教学，而不是终日想着另谋“出路”。

问题：根据资料，指出我国乡村教师队伍建设中存在的问题，并提出解决思路。（30 分。字数不超过 500 字）

二、作文题（阅读以下材料，然后按后面的要求作答。50分）

朱元璋某日问诸臣：天下谁人最快活？有人说功高盖世者，有人说位居显赫者，有人说金榜题名者，还有人说富甲一方者……朱元璋听后皆不满意。大臣万钢答道：畏法度者最快活。此言一出，朱元璋大悦，称赞其见解独到。自由快乐之人，必是敬畏法度之人；敬畏法度之人，多是严以自律之人。

结合以上材料，联系实际，以“自律与自由”为话题，自选角度，自拟题目，写一篇议论文。要求中心明确，内容充实，论述深刻，有说服力。字数1000字左右。

2018年5月12日浙江省事业单位统考试卷

《职业能力倾向测验》

说 明

这项测验共有五个部分，100道题，总分100分。时限90分钟。各部分不分别计时，但都给出了参考时限，供你参考以分配时间。

第一部分 言语理解与表达

(共25题，参考时限20分钟)

本部分主要考查考生对语言文字的理解和驾驭能力。这种能力包括：对词、句子、短文一般意思和特定意义的理解；对比较复杂的概念和观点的准确理解；根据上下文，合理推断句子隐含的内容，准确地辨明句义，筛选信息等等。

请开始答题：

1. 中国的问题不是过度金融化而是金融深化不够，不是金融产品太多而是有着优质底层资产和稳定回报的金融产品太少，因此我们不能_____，在阶段性抑制金融泡沫、倒逼金融去杠杆后，还应鼓励金融产品和金融市场创新，在发展中解决问题。

填入划横线部分最恰当的一项是（ ）。

- A. 固步自封 B. 因噎废食 C. 优柔寡断 D. 战战兢兢

2. 世界经济的每一次重大转型，都与能源变革_____。近年来，以风力和太阳能发电为主的新能源发展势头强劲，以化石能源为主的能源开发利用方式面临挑战，一场历史性的能源变革正在全球范围内_____。与人类历史上的前两次能源变革不同，中国有能力成为这轮能源革命的主要推动者。

填入划横线部分最恰当的一项是（ ）。

- A. 交相辉映 爆发 B. 并驾齐驱 传播
C. 息息相关 孕育 D. 若即若离 蔓延

3. _____，人工智能发展日新月异，自诞生以来，其理论和技术日益成熟，应用领域也不断扩大。可以设想，未来人工智能带来的科技产品，将会是人类智慧的容器。人工智能可以对人的意识、思维信息过程进行模拟，它在精密计算和逻辑推理上的能力和潜力远超人类，但一旦进入人文艺术领域，人工智能就显得_____了。

填入划横线部分最恰当的一项是（ ）。

- A. 不言而喻 捉襟见肘 B. 毋庸置疑 鞭长莫及
C. 曾几何时 力有未逮 D. 毫无疑问 不孚众望

4. 对于一些分布范围已经非常狭窄的海洋动物来说，环境的剧变或许会让灭绝在瞬间到来。它所拥

有的遗传密码会永久灭失，只留下一个_____的拉丁文学名供后人凭吊；甚至，受制于今天极为有限的探测手段，有些物种或许来不及被人类认识就已经_____，而它们的缺位会带给海洋生态怎样深远的影响，也将成为永久的谜团。

填入划横线部分最恰当的一项是（ ）。

- A. 昙花一现 杳无音信 B. 吉光片羽 灰飞烟灭
C. 茕茕孑立 无影无踪 D. 佶屈聱牙 销声匿迹

5. 各个领域的中国产品，质量正在不断升级，从深圳华强北“山寨王国”_____为创客孵化中心、高端制造中心，到中关村传统电子卖场化身科技创新、金融服务写字楼，这些力量_____到一起，必定能让自主创新成为中国制造的新主流。

填入划横线部分最恰当的一项是（ ）。

- A. 转型 集结 B. 涅槃 汇集 C. 改造 聚拢 D. 拓展 融合

6. “一带一路”倡议的重点省份应发掘自身独特的文化资源，_____自身的地缘优势，在开放包容、互利互惠的框架下，对“一带一路”近邻的文化需求进行研究，根据不同情况_____文化合作政策。

填入划横线部分最恰当的一项是（ ）。

- A. 借助 完善 B. 发挥 商讨 C. 利用 制定 D. 挖掘 研究

7. 自动驾驶、智能汽车的出现，让原本在汽车领域并不_____的互联网企业，有了更多的用武之地。阿里、百度和腾讯，甚至京东，都已经全部入场，在汽车产业变革的赛道上，再一次_____。

填入划横线部分最恰当的一项是（ ）。

- A. 擅长 不期而遇 B. 领先 兵戎相见
C. 活跃 狭路相逢 D. 积极 跃跃欲试

8. 虎鲸是当之无愧的顶级猎手，它们的猎物是所有鲸豚中最_____的，包括各种鱼类、头足类、鳍脚类、鲸豚类、海龟甚至还包括海鸟，它们几乎能够猎杀一切。但它们的食谱会因种群和生活海域不同而有差异，每个种群都有着自己_____的食物结构，而且会遗传给下一代。

填入划横线部分最恰当的一项是（ ）。

- A. 广泛 稳固 B. 多样 固定 C. 全面 独特 D. 丰富 稳定

9. 护照带来的尴尬折射出了一个重要的问题：我们还不知道该怎么_____电子世界和现实世界。虽然护照里已经出现了电子元素，但属于实体的部分依然_____。也许我们还需要很长一段时间才能彻底摆脱实体的身份证明。

填入划横线部分最恰当的一项是（ ）。

- A. 连接 挥之不去 B. 结合 举足轻重
C. 对接 不可或缺 D. 协调 必不可少

10. 黑洞最大的特点，顾名思义，就是黑，（如果不考虑量子效应）我们是无法看到黑洞的。除去黑洞的“三根毛”，即质量、角动量和电荷，黑洞_____了其他一切物质的信息，只是纯粹引力的一种具现。_____，在大部分情况下，双黑洞的合并是不会有电磁波辐射的。

填入划横线部分最恰当的一项是（ ）。

- A. 淹没 当然 B. 掩盖 但是 C. 吞噬 而且 D. 摧毁 因而

11. 在过去的官场文化中，不乏有将官员的粗话、霸气之言当个性的传统。这其实是“人治”政治的某种历史遗留，与现代政治_____。不少事件中爆粗口的官员都因舆论压力而被追责，但终究未能有效阻止后来者_____。这说明，对待官员的“言语”问题，不能仅就个案予以纠偏。从制度上实现对权力的有效驯服，才是根治各种官员粗话、脏话和暴脾气的根本之途。

填入划横线部分最恰当的一项是（ ）。

- A. 格格不入 重蹈覆辙 B. 南辕北辙 左顾右盼
C. 背道而驰 前赴后继 D. 水火不容 望而却步

12. 网瘾并非互联网本身具有的缺陷，一方面是由于孩子本身的心理问题，另一方面，是父母在家庭教育上的失策和缺位。也就是说，正是由于心理上的_____，才导致孩子沉溺于网络。而有的父母把孩子送到戒除网瘾的学校，与其说是为了孩子好，不如说是在_____家庭教育的责任或是寻求自我的心理安慰，这更是错上加错，不仅无益于网瘾的戒除，还可能让孩子产生更强烈的遗弃感，加剧孩子的逆反心理。

填入划横线部分最恰当的一项是（ ）。

- A. 无所适从 放弃 B. 彷徨无助 推诿
C. 孤立无援 推卸 D. 两面夹击 逃避

13. ①因此乡村振兴需要一些人异地安置，需要每年都有一定的人口数量转移到城镇实现就业
②数量极为庞大的小农人口在现代的生产结构中很难走到现代化，分布在偏僻贫瘠之地的人口更是如此

③这就涉及农民和农业深刻转型的问题

④乡村振兴，不能仍然是传统的农业社会，或者说不是为了维持传统的农业社会

⑤当然，它也需要农村、农业成为一个有吸引力的社会空间和产业结构

⑥那种思路是不可能实现这一战略目标的

将上述 6 个句子重新排列，语序正确的是（ ）。

- A. ②⑤④①③⑥ B. ②⑥④⑤③①
C. ④③②⑥⑤① D. ④⑥②①⑤③

14. ①充电时，水被电解并产生质子储存在电池的碳极；使用时，质子被释放并与空气中的氧气反应产生水

②最近，研究人员开发出了首款可充电的质子燃料电池，有望成为锂电池的替代选择

③随着清洁能源技术的发展，人们对储能电池的需求越来越大

④目前，锂电池是使用最为广泛的一种储能电池

⑤实验表明，在仅有 5.5 平方厘米有效反应面积的情况下，质子电池的单位质量储能能力已与现有的商业锂电池接近

⑥但锂电池的使用也面临着一些限制，比如电池密度低，无法满足大型清洁能源电厂的储能要求

将上述 6 个句子重新排列，语序正确的是（ ）。

- A. ②⑤④①⑥③ B. ③④⑥②①⑤
C. ④②③⑤①⑥ D. ⑤④①⑥③②

15. 鉴于制造业重心的转移多由跨国公司主导，且相关经济利益均由发达国家获取，因此，发达国家应该更多承担这部分额外排放的减排责任，通过技术转移、扩大在发展中国家的低碳技术研发和应用投资等手段，使得从事制造业生产特别是低端制造业生产的发展中国家能够应用更高效能、更低碳的生产技术，以减缓温室气体排放增速，控制气候变暖效应，实现全球可持续发展。

这段文字意在说明（ ）。

- A. 跨国公司是产业转移的幕后推手
- B. 发达国家应当承担主要的减排责任
- C. 发展中国家迫切需要技术援助
- D. 可持续发展应当成为全世界的共同选择

16. 新中国成立后的很长时间内，海军建设的策略是空、潜、快，有远洋行动能力的主要就是潜艇，水面舰艇的战斗力的基本局限在近海。即便是 2009 年第四次海上阅兵，仍然没有航母，没有强大区域防空能力的驱护舰，能够进行远海活动且有一定战力的舰艇很少。如今，局面已发生了显著变化，中国的航母战斗群，052D 导弹驱逐舰、054A 护卫舰、空中编队等已经形成规模、形成体系，中国真正做到了可以在远洋有所作为，开启了“蓝水海军”时代。

这段文字意在强调（ ）。

- A. 应将近海远洋同步发展作为海军的建设重点
- B. 海军正在逐渐壮大全新的远洋作战能力
- C. 近年来海军体系化建设取得令人瞩目的成就
- D. 基于航母的集群作战是海军远洋作战的基础

17. 这些年来，“礼让斑马线”里的一个“礼”字，活生生把法律义务降格成了道德责任。好像在斑马线面前，机动车踩不踩刹车都是很自由的事情。殊不知，斑马线前减速慢行并非高级的道德责任，而是基本的法律义务。根据《道路交通安全法》，机动车行经斑马线时应当减速行驶，遇行人正在通行时应当停车让行。驾照考了，常识学了，有时候在斑马线面前，却成了“谁牛谁先过”。

下列说法不符合作者本意的是（ ）。

- A. “礼让斑马线”的说法容易让人产生误解
- B. 斑马线让行是法律义务而不仅仅是道德责任
- C. 每个机动车司机遇到行人过马路都应让行
- D. 斑马线让行的实际执行情况还不容乐观

18. 在早期互联网阶段，只要有一根网线，无论大城市里的白领还是山村里的孩童，都能在网上浏览需要的信息，唯一的区别是接受信息的能力和搜索信息的手段。而随着网络社群的分化和信息的深度化，人们已经不会再对浅层的、免费的网络信息动心，只有那些隐藏在表象之下的信息，才是更有价值的。因此，网络上的知识付费和信息共享，这两种模式在未来都会长期存在，而且相互交融，或许只有时间能逐渐抹平信息鸿沟制造的差异，让更多人享受到信息革命带来的福利。

这段文字意在说明（ ）。

- A. 信息革命需兼顾不同阶层人群的需求
- B. 互联网时代信息鸿沟不可避免且将长期存在

- C. 网络资源的丰富提高了人们对信息质量的要求
- D. 网络技术的革新拉大了不同人群间的信息鸿沟

19. 科学研究表明，从简单的生命形式进化到人类的道路绝不是一条坦途，人类是一系列生物学上偶发因素的产物。纵观宇宙，我们也没有理由自诩为空前绝后或最理想的生物。我们所在的银河系包含的恒星约 2000 亿至 4000 亿颗，其中与太阳极其相似的恒星至少有 14 亿到 24 亿颗。生命既然可以“偶发”于地球，那么也非常有可能“偶发”于银河系至少上万颗行星中。

这段文字意在说明（ ）。

- A. 人类的诞生充满了偶然性
- B. 人类相比其他物种而言没有实质性差别
- C. 银河系存在着数量众多的类地行星
- D. 宇宙中存在地外生命的可能性非常大

20. 要是月饼安全出了问题，流通环节也要负连带责任——新修订的《食品安全法》特别规定了在流通中各个环节参与者的民事连带责任。因此，无论是商场、酒楼，还是西饼店，月饼销售者都要绷紧安全这根弦。坚持不销售无厂名、无厂址、无保质期和来源不明的月饼，不以裸装、散装和篡改保质期等方式经营超过保质期的月饼，更不要对月饼进行夸大宣传、虚假宣传。

这段文字意在强调（ ）。

- A. 《食品安全法》加强了食品流通环节的有关法律责任
- B. 月饼流通环节的各方主体应当重视食品安全问题
- C. 月饼行业存在诸多销售乱象不利于市场发展
- D. 消费者在购买月饼时要学会辨别真伪理性消费

21. 在上一次冰期，牛奶对成年人来说基本上是一种毒物。与孩子不同，成年人不能产生分解乳糖所必需的乳糖酶。但在大约 1.1 万年前，随着农业开始取代中东地区的狩猎采集，养殖奶牛的人们懂得了怎样通过发酵牛奶制作奶酪和酸奶，从而把奶制品中的乳糖含量降到可耐受程度。又过了好几千年，一种基因变异在欧洲传播开，它给予了人们产生乳糖酶的能力，人们由此_____。

填入划线处最合适的是（ ）。

- A. 可以一生喝牛奶
- B. 进入了西方文明时代
- C. 发生了体格上的巨大变化
- D. 把牛奶作为重要的食物

22. 对于一个发育中的西瓜来说，种子是吸引糖分积累的原始动机，胎座里丰富的输导组织是将糖分运进西瓜的通道，正所谓_____，这就不难理解为什么胎座及附近组织糖分最多了。

填入划线处最合适的是（ ）。

- A. “近朱者赤，近墨者黑”
- B. “近水楼台先得月”
- C. “种瓜得瓜，种豆得豆”
- D. “顺藤摸瓜，顺水求源”

23. 1985 年“百万大裁军”对应的时代背景，是改革开放初期的中国经济基础还比较薄弱，不足以供养一支规模巨大、功能单一的常规型武装；而本次军改启动之际，中国经济的崛起已经使国家的各项利益延伸和扩展到了全世界，这反过来要求我们提升解放军的战斗力，以保障和平崛起的成果。在经济发展迅速的情况下，假如国防能力的提升不能跟上，假如军队改革继续滞后，一时的经济繁荣也将是脆弱的。

这段文字意在强调（ ）。

- A. 两次军队改革是不同的经济形势推动的结果
- B. 着力加强军队战斗力是军队改革的主要目标
- C. 新时代背景对建立强有力的军队提出新要求
- D. 提升国防能力是保护和发展经济成果的保障

24. 比如，战后百废待兴，社会对蓝领工人、白领工人、技术员、经济学家等有很现实的强大需求，这让奇幻题材几无容身之地——家长们倾向于按照经济社会需求的角色模版来塑造、教育自己的孩子，文学界也乐于提供这样的题材故事。以中国为例，政府现在特别鼓励科幻小说，包括电影也放开了对科幻题材的限制，背后的原因是政府发现中国现在太缺乏杰出的原创性人才，而鼓励科幻会有助于想象力和创造力。

这段文字的主要意思是（ ）。

- A. 文学在很大程度上受经济的牵制
- B. 奇幻题材不适应现实的需求
- C. 文学题材总是迎合大众的偏好
- D. 作家不应该受流派和题材的限制

25. 世贸组织代表的多边贸易体制和自由贸易区代表的区域贸易安排，是驱动经济全球化发展的两个“轮子”。世贸组织有 160 多个成员，涵盖全球 98% 的贸易额，具有广泛代表性。世贸组织规则是经济全球化的重要制度保障，符合世界各国的共同利益。进入新世纪以来，多边贸易体制发展进程受阻，开放水平更高、灵活性更强的区域贸易安排蓬勃发展，成为驱动经济全球化的主引擎。要积极参与全球治理体系改革和建设，支持多边贸易体制，促进自由贸易区建设，推动建设开放型世界经济。这_____。

填入划线处最合适的是（ ）。

- A. 是做开放型世界经济的建设者和贡献者的必然要求
- B. 既是拓展自身开放空间的需要，也体现了维护国际经济秩序的责任担当
- C. 体现了一个经济大国的应有勇气
- D. 将促进我国经济和世界经济交流的频率和力度

第二部分 数量关系

(共25题，参考时限25分钟)

本部分包括两种类型的试题：

一、数字推理：共 10 题。

1. 给你一个数列，但其中缺少一项，要求你仔细观察数列的排列规律，然后从四个选项中选出你认为最合理的一项来填补空缺项。

请开始答题：

26. 16 23 34 40 52 57 () 74

- A. 62
- B. 65
- C. 70
- D. 72

27. 12 13 25 50 88 163 ()

- A. 251
- B. 301
- C. 326
- D. 329

28. 342 215 124 63 26 ()

- A. 7 B. 8 C. 9 D. 10

29. 38 16 30 1 29.5 ()

- A. 14.75 B. 13.75 C. -13.75 D. -14.75

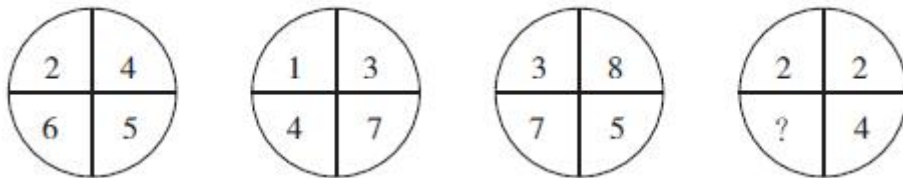
30. 82 73 64 54 44 33 22 () -2

- A. 10 B. 11 C. 12 D. 13

2. 每个图形中的数字都包含一定的规律，请总结前三个图形中数字的规律，从四个选项中选出你认为问号应该代表的数字。

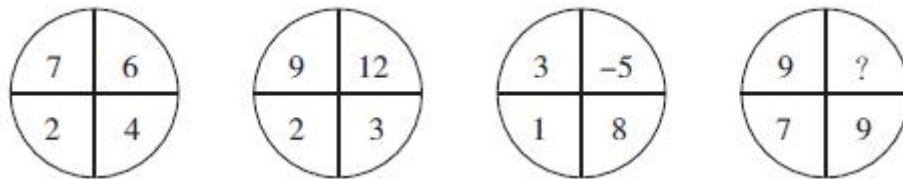
请开始答题：

31.



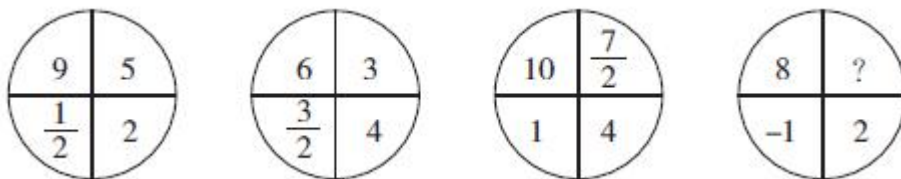
- A. 3 B. 4 C. 5 D. 6

32.



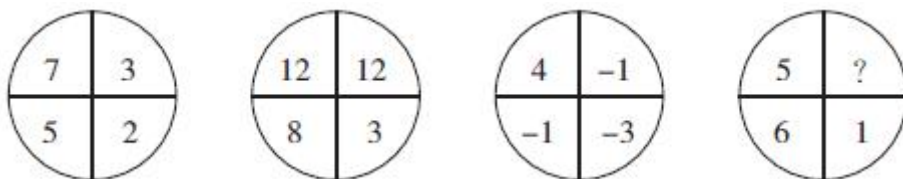
- A. 0 B. 1 C. 2 D. 3

33.



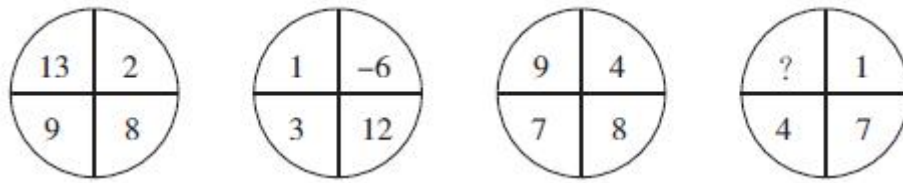
- A. 3 B. 4 C. 5 D. 6

34.



- A. 0 B. 1 C. 2 D. 3

35.



- A. 7 B. 9 C. 11 D. 13

二、数学运算：共 15 题。每道试题呈现一道算术式，或表述数字关系的一段文字，要求你迅速、准确地计算或论证出答案。

请开始答题：

36. 小张和小马分别从甲、乙两地同时出发，相向而行，出发时他们的速度之比是 5:3，第一次相遇后，小张的速度提高了 20%，小马的速度提高了 50%。这样，当小张到达乙地时，小马离甲地还有 11 千米。那么甲、乙两地的距离是多少？（ ）

- A. 20 千米 B. 24 千米 C. 32 千米 D. 40 千米

37. 哥哥现在的年龄是妹妹当年年龄的 4 倍，哥哥当年的年龄是妹妹现在年龄的 1.5 倍，现在哥哥与妹妹的年龄和为 30 岁，则哥哥现在的年龄是多少岁？（ ）

- A. 18 B. 20 C. 22 D. 24

38. 某工地现有一定存量的砖，且每天供应量相等。若每天消耗 27 万块砖，则 6 天全部用完；若每天消耗 24 万块，则 9 天全部用完。若每天消耗 20 万块，问工地上的砖可以用多少天？（ ）

- A. 12 B. 15 C. 24 D. 27

39. 某职工餐厅有主食 3 种、热菜 4 种、凉菜 3 种，若每个职工均打 1 种主食、1 种热菜和 1 种凉菜，问至少有多少个职工在餐厅用餐，就会有 2 人的用餐组合是一样的？（ ）

- A. 36 B. 37 C. 72 D. 73

40. 某市政协组织 9 名政协委员调研农民工子弟小学教学情况。调研结束合影前有 3 名委员因紧急工作已经离开，学校决定安排 3 名小学生代表与委员一起坐在前排。现要求每位小学生的两边都坐着政协委员，一共有（ ）种不同的方式。

- A. 7200 B. 29600 C. 43200 D. 362880

41. 某单位举办知识竞赛，题目涉及文化、历史、社会、地理、自然、科技、经济、医学、艺术、体育等 10 个领域，每位选手将从这 10 个领域中随机抽取 7 个领域回答。问选手抽到的题中既没有自然题又没有艺术题的概率是多少？（ ）

- A. $\frac{1}{10}$ B. $\frac{1}{15}$ C. $\frac{1}{20}$ D. $\frac{1}{25}$

42. 商场以 120 元/套的价格购进了 N 套某款服装，又以 135 元/套的价格购进了 2N 套，商场以定价售完 1.5N 套后，以定价的七折又销售了 N 套，最后以定价四折售完剩余所有服装，利润总计为 330N 元，问最初定价是多少元？（ ）

- A. 200 B. 240 C. 280 D. 300

43. 甲、乙两人在 400 米的环形跑道上同时从 A 点出发逆时针方向跑步，同时丙从 A 点出发顺时针方向散步，丙第一次遇到甲后又用时 20 秒遇到乙，再过 100 秒后第二次遇到乙。假设甲、乙、丙均匀

速前进，且丙的速度是甲、乙速度之差的 $\frac{1}{2}$ ，问丙的速度是多少？（ ）

- A. 0.5 米/秒 B. 0.8 米/秒 C. 1.0 米/秒 D. 1.2 米/秒

44. 某单位有男员工 15 人，女员工 10 人，周一到周日每天晚上安排一名男员工值班，15 人轮流；周六、周日白天每天安排一名女员工值班，10 人轮流。A 男和 B 女恰好分别安排在 7 月 5 日值班，若不考虑调休，则下一次两人被安排在同一天值班是（ ）。

- A. 9 月 15 日 B. 10 月 18 日 C. 11 月 21 日 D. 12 月 2 日

45. 某公司生产了两个级别的同一种产品，一级品比二级品每个贵 200 元，3 个一级品和 4 个二级品的价格相等。问 9600 元可以买多少个二级品？（ ）

- A. 12 B. 16 C. 20 D. 24

46. 某放映厅有 80 名观众观看电影，已知有 5 名未成年人，观众中年龄最大的 69 岁，问至少有多少名观众有同龄人？（ ）

- A. 23 B. 24 C. 25 D. 26

47. 老王的年龄比小李的 2 倍多 6 岁，老王 20 年前的年龄和小李 9 年后的年龄相等。问老王多少岁？（ ）

- A. 52 B. 53 C. 54 D. 55

48. 商店以每双 15 元的价格购进一批拖鞋，售价为 18 元，卖到还剩 8 双时，除去购进这批拖鞋的全部成本外还获利 120 元。问商店共购进拖鞋多少双？（ ）

- A. 80 B. 86 C. 88 D. 90

49. 甲、乙二人同时从 A 地出发去 B 地，甲每分钟走 270 米，乙每分钟走 90 米。甲到达 B 地后立即返回 A 地，在离 B 地 4.8 千米处与乙相遇。A、B 两地的距离是多少千米？（ ）

- A. 5.6 B. 6.8 C. 7.2 D. 9.6

50. 用 0、2、5、6、7 五个数字组成没有重复数字的三位数，其中偶数的数量比奇数多多少个？（ ）

- A. 12 B. 14 C. 16 D. 18

第三部分 判断推理

（共 20 题，参考时限 20 分钟）

本部分包括三种类型的试题：

一、类比推理：共 8 题。先给出一对相关的词，要求你在备选答案中找出一对与之在逻辑关系上最贴近或相似的词。

请开始答题：

51. 西游记：小说：牛魔王

A. 新闻稿：文体：正文

B. 安魂曲：乐曲：莫扎特

C. 雷雨：戏剧：周朴园

D. 最后的晚餐：绘画：耶路撒冷

52. 眼镜：看书

- A. 计算器：加法
- C. 地图：上班
- 53. 购物：超市：商场
- A. 运动：室内：户外
- C. 订餐：食堂：饭店
- 54. 化险为夷：善始善终
- A. 翻山越岭：志同道合
- C. 颠倒是非：无足轻重
- 55. 路：公路：心路
- A. 机：机械：机敏
- C. 土：泥土：领土
- 56. 桃花：花蕊
- A. 骏马：鬃毛
- C. 长城：城砖
- 57. 流水：流水线
- A. 风向：风向标
- C. 墙头：墙头草
- 58. 阻燃剂：灭火器
- A. 抽油烟机：洗洁精
- C. 防火墙：杀毒软件
- B. 扶手：下楼
- D. 窗户：保温
- B. 材料：纸质版：电子版
- D. 驾车：高速路：步行街
- B. 高瞻远瞩：左顾右盼
- D. 舍近求远：弄假成真
- B. 水：河水：风水
- D. 菜：蔬菜：小菜
- B. 吉他：琴弦
- D. 轿车：钢铁
- B. 车轮：车轮战
- D. 里程：里程碑
- B. 吸尘器：防尘布
- D. 肥皂：洗衣粉

二、逻辑判断：共 7 题。每题给出一段陈述，这段陈述被假设是正确的，不容置疑的。要求你根据这段陈述，选择一个答案。注意，正确的答案应与所给的陈述相符合，不需要任何附加说明即可以从陈述中直接推出。

请开始答题：

59. 科学家认为，在全球气候变暖的趋势下，随着空气和海水温度的上升，帝企鹅生活的海冰将会逐渐融化，虽然帝企鹅可能会迁移到新的适宜居住的地方，但不能确定它们能否及时适应新栖息地环境的改变，因而帝企鹅数量减少的趋势是难以避免的。

以下哪项如果为真，最能支持上述论证？（ ）

- A. 帝企鹅的迁移可能会影响新栖息地其他物种的生存
- B. 海冰是乌贼、鱼类和磷虾等帝企鹅主要食物的躲藏处
- C. 有研究表明海冰融化已导致地球上 19 种企鹅面临灭绝危险
- D. 因为冬季敌害相对较少，帝企鹅常在严寒的冬季才能繁殖后代

60. 青少年沉迷于智能手机，正在损害他们的精神健康。智能手机便利的虚拟社交可能阻碍甚至替代青少年现实生活中的面对面互动等健康行为，沉迷智能手机的青少年容易导致缺乏同情心，甚至失去建立正常人际关系的能力。因此，人们担心沉迷智能手机的社交媒体会让青少年在现实中更加孤立。

以下哪项为真，最能削弱人们的担心？（ ）

- A. 人们也可以通过社交媒体及时了解周围发生的新鲜事
- B. 一些本来就不擅长沟通的人在现实中直接互动更有压力
- C. 随着沟通平台越来越可视化，虚拟社交会让人更有真实感
- D. 青少年在手机媒体上联系的主要就是那些他们面对面互动的人

61. 国外某研究团体通过对 27 个国家超过 73000 人进行采访发现，成长在藏书 500 本左右的家庭里的孩子，会比没有藏书的类似家庭里的孩子平均多受 3.2 年的教育，而且这些孩子完成大学学业的可能性要比家中无藏书的孩子多出 19 个百分点。这种效应的强度因国而异，在中国，这个数字则为 6.6 年，差不多是平均数据的 2 倍。因此，家庭的藏书丰富有助于孩子的学业进步。

以下哪项如果为真，最能支持这一结论？（ ）

- A. 研究发现藏书少的家庭的孩子在艺术、体育等方面更为出色
- B. 那些爱去图书馆读书的孩子往往知识面很广，而且更能自觉学习
- C. 长期浸染于藏书读书家庭氛围的孩子入学后对学习往往更有兴趣
- D. 在父母受教育程度不高的家庭，家中藏书多少对孩子影响更明显

62. 研究发现，中年之后开始学习演奏乐器，可以在很短时间内就令听力显著改善。此外，聆听和演奏乐曲需要调动多个大脑系统协作，这也有助于帮助因衰老和疾病受损的大脑恢复和保持功能。因此，学习演奏乐器可以预防衰老。

以下哪项如果为真，最能支持这一论证？（ ）

- A. 诺贝尔奖获得者中有相当一部分人同时也是音乐家
- B. 演奏乐器的乐趣和克服困难的学习经历让人更有成就感
- C. 很多少年时学会一门乐器的人年老之后仍然思维反应敏捷
- D. 练习合奏时，为使演奏合拍，需要与其他人多交流和互相理解

63. 研究者利用美国自然历史博物馆收藏的化石，测量了 63 种已经灭绝的鲸头骨（可作为衡量鲸体型大小的指标），他们将测量结果和现存的鲸进行了分析对比，结果表明，鲸的体长随机变化了约 3000 万年，随后在距今 450 万年到几十万年前的一段时间里，一跃增加到 10 米以上。这段时间跨越了上新世和更新世时期。他们据此认为，鲸的体型是在上新世——更新世开始变大的。

以下哪项如果为真，最能削弱研究者的观点？（ ）

- A. 鲸的头骨大小并不是衡量鲸体型大小最主要的指标
- B. 研究涉及的 3000 万年中鲸的体长也曾经稳定增长过一段时间
- C. 关于上新世-更新世的鲸的化石记录文献极其缺乏，无法佐证
- D. 鲸体型增长是为了对抗巨齿鲨，而后者在约 700 万年前就已存在

64. 某班级数学期末考试中，参加过某课外辅导班的学生成绩要明显优于没有参加该课外辅导班的学生，所以该数学课外辅导班的效果非常好。

以下哪项如果为真，最能削弱上述论述？（ ）

- A. 该班级没有参加该数学课外辅导班的同学有的参加了其他的辅导班
- B. 该数学课外辅导班的教师都经过专业训练

- C. 该数学课外辅导班的教学理念比较先进
- D. 该数学课外辅导班只招收成绩非常优秀的学生

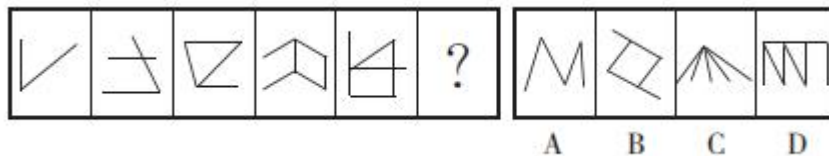
65. 某长途汽车对乘客免费提供三餐，这实际上是吸引乘客的一种经营策略，并没有实际让利，因为当某天的乘客满员率超过 95%时，就免费提供两餐，而即使在春运期间乘客满员率也很少超过 95%。有座位空着，何不通过免费提供三餐进行促销呢？

- 以下哪项如果为真，最能削弱上述论述？（ ）
- A. 该长途汽车在免费提供三餐的同时，繁忙季节调高票价
 - B. 该长途汽车全年的平均满员率为 60%
 - C. 绝大多数乘客并不是因为免费提供三餐才选择乘坐该长途汽车
 - D. 乘坐该长途汽车的乘客相对较固定

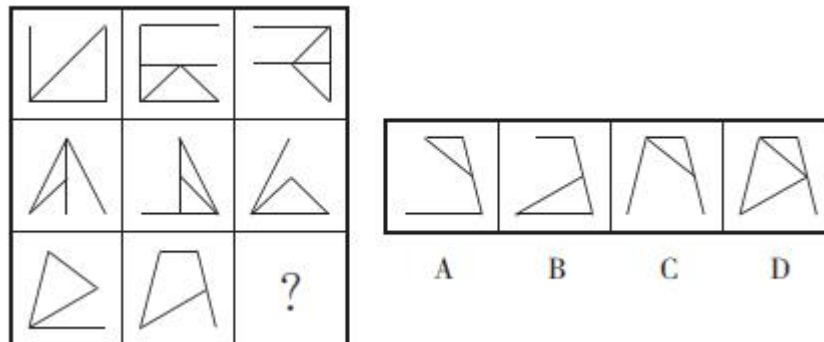
三、图形推理：共 5 题。请按每道题的答题要求作答。

请开始答题：

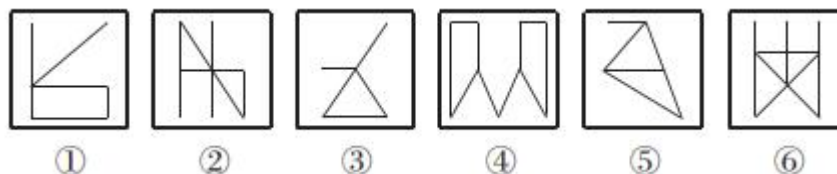
66. 从所给的四个选项中，选择最合适的一个填入问号处，使之呈现一定的规律性。



67. 从所给的四个选项中，选择最合适的一个填入问号处，使之呈现一定的规律性。

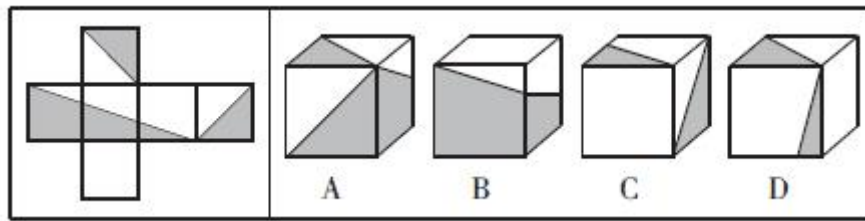


68. 把下面的六个图形分为两类，使每一类图形都有各自的共同特征或规律，分类正确的一项是（ ）。

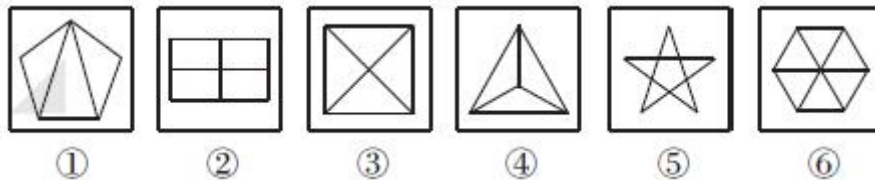


- A. ①②③，④⑤⑥
- B. ①②⑤，③④⑥
- C. ①③④，②⑤⑥
- D. ①③⑥，②④⑤

69. 左边给定的是纸盒的外表面，下列哪一项能由它折叠而成？（ ）。



70. 将以下哪两个图交换位置后，所形成的图形序列呈现出一定的规律性？（ ）。



- A. ①与② B. ②与③ C. ③与④ D. ④与⑤

第四部分 常识判断

(共 15 题，参考时限 10 分钟)

根据题目要求，在四个选项中选出一个最恰当的答案。

请开始答题：

71. 下列现象能证明地球是一个球体的是（ ）。

- ①日月的东升西落
- ②陆地上旅行的人，往北走，一些星星会在南方的地平线上消失
- ③人爬山时，爬得越高，看到的地平面越大
- ④一直向同一方向航行的船最终回到原地

- A. ①②③④ B. ②③④ C. ①④ D. ③④

72. 下列关于地震的说法，正确的是（ ）。

- A. 世界上大部分地震属于坍塌地震
- B. 震中是地震的发源地
- C. 地震前地下水会发生异常
- D. 地震和火山的分布特点不同

73. 下列诗句反映了分子处于不停的运动中的是（ ）。

- A. 野火烧不尽，春风吹又生
- B. 白毛浮绿水，红掌拨清波
- C. 举杯邀明月，对影成三人
- D. 遥知不是雪，为有暗香来

74. 下列诗句描绘的自然景象属于凝固现象的是（ ）。

- A. 雪消门外千山绿，花发江边二月晴
- B. 秋荷一滴露，清夜坠玄天
- C. 瀚海阑干百丈冰，愁云惨淡万里凝
- D. 停车坐爱枫林晚，霜叶红于二月花

75. 关于纯碱，下列说法不正确的是（ ）。

- A. 生活中俗称为苏打、石碱
- B. 常温下为黄色粉末或颗粒
- C. 是侯氏制碱法的主要产品之一
- D. 具有一定的腐蚀性和刺激性

76. 下列与我国商业保险有关的说法不正确的是（ ）。
- A. 意外伤害险属于人寿保险的一种
 - B. 交强险是首个法律规定实行的强制保险制度
 - C. 社会医疗保险和商业医疗保险的保险对象不同
 - D. 农业保险是国家委托商业保险公司代办的政策性保险
77. 下列与汉字有关的说法不正确的是（ ）。
- A. 《康熙字典》是按照部首排列法分类的汉字辞书
 - B. 《说文解字》原文以楷书书写，逐字解释字体来源
 - C. 隶书的产生直接影响了汉字的构造，是古今汉字的分水岭
 - D. “以事为名，取譬相成，江河是也”指六书中的形声造字法
78. 下列成语与古代乐器无关的是（ ）。
- A. 吹角连营
 - B. 罄竹难书
 - C. 巧舌如簧
 - D. 钟鸣鼎食
79. 下列不属于中国古代地理名著的是（ ）。
- A. 《山海经》
 - B. 《水经注》
 - C. 《梦溪笔谈》
 - D. 《大唐西域记》
80. 以下哪项不是秦统一全国后的举措？（ ）
- A. 为统一岭南，兴修灵渠
 - B. 设立三省六部制的中央官制
 - C. 以郡为最高地方行政区域，设郡守掌管
 - D. 修筑统一规格的道路并规定车轨的统一宽度
81. 小明一边阅读历史教材，一遍作批注，下列批注正确的是（ ）。
- A. 读到“1870年，英国在世界工业生产中占32%，美国占23%，德国占17%”，批注“英国是当时世界上最强大的工业国家”
 - B. 读到“西汉统治者从‘海内新定，同姓寡少，惩戒亡秦孤立之败’的认识出发，实行郡国并行制度”，批注“大大巩固了中央集权统治”
 - C. 读到“美国《独立宣言》发表”，批注“标志近代美国确立三权分立政治体制”
 - D. 读到“魏源撰写《海国图志》”，批注“魏源主张学习西方先进政治制度”
82. 植物的光合作用对地球生态起着至关重要的作用，下列关于光合作用的说法不正确的是（ ）。
- A. 效率受二氧化碳浓度影响
 - B. 分成光反应和暗反应两个阶段
 - C. 能够将水中的氧原子转化为氧气
 - D. 主要在植物细胞的线粒体中进行
83. 《论语》记载，孔子有一天路过季氏庭院，愤怒地说“八佾舞于庭，是可忍，孰不可忍”，孔子愤怒的原因是（ ）。
- A. 八佾舞的内容过于奢侈淫靡
 - B. 八佾舞超出了卿相之家的待遇
 - C. 季氏主张大肆征伐不行仁政
 - D. 季氏疏于学习沉迷声色犬马
84. 下列与诗人和诗句有关的说法不正确的是（ ）。
- A. “如果你因错过太阳而流泪，那你也将错过群星”是泰戈尔的名句
 - B. “生命诚可贵，爱情价更高，若为自由故，二者皆可抛”出自海涅

- C. 拜伦是 19 世纪英国著名的浪漫主义诗人
 - D. 《草叶集》是美国诗人惠特曼的代表作品
85. 下列物理现象可以用惯性解释的是 ()。
- A. 汽车紧急左转弯时, 车内乘客会向车厢右侧倾斜
 - B. 玻璃珠向前匀速运动撞到墙面时, 会被墙面弹回
 - C. 跳水运动员从跳台跳入水中时, 会溅起巨大水花
 - D. 飞机在飞行过程中如果遇到巨大气流会上下颠簸

第五部分 资料分析

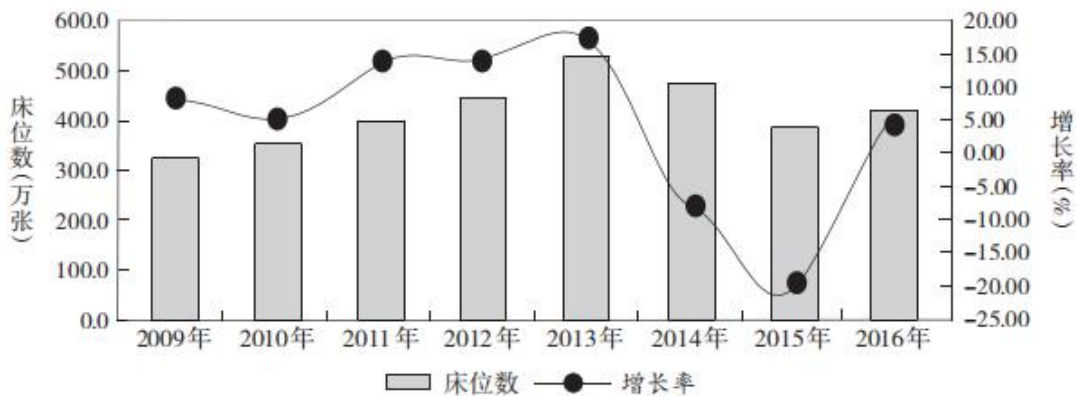
(共 15 题, 参考时限 15 分钟)

所给出的图、表或一段文字均有 5 个问题要你回答。你应根据资料提供的信息进行分析、比较、计算和判断处理。

请开始答题:

一、根据下列资料, 回答 86~90 题。

截至 2016 年底, 全国办理了注册登记手续的提供住宿的各类社会服务机构 3.2 万个, 其中登记注册为事业单位的机构 1.8 万个, 登记注册为民办非企业单位的 1.2 万个。机构内床位 414.0 万张, 年末收留抚养人员 241.0 万人。



截至 2016 年底, 全国 60 岁及以上老年人口 23086 万人, 占总人口的 16.7%, 其中 65 岁及以上人口 15003 万人, 占总人口的 10.8%。全国各类养老服务机构和设施 14.0 万个, 比上年增长 20.7%, 其中: 注册登记的养老服务机构 2.9 万个, 社区养老服务机构和设施 3.5 万个, 社区互助型养老设施 7.6 万个; 各类养老床位合计 730.2 万张, 比上年增长 8.6%(每千名老年人拥有养老床位 31.6 张, 比上年增长 4.3%), 其中社区留宿和日间照料床位 322.9 万张。

全国民政部门管理的智障与精神疾病服务机构共有 244 个, 床位 8.4 万张。其中社会福利医院(精神病院) 150 个, 床位数 5.3 万张, 年末收留抚养各类人员 4.4 万人; 复退军人精神病院 94 个, 床位数 3.1 万张, 年末收留抚养各类人员 2.5 万人。

提供住宿的儿童福利和保护服务。全国共有儿童收养救助服务机构 705 个, 床位 10.0 万张, 年末

收留抚养各类人员 5.4 万人。其中儿童福利机构 465 个，床位 9.0 万张；未成年人救助保护中心 240 个，床位 1.0 万张，全年共救助流浪乞讨未成年人 5.2 万人次。

全国共有其他提供住宿的社会服务机构 2371 个，床位 16.7 万张。其中各类救助管理机构 1736 个，床位 10.2 万张，全年救助生活无着流浪乞讨人员 328.3 万人次（在站救助 283.5 万人次，站外救助 44.7 万人次）。军供站 315 个，其他提供住宿的机构 320 个。

86. 2013~2016 年期间，各类提供住宿的社会服务机构床位增长量最多的是（ ）年。

- A. 2013 B. 2014 C. 2015 D. 2016

87. 2015 年底，每万名老年人拥有养老床位约（ ）张。

- A. 29 B. 30 C. 290 D. 300

88. 假设每年我国老年人数量增加 3%，2018 年底各类养老床位需要比 2016 年底增加（ ）万张才能确保平均每位老年人拥有的床位比 2015 年约增加 20%。

- A. 60 B. 90 C. 120 D. 160

89. 2016 年底，平均每个精神病院的床位约是儿童福利机构的（ ）倍。

- A. 1.6 B. 1.8 C. 2.1 D. 2.5

90. 能够从以上资料中推出的是（ ）。

- A. 2017 年底全国各类提供住宿的社会服务机构的总床位数
B. 2015 年底平均每个社区养老服务机构和设施拥有的床位数
C. 2015 年救助的流浪乞讨未成年人数量
D. 2016 年底全国总人口数

二、根据下列资料，回答 91~95 题。

2018 年 3 月末，我国本外币贷款余额 130.45 万亿元，同比增长 11.9%。月末人民币贷款余额 124.98 万亿元，同比增长 12.8%，增速与上月末持平，比上年同期高 0.4 个百分点。

一季度人民币贷款增加 4.86 万亿元，同比多增 6339 亿元。分部门看，住户部门贷款增加 1.75 万亿元，其中，短期贷款增加 4669 亿元，中长期贷款增加 1.29 万亿元；非金融企业及机关团体贷款增加 3.09 万亿元，其中，短期贷款增加 5987 亿元，中长期贷款增加 2.45 万亿元，票据融资减少 547 亿元；非银行业金融机构贷款减少 141 亿元。3 月份，人民币贷款增加 1.12 万亿元，同比多增 934 亿元。

3 月末，外币贷款余额 8704 亿美元，同比增长 4%。一季度外币贷款增加 324 亿美元，同比少增 186 亿美元。3 月份，外币贷款减少 223 亿美元，同比多减 288 亿美元。

91. 2018 年 3 月末，我国本外币贷款余额比上年同期增加多少万亿元？（ ）

- A. 12 B. 14 C. 16 D. 18

92. 与 2017 年 3 月末相比，2017 年底我国人民币贷款约增加多少万亿元？（ ）

- A. 6.8 B. 9.0 C. 9.3 D. 10.6

93. 2018 年一季度，人民币贷款增加值中，增长金额最多的是（ ）。

- A. 住户部门贷款的短期贷款
B. 住户部门贷款的中长期贷款

- C. 非金融企业及机关团体贷款的短期贷款
 D. 非金融企业及机关团体贷款的中长期贷款

94. 根据以上资料，以下无法推出的是（ ）。

- A. 2017 年 2 月末人民币贷款余额 B. 2016 年底人民币贷款余额
 C. 2016 年底外币贷款余额 D. 2016 年 3 月末外币贷款余额

95. 能够从以上资料中推出的是（ ）。

- A. 2017 年 3 月末，人民币贷款余额比上年同期增长 13.2%
 B. 2017 年 1~2 月，人民币贷款增加额比上年同期多增 5405 亿元
 C. 2017 年 3 月，外币贷款减少 65 亿美元
 D. 2017 年 3 月末，外币贷款余额约为 8369 亿美元

三、根据下列资料，回答 96~100 题。

2016 年，中国创业风险投资行业机构（VC 机构）数达到 2045 家，其中，创业风险投资基金（VC 基金）1421 家，创业风险投资管理机构（VC 管理机构）642 家。与国外相比，近年来我国创业风险投资发展迅猛，2016 年创投机构数量与管理资本规模仅次于美国。2016 年，美国创投机构数量达到 2460 家，管理资本总额为 22644 亿元。从投资阶段来看，近年来，外资、内资 VC 机构投资于早期项目（种子期、起步期）的占比明显增多。

中国 VC 机构数量和管理资本（2007~2016 年）

	2007	2008	2009	2010	2011	2012	2013	2014	2015	2016
现存的 VC 机构（家）	383	464	576	867	1096	1183	1408	1551	1775	2045
VC 基金（家）	331	410	495	720	860	942	1095	1167	1311	1421
VC 管理机构（家）	52	54	81	147	236	241	313	384	464	624
管理资本（亿元）	1112.9	1455.7	1605.1	2406.6	3198.0	3312.9	5232.4	3573.9	6653.3	8277.1

外资、内资创业风险投资项目所处阶段（2016 年）单位：%

投资阶段	投资金额		投资项目	
	外 资	内 资	外 资	内 资
种子期	9.4	4.3	24.9	19.5
起步期	23.0	30.4	38.5	38.4
成长（扩张）期	67.6	38.1	36.2	35.4
成熟（过渡）期	-	26.7	0.47	5.8
重建期	-	0.6	-	0.8

96. 2016 年，VC 机构数量同比增长了多少？（ ）

- A. 12.5% B. 14.7% C. 15.2% D. 17.6%

97. 2007~2016 年，哪一年 VC 基金数量占比最高？（ ）

- A. 2008 年 B. 2009 年 C. 2012 年 D. 2014 年

98. 2007~2016 年，平均每家 VC 机构管理资本超过 3 亿的有几个年份？（ ）
- A. 3 个 B. 4 个 C. 5 个 D. 6 个
99. 2016 年，内资创业风险投资项目平均投资金额最高的阶段是（ ）。
- A. 种子期 B. 起步期
C. 成长（扩张）期 D. 成熟（过渡）期
100. 下列说法正确的是（ ）。
- A. 2008~2016 年，VC 机构数量增长最快的是 2013 年
B. 若按照 2016 年 VC 机构数量的增长率，2 年后我国 VC 机构的数量将超过 2600 家
C. 2016 年，内资 VC 机构投资于起步期项目的投资金额大于外资 VC 机构
D. 2016 年，内资、外资 VC 机构投资于早期项目的项目数量占比都超过三分之二

2018年5月12日浙江省事业单位统考试卷

《综合应用能力》

注意：

1. 本卷为全主观题，请用黑色字迹的钢笔或签字笔在答题纸上作答，直接在试卷上作答无效；
2. 请在试卷、答题纸上严格按照要求填写姓名、填涂准考证号；
3. 本卷总分100分，考试时间为150分钟；
4. 特别提醒：请在答题纸规定的区域内作答，超出答题区域作答无效。

一、案例分析题（根据所给案例，回答后面的问题。50分）

案例一

“忽如一夜春风来，千树万树梨花开。”用岑参的这首诗来形容当下的知识付费再贴切不过。

“我参加了一个微信公众号的学习计划，学习内容有人格分析方面的，有文学方面的，还有一些管理方面的，都是平台通过筛选提供的，我认为比较实用，省得自己大海捞针，读书也变得有针对性。”市民罗先生说，“每天我抽出15分钟的碎片时间进行阅读，不耽误工作休息，我觉得很好，一共才199元，非常划算。”

“没想到知识学习消费大潮说来真的就来了，这么快！”一位网名为“读书还要去模仿”的订阅者留言说。像罗先生这样的消费者越来越多，随着职场工作的需要，给自己充电，而这种利用碎片化时间的学习模式受到越来越多人的认可，一个学习计划几百元的学费也是普通人能负担得起的。

市民黄女士是网络学习的拥趸，“我每天在网上学习英语，月消费差不多千元。这很划算，相当于一件衣服的钱”。在一家英语学习的知识共享平台上，推出的线上短期阅读训练营也十分火爆。每人收费近200元，仅仅一期的付费学员就超过400人。时间管理、名著新解、职场技能、英语提升、亲子教育等，只有你想不到的没有你找不到的。

从2010年起，北大国发院聘任教授薛老师，借助互联网讲授《经济学原理》和《法律经济学》两门课，其学员已经超过25万，遍布全国各地、从事着不同的职业。他们每天拿着手机聆听薛老师录制的10分钟音频课程，在线回答他前一天提出的思考题，学费是一年199元的专栏订阅费，截止今年3月薛老师在这一平台上的“营业额”已达到5000万元。目前，薛老师已辞去北大教职转而从事专栏平台授课，在他开设专栏的平台上有近30个不同领域的学者开设了付费专栏。比如天使投资人李某开设的“教你如何变得更值钱”的专栏，订阅人数超过17万，作家万某开设的西方书单解读专栏，订阅人数超过12万。

随着互联网的深度普及，杂乱无章、良莠不齐的互联网内容为用户带来筛选的困难，优质内容越来越成为稀缺品，分答、得到、知乎live等一大批知识付费平台走红。国家信息中心发布的《中国分享

《中国经济发展报告 2017》显示，去年我国知识领域市场交易额约为 610 亿元，同比增长 205%，使用人数约 3 亿，而同期，中国网民总数也不过 7 亿多一点。知识付费早已不再是小众游戏，甚至可以说，早已成为一部分人的“移动互联生活”新标配。

问题：结合实际，试分析网络知识付费兴起的动因。（20 分。字数不超过 300 字）

案例二

资料 1

4 月 8 日晚，A 市晚报记者接到市民高先生的来电，举报某马路市场早市期间经常有骗子进行抽奖骗人，“这类骗术太低级了。虽然媒体经常曝光，但还是有人前仆后继，屡屡上当。”第二天一大早，记者随同高先生来到该市场区域一探究竟。

6 点刚过，就有一名 30 多岁的男子来到市场出入口处，先摆上一张桌子，然后从两个塑料箱内拿出一些家用小电器，再拿出预备好的抽奖箱放置在桌面上。准备停当后，男子开始吆喝：“走过路过不要错过，免费大抽奖啦！咱这抽奖分一到八等奖，抽到一到六等奖的，东西免费给您；抽到七等、八等奖的，可以用成本价买下对应的商品，主要受厂家委托做个推广，卖的价格还不到市场价一半！”

此时，几名打托者假冒路人拥上前来。“我试试。”其中一个打托者上前抽奖。“嚯，大哥手气壮呀，是二等奖。这价值 200 元的电动按摩器归您了。”男子说罢将一个标注为电动按摩器的纸盒交给男子。“真是来着了。”打托者自言自语道，“大哥，要是还有心气，再抽一次吗？”男子蛊惑道。“可以呀。”打托者回应道。没出意外，他又抽中了一个价值百元的收音机。打托者拿着奖品，离开现场。不过他并没有走远，而是走到附近的一辆小货车边，打开车门，将物品放置到车厢内。

此时，一名买菜的 60 多岁的大娘看到此景，在周围打托者的忽悠下，也要一显身手。“大娘，刚才规则我都讲了。没中奖的要买走东西呀。”“听明白了，怎么我就不能中奖呢？”大娘回应。可巧的是，大娘抽中的奖项恰是需要购买物品的七等奖。大娘无奈掏出 200 元买下了电动按摩器。“大娘，再试试吧。抽中前几等奖，不就把钱找回来了吗？”大娘经不住中年女子打托者的忽悠，再次出手，不幸又中招，再次花 200 元买下了一个所谓价值 200 元的茶具。或是怕有人惊扰了骗局，大娘返身离去时，一名打托的中年妇女在大娘身后尾随了一段路程后，确认大娘不会报警后离开了。

高先生告诉记者，基本上每周都能看到这些骗子在此处早市上不是抽奖，就是卖祖传家具，专门向中老年下手，忽悠他们上当受骗。“这些骗子在此骗人的次数都数不清了，周围的商贩也很清楚。就是因为骗子人多势众，没有人愿意惹麻烦，眼看着有人受骗也不敢言语。我报警都好几次了，但一直没见什么效果。有一次警车倒是来了，民警还没下车，在对面马路闪警灯，而骗子们好像无动于衷，仍然在那里继续骗。此外骗子们还利用出售鹿茸之类名贵药材来坑骗不明就里的中老年人。”

资料 2

“走过路过，不要错过，X 克、X 迪统统一百元一双”“阿姨，看看我们这款产品，对多种疾病有预防和治疗作用”“叔叔，留个电话登记一下，免费送块透明皂”……

连日来，记者在西部某省会城市的多个早市走访发现，一些不法商家盯上了逛早市的老年人。与蔬菜水果商贩对所有顾客都“一视同仁”不同，早市及其周边区域摆摊卖品牌运动鞋、推销保健品、号称留下个人信息就能免费配老花镜或领透明皂的商贩，对老年人更青睐。

一位穿着白大褂散发传单推介保健品的中年女性，看到老年人就亲切地叫叔叔喊阿姨，没等对方接话便拿着传单开讲，即使发现老人不感兴趣，依然微笑着询问能否留个电话回头联系。而当记者凑上前去想要份传单，看看其推介的是什么产品时，这位“白大褂”却躲躲闪闪。

一张摆在早市路口的桌子上放着一个装满镜片的手提木箱，旁边是一支笔和用于登记配镜者个人信息的几页纸，这便是只要留下个人信息就能为老年人免费配老花镜的小摊。然而，记者在现场没看到相关验光配镜资质。

“那种一百元一双的运动鞋，年轻人可能一看就知道是不是正品，但一些老年人通常会被销售者以‘库存清仓’‘顶账货’等说辞蒙蔽。”一家知名运动品牌店的负责人告诉记者，早市上那些一百元一双的“名牌”运动鞋除了极有可能不是正品外，其设计是否合理、用料是否环保也都很难说，如果运动不成反伤身就很不划算。

留下姓名、电话等信息就送礼物，难道真是老年人赚了？记者采访了一位被一家所谓投资理财公司骗走 20 余万元的刘姓老人，他就是从一袋洗衣粉开始逐渐被“套路”的——“逛早市的时候，一个小姑娘说‘叔，登记个信息就能免费领洗衣粉’，我想这是好事，就留了姓名和电话。”这位老人说，没过几天，小姑娘给他打电话说公司有一个理财项目利息很高，去公司了解的话给送一斤鸡蛋，听完不买产品也没关系。

从留下个人信息开始，听了几次课，刘姓老人便把 20 余万养老钱投入了那家投资公司，最后老板跑路，他欲哭无泪。老人说，被骗之后他逐渐关注到，现在一些假冒伪劣保健品的销售人员对老年人个人信息也很感兴趣。这些销售人员的套路和个别投资公司几乎如出一辙，他们在早市获取老年人个人信息后，往往通过“专家健康讲座”“上门义诊”“免费抽奖”“免费旅游”等手段，夸大产品效果，用虚假宣传欺骗消费者。

事实上，骗子在早市上“围猎”老人的情况不只发生在西部地区。查阅媒体报道不难发现，“早市上免费送净水器是套路”“早市免费礼品专骗老人”等新闻在多地都曾出现，这也说明此类现象并非个例。

问题：从市场监管执法的角度，谈谈如何斩断早市上伸向老年人的“黑手”。（30 分。字数不超过 400 字）

二、作文题（阅读以下材料，然后按后面的要求作答。50 分）

地处祖国西部荒漠间的酒泉卫星发射中心，是中国航天的圣地。50 多年来，中国核导弹从这里腾飞，东方红卫星从这里升空，神舟飞船从这里起航。这里的东风烈士陵园里躺着无数的英灵。他们为祖国和人民建立了赫赫功勋，但其中绝大多数英烈都是默默无闻。

结合以上材料，联系实际，以“无名”为话题，自选角度、自拟题目，写一篇议论文。要求主题鲜明，内容充实，论述有力。字数 1000 字左右。

展鸿 2019 年丽水事业单位笔试课程

课程咨询：18667045917 傅老师（同微信）

QQ 群：347690121

课程名称	课程特色	课程时间	收费模式	上课地点
——线下面授： 网面一体 + 梯度教学 + 讲练结合 + 考前突击——				
高复重点班	小班精炼 研新求变 分模块梯度教学	20 天 19 晚 10 月 19 日-11 月 7 日	9800 元	 咨询：傅老师 18667045917 微信同号 丽水各县市当地 酒店
高复模式 全程协议班	基础阶段细讲精练 弱项提高查漏补缺 冲刺阶段强化拔高 全方位提升	笔试+面试	20800 元 未录取退 12000 (包含笔试、面试、体检、政审)	
周末速成班	重点 难点 易考点 易错点 四点专攻 高效提升 查漏补缺 冲刺瓶颈	4 天 6 晚	1880 元	
周末速成 全程协议班		10 月 25-27 日 11 月 1-3 日	13500 元 笔试未进退 12000 面试未过全额退费 (包含面试、体检、政审)	
名师状元班	模块精讲 过程阶段提升	7 天 6 晚 11 月 1 日-11 月 7 日	4000 元	
名师状元 全程协议班	模考刷题 直面错题难题 封闭教学 全程督学服务	笔试+面试	15500 元 笔试未进退 12000 面试未过全额退费 (包含面试、体检、政审)	
综应超神班	综合应用能力 专项讲练	3 天 2 晚 11 月 5 日-11 月 7 日	1280 元	
——线上网课： 随时随地 + 即报即学 + 无限回放 + 附赠资料——				
考情分析课	历年考情分析 常考题型点睛 当地特色透析 复习重点指导	1 场	9.9 元	32 学院网校
超值 精讲网课	职测+综应 考点全覆盖 内容精准到位 随报随学 无限回放	随报随学 无限回放	 780 元 赠送资料 扫码报名	